

ST-2048 RRB CLERK (MAINS) 2020 (PRACTICE)

Passage for Question 1, 2, 3, 9, 40 (ST-02 SBIASSO.BCL(16-20)2015)

eng Passage

Read the following information and answer the questions given below-

In a family of six members A, B, C, D, E and F each plays one game out of six games Football, Hockey, Golf, Pool, Tennis and Swimming. There are two married couples. B who plays Hockey, is daughter – in – law of E. A is father of D who is a Golf player and D is father of C who is a swimmer. F is brother of C. Football is not played by any female member. E's husband plays pool.

hi Passage

निम्नलिखित सूचनाओं को ध्यानपूर्वक पढ़कर नीचे दिये गये प्रश्नों के उत्तर दीजिये-

छ: लोगों A, B, C, D, E और F में से प्रत्येक छ: विभिन्न खेलों -फुटबॉल, हॉकी, गोल्फ, पूल, टेनिस और तैराकी में से एक खेल खेलता है। उनमें दो विवाहित जोड़े हैं। B जो हॉकी खेलती है E की डॉटर-इन-लॉ है। A, D का पिता है जो गोल्फ खेलता है और D, C का पिता है जो तैराक है। F, C का भाई है। कोई महिला सदस्य फुटबॉल नहीं खेलती है। E का पति पूल खेलता है।

Q-1 Who is tennis player?

eng

- | | |
|-------|-------|
| 01. A | 02. D |
| 03. E | 04. C |
| 05. B | |

Q-1 टेनिस खिलाड़ी कौन है?

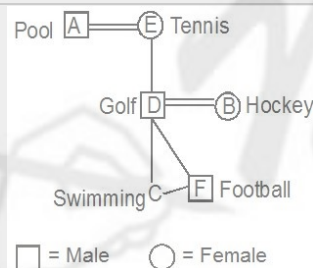
hi

- | | |
|-------|-------|
| 01. A | 02. D |
| 03. E | 04. C |
| 05. B | |

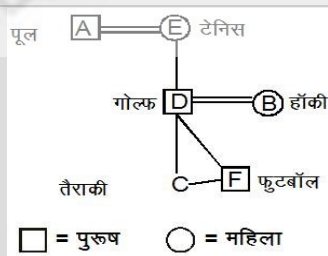
Solution for Question 1

Ans Key: 3

eng



hi



Q-2 How is C related to B?

eng

- | | |
|--------------|-------------------------|
| 01. Daughter | 02. Son |
| 03. Brother | 04. Can't be determined |
| 05. Mother | |

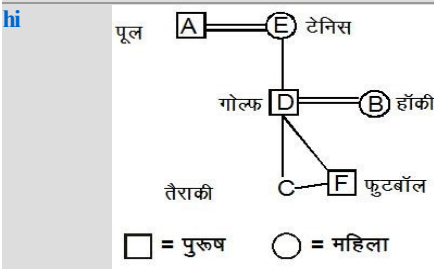
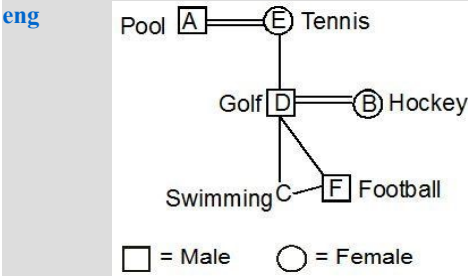
Q-2 C, B से किस प्रकार संबंधित है?

hi

- | | |
|------------|---------------------------------|
| 01. पुत्री | 02. पुत्र |
| 03. भाई | 04. निर्धारित नहीं किया जा सकता |
| 05. माता | |

Solution for Question 2

Ans Key: 4



Q-3 Which of the following is not correct?

eng

- | | |
|----------------|----------------|
| 01. A-Pool | 02. B-Hockey |
| 03. F-Football | 04. C-Swimming |
| 05. E-Golf | |

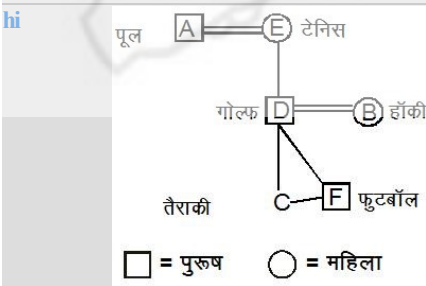
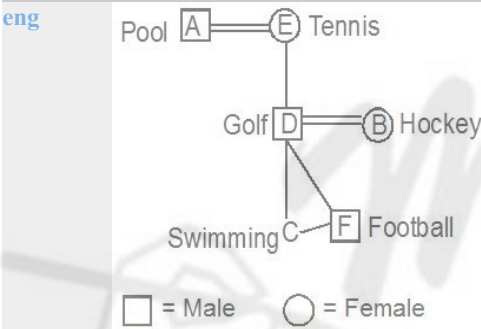
Q-3 निम्नलिखित में से कौन सा सही नहीं है?

hi

- | | |
|--------------|--------------|
| 01. A-पूल | 02. B-हॉकी |
| 03. F-फुटबॉल | 04. C-तैराकी |
| 05. E-गोल्फ | |

Solution for Question 3

Ans Key: 5



Passage for Question 4, 5, 6, 7, 8 (ST-03 SBI PO PRE (16-20) 2016)

eng Passage

A word and number arrangement machine when given an input line of words and numbers rearranges them following a particular rule in each step. The following is an illustration of an input and rearrangement given below.

Input: Digital India 17 20 make in 23 43 56 16 network internet

Step I: 16 digital India 20 make in 23 43 56 network internet 17

Step II: 20 16 digital India make in 43 56 network internet 17 23

Step III: 56 20 16 digital India make in network internet 17 23 43

Step IV: digital 56 20 16 India make network internet 17 23 43 in

Step V: India digital 56 20 16 make network 17 23 43 in internet

Step VI: make India digital 56 20 16 17 23 43 in internet network.

Step-VI is the last Step. As per the rules followed in the above Input, give the answer of the following questions.

Input: 60 minutes 10 13 seconds time hour 9 30 19 69 clock hands 40

एक शब्द और एक संख्या व्यवस्थापन मशीन को जब कोई इनपुट दिया जाता है तो वह इनपुट के शब्दों और संख्याओं को किसी नियम-विशेष के आधार पर प्रत्येक चरण में व्यवस्थित करती रहती है। इनपुट का एक उदाहरण और पुनर्व्यवस्था निम्न प्रकार से नीचे दी गयी है -

इनपुट: Digital India 17 20 make in 23 43 56 16 network internet

चरण I: 16 digital India 20 make in 23 43 56 network internet 17

चरण II: 20 16 digital India make in 43 56 network internet 17 23

चरण III: 56 20 16 digital India make in network internet 17 23 43

चरण IV: digital 56 20 16 India make network internet 17 23 43 in

चरण V: India digital 56 20 16 make network 17 23 43 in internet

चरण VI: make India digital 56 20 16 17 23 43 in internet network.

चरण VI आखरी चरण है। उपरोक्त इनपुट में प्रयोग किए गए नियमों के आधार पर नीचे दिए गए प्रश्नों के उत्तर दें।

इनपुट: 60 minutes 10 13 seconds time hour 9 30 19 69 clock hands 40

Q-4 How many elements are between clock and hands in step number IV?

eng

- | | |
|----------|-----------|
| 01. None | 02. One |
| 03. Two | 04. Three |
| 05. Four | |

Q-4 चरण IV में clock और hands के बीच में कितने तत्व हैं?

hi

- | | |
|--------------|---------|
| 01. कोई नहीं | 02. एक |
| 03. दो | 04. तीन |
| 05. चार | |

Solution for Question 4

Ans Key: 1

eng

Input: 60 minutes 10 13 seconds time hour 9 30 19 69 clock hands 40

Step I : 10 60 minutes 13 seconds time hour 30 19 69 clock hands 40 9

Step II : 30 10 60 minutes seconds time hour 19 69 clock hands 40 9 13

Step III : 40 30 10 60 minutes seconds time hour 69 clock hands 9 13 19

Step IV: 60 40 30 10 minutes seconds time hour clock hands 9 13 19 69

Step V: clock 60 40 30 10 minutes seconds time hour 9 13 19 69 hands

Step VI: hour clock 60 40 30 10 seconds time 9 13 19 69 hands minutes

Step VII: seconds hour clock 60 40 30 10 9 13 19 69 hands minutes time

Step VII is the last Step.

hi

इनपुट: 60 minutes 10 13 seconds time hour 9 30 19 69 clock hands 40

चरण I : 10 60 minutes 13 seconds time hour 30 19 69 clock hands 40 9

चरण II : 30 10 60 minutes seconds time hour 19 69 clock hands 40 9 13

चरण III : 40 30 10 60 minutes seconds time hour 69 clock hands 9 13 19

चरण IV: 60 40 30 10 minutes seconds time hour clock hands 9 13 19 69

चरण V: clock 60 40 30 10 minutes seconds time hour 9 13 19 69 hands

चरण VI: hour clock 60 40 30 10 seconds time 9 13 19 69 hands minutes

चरण VII: seconds hour clock 60 40 30 10 9 13 19 69 hands minutes time

चरण VII आखरी चरण है .

Q-5 How many steps will be required to complete the final output of the given input?

eng

- | | |
|-------------------|--------|
| 01. V | 02. VI |
| 03. VII | 04. IV |
| 05. None of These | |

Q-5 दिए गए इनपुट को पूरा करने के लिए कितने चरणों की आवश्यकता होगी?

hi

- | | |
|---------|--------|
| 01. V | 02. VI |
| 03. VII | 04. IV |

Solution for Question 5

eng

Input: 60 minutes 10 13 seconds time hour 9 30 19 69 clock hands 40

Step I : 10 60 minutes 13 seconds time hour 30 19 69 clock hands 40 9

Step II : 30 10 60 minutes seconds time hour 19 69 clock hands 40 9 13

Step III : 40 30 10 60 minutes seconds time hour 69 clock hands 9 13 19

Step IV: 60 40 30 10 minutes seconds time hour clock hands 9 13 19 69

Step V: clock 60 40 30 10 minutes seconds time hour 9 13 19 69 hands

Step VI: hour clock 60 40 30 10 seconds time 9 13 19 69 hands minutes

Step VII: seconds hour clock 60 40 30 10 9 13 19 69 hands minutes time

Step VII is the last Step.

hi

इनपुट: 60 minutes 10 13 seconds time hour 9 30 19 69 clock hands 40

चरण I : 10 60 minutes 13 seconds time hour 30 19 69 clock hands 40 9

चरण II : 30 10 60 minutes seconds time hour 19 69 clock hands 40 9 13

चरण III : 40 30 10 60 minutes seconds time hour 69 clock hands 9 13 19

चरण IV: 60 40 30 10 minutes seconds time hour clock hands 9 13 19 69

चरण V: clock 60 40 30 10 minutes seconds time hour 9 13 19 69 hands

चरण VI: hour clock 60 40 30 10 seconds time 9 13 19 69 hands minutes

चरण VII: seconds hour clock 60 40 30 10 9 13 19 69 hands minutes time

चरण VII आखिरी चरण है .

Q-6
eng

What is the position of 'seconds' in Step number III from left?

01. Fifth from the right
02. Sixth from the left
03. Fourth from the left
04. Fifth from the left
05. None of these

Q-6
hi

चरण III में बाएँ छोर से 'seconds' का क्या स्थान होगा?

01. दायें से पांचवा
02. बायें से छठा:
03. बायें से चौथा
04. बायें से पांचवा
05. इनमें से कोई नहीं

Solution for Question 6

Ans Key: 2

eng

Input: 60 minutes 10 13 seconds time hour 9 30 19 69 clock hands 40

Step I : 10 60 minutes 13 seconds time hour 30 19 69 clock hands 40 9

Step II : 30 10 60 minutes seconds time hour 19 69 clock hands 40 9 13

Step III : 40 30 10 60 minutes seconds time hour 69 clock hands 9 13 19

Step IV: 60 40 30 10 minutes seconds time hour clock hands 9 13 19 69

Step V: clock 60 40 30 10 minutes seconds time hour 9 13 19 69 hands

Step VI: hour clock 60 40 30 10 seconds time 9 13 19 69 hands minutes

Step VII: seconds hour clock 60 40 30 10 9 13 19 69 hands minutes time

Step VII is the last Step.

hi

इनपुट: 60 minutes 10 13 seconds time hour 9 30 19 69 clock hands 40

चरण I : 10 60 minutes 13 seconds time hour 30 19 69 clock hands 40 9

चरण II : 30 10 60 minutes seconds time hour 19 69 clock hands 40 9 13

चरण III : 40 30 10 60 minutes seconds time hour 69 clock hands 9 13 19

चरण IV: 60 40 30 10 minutes seconds time hour clock hands 9 13 19 69

चरण V: clock 60 40 30 10 minutes seconds time hour 9 13 19 69 hands

चरण VI: hour clock 60 40 30 10 seconds time 9 13 19 69 hands minutes

चरण VII: seconds hour clock 60 40 30 10 9 13 19 69 hands minutes time

चरण VII आखिरी चरण है .

Q-7 Which of the following steps is the Step V of the given input?

eng

01. Clock 30 40 60 10 minutes seconds time hour 69 19 13 9 hands. 02. 10 30 40 60 clock minutes seconds time hour hands 9 13 19 69.
03. Clock 60 40 30 10 minutes seconds time hours 9 13 19 69 hands. 04. Clock 60 40 30 10 minutes seconds time hours 13 19 69 9 hands.
05. None of these.

Q-7 निम्न में से दिए गये इनपुट में V चरण कौन-सा होगा ?

hi

01. Clock 30 40 60 10 minutes seconds time hour 69 19 13 9 hands. 02. 10 30 40 60 clock minutes seconds time hour hands 9 13 19 69.
03. Clock 60 40 30 10 minutes seconds time hours 9 13 19 69 hands. 04. Clock 60 40 30 10 minutes seconds time hours 13 19 69 9 hands.
05. None of these.

Solution for Question 7

Ans Key: 3

eng

Input: 60 minutes 10 13 seconds time hour 9 30 19 69 clock hands 40
Step I : 10 60 minutes 13 seconds time hour 30 19 69 clock hands 40 9
Step II : 30 10 60 minutes seconds time hour 19 69 clock hands 40 9 13
Step III : 40 30 10 60 minutes seconds time hour 69 clock hands 9 13 19
Step IV: 60 40 30 10 minutes seconds time hour clock hands 9 13 19 69
Step V: clock 60 40 30 10 minutes seconds time hour 9 13 19 69 hands
Step VI: hour clock 60 40 30 10 seconds time 9 13 19 69 hands minutes
Step VII: seconds hour clock 60 40 30 10 9 13 19 69 hands minutes time
Step VII is the last Step.

hi

इनपुट: 60 minutes 10 13 seconds time hour 9 30 19 69 clock hands 40
चरण I : 10 60 minutes 13 seconds time hour 30 19 69 clock hands 40 9
चरण II : 30 10 60 minutes seconds time hour 19 69 clock hands 40 9 13
चरण III : 40 30 10 60 minutes seconds time hour 69 clock hands 9 13 19
चरण IV: 60 40 30 10 minutes seconds time hour clock hands 9 13 19 69
चरण V: clock 60 40 30 10 minutes seconds time hour 9 13 19 69 hands
चरण VI: hour clock 60 40 30 10 seconds time 9 13 19 69 hands minutes
चरण VII: seconds hour clock 60 40 30 10 9 13 19 69 hands minutes time
चरण VII आखिरी चरण है .

Q-8 How many more steps will be required to complete the final step for the given input?

eng

Input: 40 30 10 60 minutes seconds time hour 69 clock hands 9 13 19

01. Two 02. Three
03. Four 04. Five
05. There is no such step.

Q-8 दिए गये इनपुट को पूरा करने के लिए कितने और अधिक चरणों की आवश्यकता होगी ?

hi

इनपुट: 40 30 10 60 minutes seconds time hour 69 clock hands 9 13 19

01. दो 02. तीन
03. चार 04. पांच
05. ऐसा कोई चरण नहीं है

Solution for Question 8

Ans Key: 3

eng

Input: 60 minutes 10 13 seconds time hour 9 30 19 69 clock hands 40

Step I : 10 60 minutes 13 seconds time hour 30 19 69 clock hands 40 9

Step II : 30 10 60 minutes seconds time hour 19 69 clock hands 40 9 13

Step III : 40 30 10 60 minutes seconds time hour 69 clock hands 9 13 19

Step IV: 60 40 30 10 minutes seconds time hour clock hands 9 13 19 69

Step V: clock 60 40 30 10 minutes seconds time hour 9 13 19 69 hands

Step VI: hour clock 60 40 30 10 seconds time 9 13 19 69 hands minutes

Step VII: seconds hour clock 60 40 30 10 9 13 19 69 hands minutes time

Step VII is the last Step.

इनपुट: 60 minutes 10 13 seconds time hour 9 30 19 69 clock hands 40

चरण I : 10 60 minutes 13 seconds time hour 30 19 69 clock hands 40 9

चरण II : 30 10 60 minutes seconds time hour 19 69 clock hands 40 9 13

चरण III : 40 30 10 60 minutes seconds time hour 69 clock hands 9 13 19

चरण IV: 60 40 30 10 minutes seconds time hour clock hands 9 13 19 69

चरण V: clock 60 40 30 10 minutes seconds time hour 9 13 19 69 hands

चरण VI: hour clock 60 40 30 10 seconds time 9 13 19 69 hands minutes

चरण VII: seconds hour clock 60 40 30 10 9 13 19 69 hands minutes time

चरण VII आखिरी चरण है .

Passage for Question 1, 2, 3, 9, 40 (ST-02 SBIASSO.BCL(16-20)2015)

eng Passage

Read the following information and answer the questions given below-

In a family of six members A, B, C, D, E and F each plays one game out of six games Football, Hockey, Golf, Pool, Tennis and Swimming. There are two married couples. B who plays Hockey, is daughter – in – law of E. A is father of D who is a Golf player and D is father of C who is a swimmer. F is brother of C. Football is not played by any female member. E's husband plays pool.

hi Passage

निम्नलिखित सूचनाओं को ध्यानपूर्वक पढ़कर नीचे दिये गये प्रश्नों के उत्तर दीजिये-

छ: लोगों A, B, C, D, E और F में से प्रत्येक छः विभिन्न खेलों -फुटबॉल, हॉकी, गोल्फ, पूल, टेनिस और तैराकी में से एक खेल खेलता है। उनमें दो विवाहित जोड़े हैं। B जो हॉकी खेलती है E की डॉटर-इन-लाँ है। A, D का पिता है जो गोल्फ खेलता है और D, C का पिता है जो तैराक है। F, C का भाई है। कोई महिला सदस्य फुटबॉल नहीं खेलती है। E का पति पूल खेलता है।

Q-9 How many male members are there in the group?

eng

- | | |
|-------------------------|-----------|
| 01. None | 02. One |
| 03. Two | 04. Three |
| 05. Can't be determined | |

Q-9 समूह में कितने पुरुष सदस्य हैं?

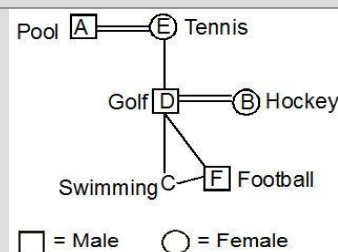
hi

- | | |
|---------------------------------|---------|
| 01. कोई नहीं | 02. एक |
| 03. दो | 04. तीन |
| 05. निर्धारित नहीं किया जा सकता | |

Solution for Question 9

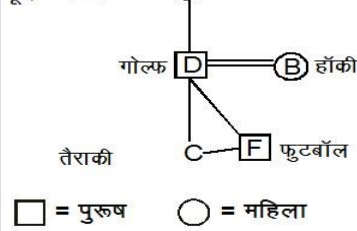
Ans Key: 5

eng



hi





Q-10
eng

In each question given below three statements are followed by two conclusions numbered I and II. You have to take the three given statements to be true (even if they seem to be at variance from the commonly known facts). Read the conclusions and decide which logically follows.

Statements :

- All open are load.
- Some open are comments
- Some comments are work.

Conclusions :

- I. Some comments being work is a possibility
- II. Some work being load is a possibility

Give answer-

- 01. If only conclusion I follows.
- 02. If only conclusion II follows.
- 03. If either conclusion I or II follows.
- 04. If neither conclusion I nor II follows.
- 05. If both conclusions I and II follow.

Q-10
hi

नीचे प्रत्येक प्रश्न में तीन कथन व दो निष्कर्ष I और II दिए गए हैं। आपको दिये गये तीनों कथनों को सही मानना है (चाहे वे सामान्यतया सही तथ्यों से भिन्न क्यों न हों)। निष्कर्षों को पढ़ें और यह तय करें कि कौन से निष्कर्ष तार्किक रूप से अनुसरण करते हैं।

कथन:

- सभी दाता, भारी हैं।
- कुछ दाता, समीक्षा हैं।
- कुछ समीक्षा, काम हैं।

निष्कर्ष:

- I. कुछ समीक्षा, के काम होने की एक संभावना है।
- II. कुछ काम के भारी होने की एक संभावना है।

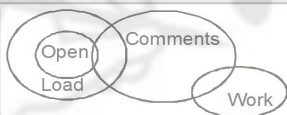
उत्तर दीजिए-

- 01. यदि निष्कर्ष I अनुसरण करता है।
- 02. यदि निष्कर्ष II अनुसरण करता है।
- 03. यदि या तो निष्कर्ष I या II अनुसरण करता है।
- 04. यदि न तो निष्कर्ष I न ही II अनुसरण करता है।
- 05. यदि निष्कर्ष I और II दोनों अनुसरण करते हैं।

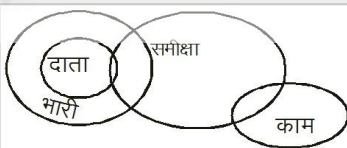
Solution for Question 10

Ans Key: 2

eng



hi



Q-11
eng

The question given below contain two statements giving certain data. You have to decide whether the data given in the statements are sufficient for answering the questions. Mark answer -

Amongst five friends P, Q, R, S and T seated in straight line facing South, who sits to the immediate left of Q?

- I. P sits third to the right of Q. T is not at the right hand side of Q.
- II. Q sits third to the left P. T does not sit between P and Q.

- 01. If statement I alone is sufficient but statement II alone is not sufficient.
- 02. If statement II alone is sufficient but statement I alone is not sufficient.
- 03. If each statement alone (either I or II) is sufficient.
- 04. If statement I and II together are not sufficient.
- 05. If both statement together are sufficient, but neither statement alone is sufficient.

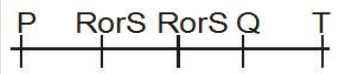
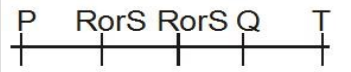
Q-11
hi

नीचे दिए गए प्रश्नों में दो कथनों के माध्यम से कुछ जानकारी दी गई है। आपको यह निर्णय करना है कि क्या कथनों में दी गई जानकारी उत्तर देने के लिए पर्याप्त है। उत्तर दीजिए-

पाँच मित्र P, Q, R, S और T दक्षिण की ओर मुख करके एक पंक्ति में बैठे हैं उनमें से कौन Q के तुरंत बाएं बैठेगा ?

- I. P, Q के दाएं तीसरा है। T, Q के दायें तरफ नहीं है।
 II. Q, P के बाएं तीसरा है। T, P और Q के बीच में नहीं बैठता है।

01. यदि केवल कथन I ही पर्याप्त है लेकिन केवल कथन II पर्याप्त नहीं है।
 02. यदि केवल कथन II ही पर्याप्त है लेकिन केवल कथन I पर्याप्त नहीं है।
 03. यदि या केवल I या केवल II पर्याप्त हैं।
 04. यदि I व II दोनों अपर्याप्त हैं।
 05. यदि दोनों कथन I व II एक साथ पर्याप्त हैं लेकिन अलग-अलग पर्याप्त नहीं हैं।

Solution for Question 11		Ans Key: 1
eng		
hi		

Passage for Question 12, 13, 16, 19, 24 (ST-133 CWEBCL (22-26) 2014)

eng Passage

Study the following information carefully and answer the questions given below.

Six executives Verma, Khanna, Gupta, Mishra, Singh and Rastogi are of a distinguished paint enterprise are travelling in four cars to attend a seminar in Delhi. One person is driving each car and there are not more than two persons in any one of the cars. These cars are running one after the other from first to fourth. Gupta and Rastogi are travelling in different cars. The first and the fourth have only one person in the car. The car, which Verma is drawing, Mishra is the only traveller in that car. Singh is the only person in one of the cars.

hi Passage

निम्नलिखित जानकारी का ध्यानपूर्वक अध्ययन कीजिये और नीचे दिये गये प्रश्नों के उत्तर दीजिये-

एक प्रतिष्ठित पेंट उद्यम के छह प्रतिनिधि वर्मा, खन्ना, गुप्ता, मिश्रा, सिंह और रस्तोगी एक सेमिनार में शामिल होने के लिये, चार कारों में, दिल्ली जा रहे हैं। प्रत्येक कार को एक व्यक्ति चला रहा है और किसी भी कार में दो से अधिक व्यक्ति नहीं हैं। ये कारें पहली से लेकर चौथी तक एक के बाद एक चल रही हैं। गुप्ता और रस्तोगी अलग-अलग कारों में यात्रा कर रहे हैं। पहली और चौथी कार में केवल एक ड्राइवर है। वर्मा जो कार चला रहे हैं, और उसमें केवल मिश्रा यात्री हैं। एक कार में सिंह एकमात्र व्यक्ति हैं।

Q-12 If only Rastogi and Khanna are in the same car, which of the following people could be in the first car?

eng

01. Verma
 02. Khanna
 03. Gupta
 04. Rastogi
 05. None of these

Q-12 यदि केवल रस्तोगी और खन्ना एक ही कार में है तो निम्न लोगों में से कौन पहली कार में हो सकता है?

hi

01. वर्मा
 02. खन्ना
 03. गुप्ता
 04. रस्तोगी
 05. इनमें से कोई नहीं

Solution for Question 12		Ans Key: 3
eng	Car 1 : Singh/Rastogi/Gupta/Khanna Car 2: Verma, Mishra/Gupta Khana/Khanna, Rastogi Car 3: Verma, Mishra/Gupta Khanna/Khanna/Rastogi. Car 4: Singh/Rastogi/Gupta/Khanna Car 1 : Singh/Gupta Car 2 : Rastogi, Khanna/Verma, Mishra Car 3: Rastogi, Khanna/Verma, Mishra Car 4: Singh/Gupta	
hi	कार 1: सिंह/रस्तोगी/गुप्ता/खन्ना कार 2 : वर्मा, मिश्रा/गुप्ता खन्ना/खन्ना, रस्तोगी कार 3 : वर्मा, मिश्रा/गुप्ता खन्ना/ खन्ना/रस्तोगी, कार 4 : सिंह/रस्तोगी/गुप्ता/खन्ना कार 1: सिंह/रस्तोगी कार 2: वर्मा, मिश्रा कार 3: खन्ना, गुप्ता कार 4: सिंह, रस्तोगी	

Q-13 If in third car, only Khanna and Gupta is there, which of the following is definitely true?

eng

faces the centre then the other faces outside and vice-versa.

O sits second to the left of M. M faces the centre. K sits to the immediate left of O. Only three people live between K and J. P sits third to the left of J. L sits to the immediate left of N. Immediate neighbours of K face opposite directions(i.e. if one neighbour faces the centre, the other neighbour faces outside and vice-versa). N sits third to the right of K. Both N and L face opposite directions. Q faces the same direction as K.

hi Passage

निम्नलिखित जानकारी को ध्यान से पढ़िए और नीचे दिए गये प्रश्नों के उत्तर दीजिए।

J, K, L, M, N, O, P और Q एक वृताकार क्षेत्र के गिर्द समान दूरी पर बैठे हैं, लेकिन जरूरी नहीं कि एक ही क्रम में हों। कुछ लोग केंद्र की तरफ मुख करके बैठें हैं जबकि कुछ लोग केंद्र से विपरीत दिशा में मुख करके बैठें हैं।

नोट: एक ही दिशा में देखने का मतलब है की यदि कोई व्यक्ति केंद्र की तरफ देख रहा है तब दूसरा भी केंद्र की तरफ ही देख रहा है। विपरीत दिशा का मतलब है कि अगर एक व्यक्ति केंद्र की तरफ देख रहा है तो दूसरा व्यक्ति केंद्र से विपरीत दिशा में देख रहा होगा और उसी तरह से इसका विपरीत।

O, M से बायें दूसरे बैठा है। M का मुख केंद्र की तरफ है। K, O के तुरंत बाईं ओर बैठा है। K और J के बीच केवल तीन लोग बैठे हैं। P, J के बायें तीसरा बैठा है। L, N के तुरंत बाईं ओर है। K के तुरंत पड़ोसी विपरीत दिशा में मुख करके बैठे हैं (यानी अगर एक पड़ोसी केंद्र की तरफ देख रहा है, तब दूसरा केंद्र के विपरीत देख रहा है और उसी तरह से इसका विपरीत)। N, K के तीसरे दायें ओर बैठा है। N और L दोनों ही एक दूसरे से विपरीत दिशा में देख रहे हैं। Q उसी दिशा में देख रहा है जिस दिशा में K का मुख है।

Q-15 Who sits exactly between O and P, when counted from the left of O?

eng

- | | |
|-------|-------|
| 01. Q | 02. K |
| 03. L | 04. N |
| 05. J | |

Q-15 O, की बायें तरफ से गिनने पर कौन-सा व्यक्ति O और P के ठीक मध्य में बैठा है ?

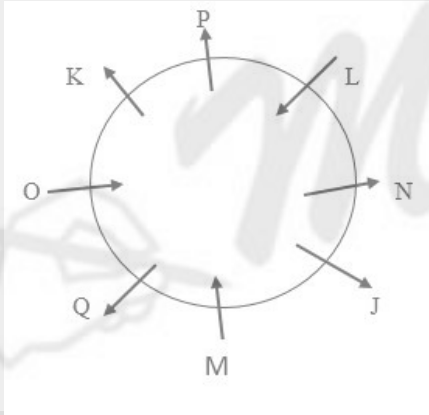
hi

- | | |
|-------|-------|
| 01. Q | 02. K |
| 03. L | 04. N |
| 05. J | |

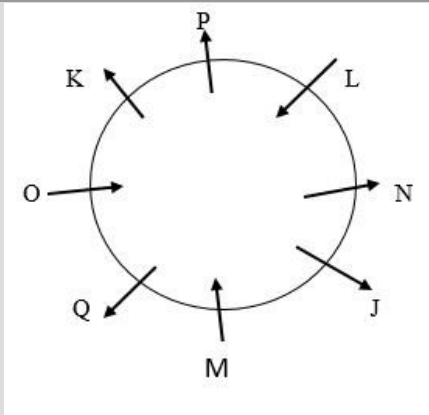
Solution for Question 15

Ans Key: 2

eng



hi



Passage for Question 12, 13, 16, 19, 24 (ST-133 CWEBCL (22-26) 2014)

eng Passage

Study the following information carefully and answer the questions given below.

Six executives Verma, Khanna, Gupta, Mishra, Singh and Rastogi are of a distinguished paint enterprise are travelling in four cars to attend a seminar in Delhi. One person is driving each car and there are not more than two persons in any one of the cars. These cars are running one after the other from first to fourth. Gupta and Rastogi are travelling in different cars. The first and the fourth have only one person in the car. The car, which Verma is drawing, Mishra is the only traveller in that

car. Singh is the only person in one of the cars.

hi Passage

निम्नलिखित जानकारी का ध्यानपूर्वक अध्ययन कीजिये और नीचे दिये गये प्रश्नों के उत्तर दीजिये-

एक प्रतिष्ठित पेंट उद्यम के छह प्रतिनिधि वर्मा, खन्ना, गुप्ता, मिश्रा, सिंह और रस्तोगी एक सेमिनार में शामिल होने के लिये, चार कारों में, दिल्ली जा रहे हैं। प्रत्येक कार को एक व्यक्ति चला रहा है और किसी भी कार में दो से अधिक व्यक्ति नहीं हैं। ये कारें पहली से लेकर चौथी तक एक के बाद एक चल रही हैं। गुप्ता और रस्तोगी अलग-अलग कारों में यात्रा कर रहे हैं। पहली और चौथी कार में केवल एक ड्राइवर है। वर्मा जो कार चला रहे हैं, और उसमें केवल मिश्रा यात्री हैं। एक कार में सिंह एकमात्र व्यक्ति हैं।

Q-16 If Gupta and Khanna are not in the same car, which of the following people could be in the first car?

eng

- | | |
|-------------------|------------|
| 01. Verma | 02. Khanna |
| 03. Rastogi | 04. Mishra |
| 05. None of these | |

Q-16 यदि गुप्ता और खन्ना एक ही कार में नहीं हैं, तो निम्न लोगों में से कौन पहली कार में हो सकता है?

hi

- | | |
|-----------------------|------------|
| 01. वर्मा | 02. खन्ना |
| 03. रस्तोगी | 04. मिश्रा |
| 05. इनमें से कोई नहीं | |

Solution for Question 16

Ans Key: 3

eng

Car 1 : Singh/Rastogi/Gupta/Khanna
Car 2: Verma, Mishra/Gupta Khanna/Khanna, Rastogi
Car 3: Verma, Mishra/Gupta Khanna/Khanna/Rastogi.
Car 4: Singh/Rastogi/Gupta/Khanna

hi

कार 1: सिंह /रस्तोगी/गुप्ता /खन्ना
कार 2: वर्मा, मिश्रा /गुप्ता खन्ना/खन्ना, रस्तोगी
कार 3: वर्मा, मिश्रा /गुप्ता खन्ना/खन्ना/रस्तोगी
कार 4: सिंह/रस्तोगी/गुप्ता /खन्ना

Q-17 In each question given below three statements are followed by two conclusions numbered I and II,. You have to take the three given statements to be true (even if they seem to be at variance from the commonly known facts). Read the conclusions and decide which logically follows.

eng

Statements :

All open are load.
Some open are comments
Some comments are work.

Conclusions :

- I. All work being open is a possibility
II. Some work not being open is a possibility

Give answer-

- | | |
|---|---|
| 01. If only conclusion I follows. | 02. If only conclusion II follows. |
| 03. If either conclusion I or II follows. | 04. If neither conclusion I nor II follows. |
| 05. If both conclusions I and II follow. | |

Q-17 नीचे प्रत्येक प्रश्न में तीन कथन व दो निष्कर्ष I और II दिए गए हैं। आपको दिये गये तीनों कथनों को सही मानना है (चाहे वे सामान्यतया सही तथ्यों से भिन्न क्यों न हों)। निष्कर्षों को पढ़ें और यह तय करें कि कौन से निष्कर्ष तार्किक रूप से अनुसरण करते हैं।

hi

कथन:

सभी दाता, भारी हैं।
कुछ दाता, समीक्षा हैं।
कुछ समीक्षा, काम है।

निष्कर्ष:

- I. सभी काम के दाता होने की संभावना है।
II. कुछ काम के दाता न होने की एक संभावना है।

उत्तर दीजिये-

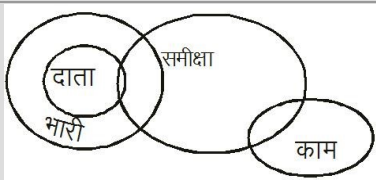
- | | |
|---|---|
| 01. यदि निष्कर्ष I अनुसरण करता है। | 02. यदि निष्कर्ष II अनुसरण करता है। |
| 03. यदि या तो निष्कर्ष I या II अनुसरण करता है। | 04. यदि न तो निष्कर्ष I न ही II अनुसरण करता है। |
| 05. यदि निष्कर्ष I और II दोनों अनुसरण करते हैं। | |

Solution for Question 17

Ans Key: 5

eng





Q-18 In each question given below three statements are followed by two conclusions numbered I and II. You have to take the three given statements to be true (even if they seem to be at variance from the commonly known facts). Read the conclusions and decide which logically follows.

Statements :

All open are load.

Some open are comments

Some comments are work.

Conclusions:

I. Some comments being open is a possibility

II. All open being comments is a possibility

Give answer-

01. If only conclusion I follows.

02. If only conclusion II follows.

03. If either conclusion I or II follows.

04. If neither conclusion I nor II follows.

05. If both conclusions I and II follow.

नीचे प्रत्येक प्रश्न में तीन कथन व दो निष्कर्ष I और II दिए गए हैं। आपको दिये गये तीनों कथनों को सही मानना है (चाहे वे सामान्यतया सही तथ्यों से भिन्न क्यों न हों)। निष्कर्षों को पढ़ें और यह तय करें कि कौन से निष्कर्ष तार्किक रूप से अनुसरण करते हैं।

कथन:

सभी दाता, भारी हैं।

कुछ दाता, समीक्षा हैं।

कुछ समीक्षा, काम है।

निष्कर्ष:

I. कुछ समीक्षा, के दाता होने की एक संभावना है।

II. सभी दाता, के समीक्षा होने की एक संभावना है।

उत्तर दीजिये-

01. यदि निष्कर्ष I अनुसरण करता है।

02. यदि निष्कर्ष II अनुसरण करता है।

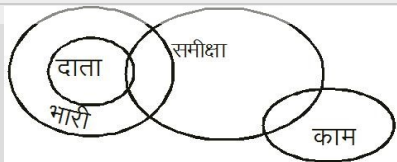
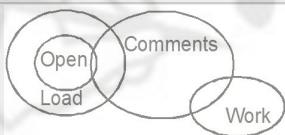
03. यदि या तो निष्कर्ष I या II अनुसरण करता है।

04. यदि न तो निष्कर्ष I न ही II अनुसरण करता है।

05. यदि निष्कर्ष I और II दोनों अनुसरण करते हैं।

Solution for Question 18

Ans Key: 2



Q-19 If in third car Verma and Mishra, is there, which of the following must be true?

01. Singh is in the first car

02. Gupta is in the fourth car

03. Rastogi is in the second car

04. Khanna is in the second car

05. None of these

यदि तीसरी कार में वर्मा और मिश्रा हैं, तो निम्न में से कौन सा सत्य होना चाहिए?

01. सिंह पहली कार में है

02. गुप्ता चौथी कार में हैं

03. रस्तोगी दूसरी कार में है

04. खन्ना दूसरी कार में हैं

05. इनमें से कोई नहीं

Solution for Question 19

Ans Key: 4

Car 1 : Singh/Rastogi/Gupta/Khanna

Car 2: Verma, Mishra/Gupta Khana/Khanna, Rastogi

Car 3: Verma, Mishra/Gupta Khanna/Khanna/Rastogi.
 Car 4: Singh/Rastogi/Gupta/Khanna
 Car 1 : Singh/ Rastogi/Gupta/Khanna
 Car 2: Gupta/Khanna
 Car 3 : Verma/Mishra
 Car 4: Singh/ Rastogi/Gupta/Khanna

कार 1 : सिंह/रस्तोगी/गुप्ता/खन्ना
 कार 2: वर्मा, मिश्रा/गुप्ता खन्ना/खन्ना, रस्तोगी
 कार 3: वर्मा, मिश्रा/गुप्ता खन्ना/ खन्ना/रस्तोगी.
 कार 4: सिंह/रस्तोगी/गुप्ता/खन्ना
 कार 1 : सिंह/ रस्तोगी/गुप्ता/खन्ना
 कार 2: गुप्ता/खन्ना
 कार 3 : वर्मा/मिश्रा
 कार 4: सिंह/ रस्तोगी/गुप्ता/खन्ना

Q-20
eng

In each question given below three statements are followed by two conclusions numbered I and II,. You have to take the three given statements to be true (even if they seem to be at variance from the commonly known facts). Read the conclusions and decide which logically follows.

Statements :

Some Coca are Cola.
 All Cola are Quality.
 All Quality are Pots.

Conclusions:

- I. All Quality being Coca is a possibility.
 II. Some Pots not being Coca is a possibility.

Give answer-

01. If only conclusion I follows. 02. If only conclusion II follows.
 03. If either conclusion I or II follows. 04. If neither conclusion I nor II follows.
 05. If both conclusions I and II follow.

Q-20
hi

नीचे प्रत्येक प्रश्न में तीन कथन व दो निष्कर्ष I और II दिए गए हैं। आपको दिये गये तीनों कथनों को सही मानना है (चाहे वे सामान्यतया सही तथ्यों से भिन्न क्यों न हों)। निष्कर्षों को पढ़ें और यह तय करें कि कौन से निष्कर्ष तार्किक रूप से अनुसरण करते हैं।

कथन:

कुछ कोका, कोला है।
 सभी कोला, आचरण हैं।
 सभी आचरण, बर्तन हैं।

निष्कर्ष:

- I. सभी आचरण के कोका होने की एक संभावना है।
 II. कुछ बर्तन के कोका न होने की एक संभावना है।

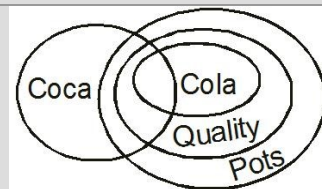
उत्तर दीजिये-

01. यदि निष्कर्ष I अनुसरण करता है। 02. यदि निष्कर्ष II अनुसरण करता है।
 03. यदि या तो निष्कर्ष I या II अनुसरण करता है। 04. यदि न तो निष्कर्ष I न ही II अनुसरण करता है।
 05. यदि निष्कर्ष I और II दोनों अनुसरण करते हैं।

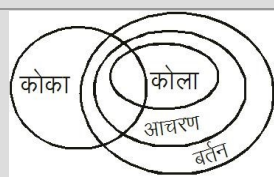
Solution for Question 20

Ans Key: 5

eng



hi



Passage for Question 15, 21, 39 (ST-03 SBI PRE(1-5) 2016)

eng Passage

Study the following information to answer the given questions.

J, K, L, M, N, O, P and Q are sitting around a circular area at equal distances between each other, but not necessarily in the same order. Some of the people are facing the centre while some faces outside (i.e. in a direction opposite to the centre).

Note: Facing the same direction means if one faces the centre then the other also faces the centre and vice-versa. Facing the opposite direction means if one person faces the centre then the other faces outside and vice-versa.

O sits second to the left of M. M faces the centre. K sits to the immediate left of O. Only three people live between K and J. P sits third to the left of J. L sits to the immediate left of N. Immediate neighbours of K face opposite directions(i.e. if one neighbour faces the centre, the other neighbour faces outside and vice-versa). N sits third to the right of K. Both N and L face opposite directions. Q faces the same direction as K.

hi Passage

निम्नलिखित जानकारी को ध्यान से पढ़िए और नीचे दिए गये प्रश्नों के उत्तर दीजिए ।

J, K, L, M, N, O, P और Q एक वृताकार क्षेत्र के गिर्द समान दूरी पर बैठे हैं, लेकिन जरूरी नहीं कि एक ही क्रम में हों। कुछ लोग केंद्र की तरफ मुख करके बैठें हैं जबकि कुछ लोग केंद्र से विपरीत दिशा में मुख करके बैठें हैं।

नोट: एक ही दिशा में देखने का मतलब है की यदि कोई व्यक्ति केंद्र की तरफ देख रहा है तब दूसरा भी केंद्र की तरफ ही देख रहा है। विपरीत दिशा का मतलब है कि अगर एक व्यक्ति केंद्र की तरफ देख रहा है तो दूसरा व्यक्ति केंद्र से विपरीत दिशा में देख रहा होगा और उसी तरह से इसका विपरीत।

O, M से बायें दूसरे बैठा है। M का मुख केंद्र की तरफ है। K, O के तुरंत बाईं ओर बैठा है। K और J के बीच केवल तीन लोग बैठें हैं। P, J के बायें तीसरा बैठा है। L, N के तुरंत बाईं ओर है। K के तुरंत पड़ोसी विपरीत दिशा में मुख करके बैठें हैं (यानी अगर एक पड़ोसी केंद्र की तरफ देख रहा है, तब दूसरा केंद्र के विपरीत देख रहा है और उसी तरह से इसका विपरीत)। N, K के तीसरे दायें ओर बैठा है। N और L दोनों ही एक दूसरे से विपरीत दिशा में देख रहे हैं। Q उसी दिशा में देख रहा है जिस दिशा में K का मुख है।

Q-21 What is K's position with respect to N ?

eng

- | | |
|-------------------------------|------------------------------|
| 01. Second to the left | 02. Immediate left |
| 03. Immediate right | 04. Third to the left |
| 05. Third to the right | |

Q-21 N के सम्बन्ध में K का क्या स्थान है?

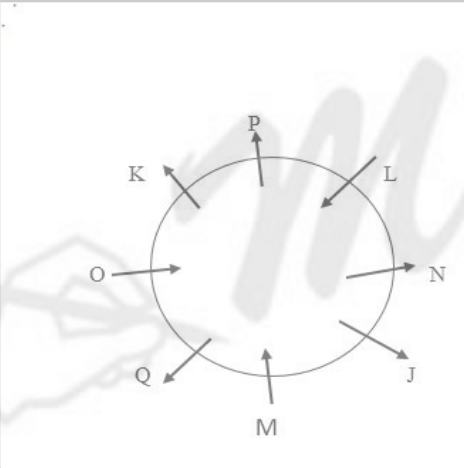
hi

- | | |
|---------------------------|---------------------------|
| 01. बायें से दूसरा | 02. तुरंत बायें |
| 03. तुरंत दायें | 04. बायें से तीसरा |
| 05. दायें से तीसरा | |

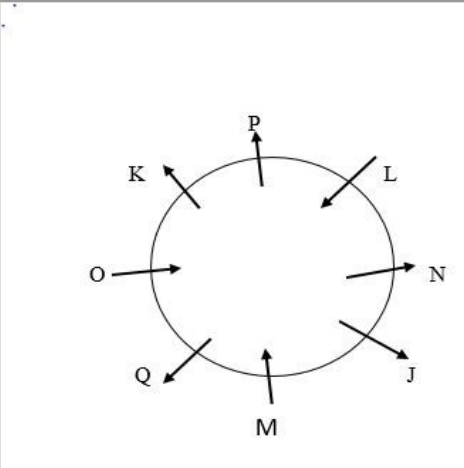
Solution for Question 21

Ans Key: 4

eng



hi



Passage for Question 22, 23, 33, 34, 35 (ST-133 CWEBCL (33-37) 2014)

eng Passage

In the questions given below, some symbols @, %, \$, © and # are used with the following meaning as illustrated below :

A@B means A is not greater than B

A%B means A is not smaller than B

A\$B means A is neither smaller than nor greater than B.

A©B means A is neither greater than nor equal to B

A#B means A is neither smaller than nor equal to B

Now in each of the following questions, assuming the given statements to be true, find which of the two conclusions I and II given below is/are definitely true. Give answer -

hi Passage

नीचे दिए गए प्रश्नों में कुछ चिन्हों @, %, \$, © और # का प्रयोग निम्नलिखित अर्थ के साथ किया गया है जैसा नीचे दिया गया है -

A @B का अर्थ A, B से बड़ा नहीं है।

A%B का अर्थ A, B से छोटा नहीं है

A\$B का अर्थ A, B से न तो छोटा है और न ही बड़ा है।

A©B का अर्थ A, B से न तो बड़ा है और न ही बराबर है।

A#B का अर्थ A, B से न तो छोटा है और न ही बराबर है।

अब निम्नलिखित प्रश्नों में से प्रत्येक में दिए गये कथनों को सत्य मानते हुए बताएं कि दोनों निष्कर्षों I व II में से कौन सा/से निश्चित रूप से सत्य है/हैं। उत्तर दीजिए -

Q-22 Statements: RR © MM, MM # WW, TT @ WW

eng Conclusions: I. TT © MM II. TT © RR

01. If only conclusion I is true.

02. If only conclusion II is true.

03. If either conclusion I or II is true.

04. If neither conclusion I nor II is true.

05. If both conclusions I and II are true.

Q-22 कथन: RR © MM, MM # WW, TT @ WW

hi निष्कर्ष: I. TT © MM II. TT © RR

01. यदि केवल निष्कर्ष I सत्य है।

02. यदि केवल निष्कर्ष II सत्य है।

03. यदि या तो निष्कर्ष I या फिर II सत्य है।

04. यदि न तो निष्कर्ष I न ही II सत्य है।

05. यदि निष्कर्ष I व II दोनों सत्य हैं।

Solution for Question 22

Ans Key: I

eng @ means \leq
% means \geq
\$ means =
© means <
means >
Statements: RR < MM > WW \geq TT
Conclusions: I. TT < MM (True)
II. TT < RR (False)

hi @ का अर्थ \leq
% का अर्थ \geq
\$ का अर्थ =
© का अर्थ <
का अर्थ >
कथन- RR < MM > WW \geq TT
निष्कर्ष-
I. TT < MM सत्य
II. TT < RR असत्य

Q-23 Statements: HZ @ LZ, LZ \$ DZ, DZ \$ AZ

eng Conclusions: I. HZ @ AZ II. AZ @ LZ

01. If only conclusion I is true.

02. If only conclusion II is true.

03. If either conclusion I or II is true.

04. If neither conclusion I nor II is true.

05. If both conclusions I and II are true.

Q-23 कथन: HZ @ LZ, LZ \$ DZ, DZ \$ AZ

hi निष्कर्ष: I. HZ @ AZ II. AZ @ LZ

01. यदि केवल निष्कर्ष I सत्य है। 02. यदि केवल निष्कर्ष II सत्य है।
 03. यदि या तो निष्कर्ष I या फिर II सत्य है। 04. यदि न तो निष्कर्ष I न ही II सत्य है।
 05. यदि निष्कर्ष I व II दोनों सत्य हैं।

Solution for Question 23

Ans Key: 1

eng	<p>@ means \leq % means \geq \$ means = © means < # means > Statements : $HZ \leq LZ = DZ = AZ$ Conclusions: I. $HZ \leq AZ$ (True) II. $AZ \leq LZ$ (False)</p>
hi	<p>@ का अर्थ \leq % का अर्थ \geq \$ का अर्थ = © का अर्थ < # का अर्थ > कथन- $HZ \leq LZ = DZ = AZ$ निष्कर्ष- I. $HZ \leq AZ$ सत्य II. $AZ \leq LZ$ असत्य</p>

<p>Passage for Question 12, 13, 16, 19, 24 (ST-133 CWEBCL (22-26) 2014)</p> <p>eng Passage</p> <p>Study the following information carefully and answer the questions given below.</p> <p>Six executives Verma, Khanna, Gupta, Mishra, Singh and Rastogi are of a distinguished paint enterprise are travelling in four cars to attend a seminar in Delhi. One person is driving each car and there are not more than two persons in any one of the cars. These cars are running one after the other from first to fourth. Gupta and Rastogi are travelling in different cars. The first and the fourth have only one person in the car. The car, which Verma is drawing, Mishra is the only traveller in that car. Singh is the only person in one of the cars.</p> <p>hi Passage</p> <p>निम्नलिखित जानकारी का ध्यानपूर्वक अध्ययन कीजिये और नीचे दिये गये प्रश्नों के उत्तर दीजिये-</p> <p>एक प्रतिष्ठित पेंट उद्यम के छह प्रतिनिधि वर्मा, खन्ना, गुप्ता, मिश्रा, सिंह और रस्तोगी एक सेमिनार में शामिल होने के लिये, चार कारों में, दिल्ली जा रहे हैं। प्रत्येक कार को एक व्यक्ति चला रहा है और किसी भी कार में दो से अधिक व्यक्ति नहीं हैं। ये कारें पहली से लेकर चौथी तक एक के बाद एक चल रही हैं। गुप्ता और रस्तोगी अलग-अलग कारों में यात्रा कर रहे हैं। पहली और चौथी कार में केवल एक ड्राइवर है। वर्मा जो कार चला रहे हैं, और उसमें केवल मिश्रा यात्री हैं। एक कार में सिंह एकमात्र व्यक्ति हैं।</p>	
---	--

Q-24 Which of the following person could travel in the same car in which Gupta is there?

eng	<p>01. Verma 02. Khanna 03. Mishra 04. Singh 05. None of these</p>
hi	<p>Q-24 निम्नलिखित लोगों में से कौन उसी कार में सफर कर सकता है जिसमें गुप्ता हैं?</p> <p>01. वर्मा 02. खन्ना 03. मिश्रा 04. सिंह 05. इनमें से कोई नहीं</p>

Solution for Question 24

Ans Key: 2

eng	<p>Car 1 : Singh/Rastogi/Gupta/Khanna Car 2: Verma, Mishra/Gupta Khana/Khanna, Rastogi Car 3: Verma, Mishra/Gupta Khanna/Khanna/Rastogi. Car 4: Singh/Rastogi/Gupta/Khanna Car 1: Singh Car 2 : Verma Mishra Car 3: Gupta, Khanna Car 4: Rastogi</p>
hi	<p>कार 1 : सिंह/रस्तोगी/गुप्ता/खन्ना कार 2: वर्मा, मिश्रा/गुप्ता खन्ना/खन्ना, रस्तोगी कार 3: वर्मा, मिश्रा/गुप्ता खन्ना/ खन्ना/रस्तोगी</p>

कार 3: वर्मा, मिश्रा/गुप्ता/खन्ना/रस्तोगी,
कार 4: सिंह/रस्तोगी/गुप्ता/खन्ना
कार 1: सिंह
कार 2 : वर्मा मिश्रा
कार 3: गुप्ता, खन्ना
कार 4: रस्तोगी

Q-25 The question given below contain two statements giving certain data. You have to decide whether the data given in the statements are sufficient for answering the questions. Mark answer -
eng

How is 'reason' written in a code language?

- I. 'There were many reasons' is written as 'Pa da na La' in that code language and 'There were many lesson' is written as 'La na Ta Pa'.
II. 'There were many reasons' is written as 'Pa da na La' in that code language and 'There were two thing' is written as 'Pa La Sa Ra'.

01. If statement I alone is sufficient but statement II alone is not sufficient. 02. If statement II alone is sufficient but statement I alone is not sufficient.
03. If each statement alone (either I or II) is sufficient. 04. If statement I and II together are not sufficient.
05. If both statement together are sufficient, but neither statement alone is sufficient.

Q-25 नीचे दिए गए प्रश्नों में दो कथनों के माध्यम से कुछ जानकारी दी गई है। आपको यह निर्णय करना है कि क्या कथनों में दी गई जानकारी उत्तर देने के लिए पर्याप्त है।
hi उत्तर दीजिए-

'reason' को एक कूट भाषा में कैसे लिखा जायेगा ?

- I. 'There were many reasons' को उस कूट भाषा में 'Pa da na La' लिखा जाता है और 'There were many lesson' को उस कूट भाषा में 'La na Ta Pa' लिखा जाता है।
II. 'There were many reasons' को उस कूट भाषा में 'Pa da na La' लिखा जाता है और 'There were two thing' को 'Pa La Sa Ra' लिखा जाता है।

01. यदि केवल कथन I ही पर्याप्त है लेकिन केवल कथन II पर्याप्त नहीं है। 02. यदि केवल कथन II ही पर्याप्त है लेकिन केवल कथन I पर्याप्त नहीं है।
03. यदि या केवल I या केवल II पर्याप्त हैं। 04. यदि I व II दोनों अपर्याप्त हैं।
05. यदि दोनों कथन I व II एक साथ पर्याप्त हैं लेकिन अलग-अलग पर्याप्त नहीं हैं।

Solution for Question 25

Ans Key: 1

eng 'There were many reasons' – Pa da na La
'There were many lessons' – La na Ta Pa
reasons – da

hi 'There were many reasons' – Pa da na La
'There were many lessons' – La na Ta Pa
reasons – da

Passage for Question 26, 27, 31, 32, 38 (ST-133 CWEBCL (17-21) 2014)

eng Passage

Study the following information carefully and answer the questions given below.

In a guest house there are seven rooms from east to west numbered 1 to 7. Three of these seven rooms are vacant, there are two guest in one room and one guest in each of the remaining three Five guest living are - Q, P, O, N and M.

- (i) Q and M live in adjoining rooms.
(ii) M's room lies in the east of O's room.
(iii) P's room lies in the east of N's room.
(iv) None of the unoccupied rooms are adjacent to each other.
(v) Room no.5 is unoccupied. Q occupies room no. 1.

hi Passage

निम्नलिखित जानकारी का ध्यानपूर्वक अध्ययन कीजिये और नीचे दिये गये प्रश्नों के उत्तर दीजिये-

एक गेस्ट हाऊस में पूरब से पश्चिम की ओर क्रम 1 से 7 संख्या वाले सात कमरे हैं। इन सात कमरों में से तीन खाली हैं, एक कमरे में दो गेस्ट हैं और शेष तीन में प्रत्येक में एक गेस्ट हैं। पांच रहने वाले लोग Q,P,O,N और M हैं।

- (i) Q और M अगल-बगल के कमरों में रहती हैं।
(ii) M का कमरा, O के कमरे के पूरब में है।
(iii) P का कमरा, N के कमरे के पूरब में है।
(iv) कोई भी खाली कमरा एक दूसरे के निकट नहीं हैं।
(v) कमरा न. 5 खाली है। Q कमरा न. 1 में रहती है।

Q-26 If unoccupied rooms are not at any end then which of the following is definitely false?

01. If only assumption I is implicit. 02. If only assumption II is implicit.
03. If either assumption I or II is implicit 04. If neither assumption I nor II is implicit.
05. If both assumptions I and II are implicit.

Q-28

hi

नीचे दिए गए प्रत्येक प्रश्न में पहले एक कथन दिया गया है फिर उसके नीचे दो पूर्वधारणाएं जिन्हें I व II क्रमांक दिए गए हैं। कोई पूर्वगृहित या मान ली गई बात पूर्वधारणा कहलाती है। आपको कथन और उसके नीचे दी गई पूर्वधारणाओं पर विचार करना है और फिर तय करना है कि कौन सी पूर्वधारणा कथन में अन्तर्निहित है।
कथन :
दिल्ली मेट्रो ने कई मार्गों पर नई ट्रेनें शुरू करने और उनकी फेरो की संख्या में वृद्धि करने का फैसला किया है।

पूर्वधारणाएं :

- (I) वर्तमान में, दैनिक यात्रियों के लिए मेट्रो ट्रेन पर्याप्त नहीं है।
(II) नई और अतिरिक्त ट्रेनों में पर्याप्त यात्री होंगे इसलिए ये आर्थिक दृष्टि से व्यवहार्य हैं।

01. यदि केवल पूर्वधारणा I अन्तर्निहित है। 02. यदि केवल पूर्वधारणा II अन्तर्निहित है।
03. यदि या तो पूर्वधारणा I या II अन्तर्निहित हैं। 04. यदि न तो पूर्वधारणा I न II अन्तर्निहित हैं।
05. यदि दोनों पूर्वधारणाएं I व II अन्तर्निहित हैं।

Q-29

eng

The question given below contain two statements giving certain data. You have to decide whether the data given in the statements are sufficient for answering the questions. Mark answer -

On which day of the month was Anjali celebrates her birthday ?

- I. Rahul correctly remembers that Anjali's birthday was before 27th March but after 21st March.
II. Asha correctly remembers that Anjali's birthday was before 29th March but after 25th March.

01. If statement I alone is sufficient but statement II alone is not sufficient. 02. If statement II alone is sufficient but statement I alone is not sufficient.
03. If each statement alone (either I or II) is sufficient. 04. If statement I and II together are not sufficient.
05. If both statement I and II together are sufficient, but neither statement alone is sufficient.

Q-29

hi

नीचे दिए गए प्रश्नों में दो कथनों के माध्यम से कुछ जानकारी दी गई है। आपको यह निर्णय करना है कि क्या कथनों में दी गई जानकारी उत्तर देने के लिए पर्याप्त है। उत्तर दीजिए-

महीने के किस दिन अंजली का जन्मदिन था ?

- I. राहुल को सही से याद है कि अंजली का जन्मदिन 27 मार्च से पहले लेकिन 21 मार्च के बाद था।
II. आशा को सही से याद है कि अंजली का जन्मदिन 29 मार्च से पहले लेकिन 25 मार्च के बाद था।

01. यदि केवल कथन I ही पर्याप्त है लेकिन केवल कथन II पर्याप्त नहीं है। 02. यदि केवल कथन II ही पर्याप्त है लेकिन केवल कथन I पर्याप्त नहीं है।
03. यदि या केवल I या केवल II पर्याप्त हैं। 04. यदि I व II दोनों अपर्याप्त हैं।
05. यदि दोनों कथन I व II एक साथ पर्याप्त हैं लेकिन अलग-अलग पर्याप्त नहीं हैं।

Solution for Question 29

Ans Key: 5

eng

According to Rahul - after 21 march but before 27 march
According to Asha - after 25 march but before 29 march therefore Anjali birthday was on 26 march.

hi

राहुल के अनुसार . 21 मार्च के बाद लेकिन 27 मार्च से पहले। आशा के अनुसार . 25 मार्च के बाद लेकिन 29 मार्च के पहले। इसलिए अंजली का जन्मदिन 26 मार्च था।

Q-30

eng

In each question given below three statements are followed by two conclusions numbered I and II,. You have to take the three given statements to be true (even if they seem to be at variance from the commonly known facts). Read the conclusions and decide which logically follows.

Statements :

Some locks are mirrors
No locks is maaza.
All mazza are pepsu.

Conclusions:

- I. Some pepsu being locks is a possibility
II. Some locks being mirror is a possibility

Give answer-

01. If only conclusion I follows. 02. If only conclusion II follows.
03. If either conclusion I or II follows. 04. If neither conclusion I nor II follows.
05. If both conclusions I and II follow.

- Q-30**
hi नीचे प्रत्येक प्रश्न में तीन कथन व दो निष्कर्ष I और II दिए गए हैं। आपको दिये गये तीनों कथनों को सही मानना है (चाहे वे सामान्यतया सही तथ्यों से भिन्न क्यों न हों)। निष्कर्षों को पढ़ें और यह तय करें कि कौन से निष्कर्ष तार्किक रूप से अनुसरण करते हैं।
- कथन:**
कुछ ताले दर्पण हैं।
कोई ताले माजा नहीं हैं।
सभी माजा, पेप्सी हैं।
- निष्कर्ष:**
I. कुछ पेप्सी के ताले होने की एक संभावना है।
II. कुछ ताले के दर्पण होने की एक संभावना है।
- उत्तर दीजिये-**
01. यदि निष्कर्ष I अनुसरण करता है। 02. यदि निष्कर्ष II अनुसरण करता है।
03. यदि या तो निष्कर्ष I या II अनुसरण करता है। 04. यदि न तो निष्कर्ष I न ही II अनुसरण करता है।
05. यदि निष्कर्ष I और II दोनों अनुसरण करते हैं।

Solution for Question 30 Ans Key: 1

eng

hi

- Q-31**
eng Which of the following rooms is occupied by the guest N?
01. 7 02. 5
03. 3 04. 6
05. None of these
- Q-31**
hi निम्नलिखित कमरों में से कौन सा गेस्ट N द्वारा अधिकृत है ?
01. 7 02. 5
03. 3 04. 6
05. इनमें से कोई नहीं

Solution for Question 31 Ans Key: 4

eng

hi

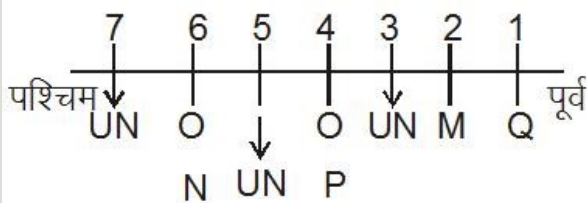
- Q-32**
eng Which of the following rooms is unoccupied?
01. 6 02. 4
03. 2 04. 1
05. None of these
- Q-32**
hi निम्नलिखित में से कौन सा कमरा खाली है?
01. 6 02. 4
03. 2 04. 1
05. इनमें से कोई नहीं

Solution for Question 32 Ans Key: 5

eng

hi

hi



Passage for Question 22, 23, 33, 34, 35 (ST-133 CWEBCL (33-37) 2014)

eng Passage

In the questions given below, some symbols @, %, \$, © and # are used with the following meaning as illustrated below :

A@B means A is not greater than B

A%B means A is not smaller than B

A\$B means A is neither smaller than nor greater than B.

A©B means A is neither greater than nor equal to B

A#B means A is neither smaller than nor equal to B

Now in each of the following questions, assuming the given statements to be true, find which of the two conclusions I and II given below is/are definitely true. Give answer -

hi Passage

नीचे दिए गए प्रश्नों में कुछ चिन्हों @, %, \$, © और # का प्रयोग निम्नलिखित अर्थ के साथ किया गया है जैसा नीचे दिया गया है -

A @B का अर्थ A,B से बड़ा नहीं है।

A %B का अर्थ A,B से छोटा नहीं है

A\$B का अर्थ A,B से न तो छोटा है और न ही बड़ा है।

A©B का अर्थ A,B से न तो बड़ा है और न ही बराबर है।

A#B का अर्थ A,B से न तो छोटा है और न ही बराबर है।

अब निम्नलिखित प्रश्नों में से प्रत्येक में दिए गये कथनों को सत्य मानते हुए बताएं कि दोनों निष्कर्षों I व II में से कौन सा /से निश्चित रूप से सत्य है/हैं। उत्तर दीजिए -

Q-33

Statements: MM % FF, FF © RR, RR # KK

eng

Conclusions: I. KK © FF II. KK % FF

01. If only conclusion I is true.

02. If only conclusion II is true.

03. If either conclusion I or II is true.

04. If neither conclusion I nor II is true.

05. If both conclusions I and II are true.

Q-33

कथन: MM % FF, FF © RR, RR # KK

hi

निष्कर्ष: I. KK © FF II. KK % FF

01. यदि केवल निष्कर्ष I सत्य है।

02. यदि केवल निष्कर्ष II सत्य है।

03. यदि या तो निष्कर्ष I या फिर II सत्य है।

04. यदि न तो निष्कर्ष I न ही II सत्य है।

05. यदि निष्कर्ष I व II दोनों सत्य हैं।

Solution for Question 33

Ans Key: 3

eng

@ means \leq

% means \geq

\$ means =

© means <

means >

Statements : MM \geq FF < RR > KK

Conclusions: I. KK < FF

II. KK \geq FF

Either I or II is true

hi

@ का अर्थ \leq
% का अर्थ \geq
\$ का अर्थ =
© का अर्थ <
का अर्थ >

कथन- MM \geq FF < RR > KK

निष्कर्ष-

I. KK < FF

II. $KK \geq FF$

या तो I या II

Q-34 Statements: HH @ KK, KK % DD, DD # BB

eng

Conclusions: I. HH @ BB II. BB @ KK

01. If only conclusion I is true.

02. If only conclusion II is true.

03. If either conclusion I or II is true.

04. If neither conclusion I nor II is true.

05. If both conclusions I and II are true.

Q-34 कथन: HH @ KK, KK % DD, DD # BB

hi

निष्कर्ष: I. HH @ BB II. BB @ KK

01. यदि केवल निष्कर्ष I सत्य है।

02. यदि केवल निष्कर्ष II सत्य है।

03. यदि या तो निष्कर्ष I या फिर II सत्य है।

04. यदि न तो निष्कर्ष I न ही II सत्य है।

05. यदि निष्कर्ष I व II दोनों सत्य हैं।

Solution for Question 34

Ans Key: 4

eng

@ means \leq

% means \geq

\$ means =

© means <

means >

Statement : $HH \leq KK \geq DD > BB$

Conclusions: I. $HH \leq BB$ (False)

II. $BB \leq KK$ (False)

hi

@ का अर्थ \leq

% का अर्थ \geq

\$ का अर्थ =

© का अर्थ <

का अर्थ >

कथन- $HH \leq KK \geq DD > BB$

निष्कर्ष-

I. $HH \leq BB$ असत्य

II. $BB \leq KK$ असत्य

Q-35 Statements: VV © KK, KK % DD, DD \$ FF

eng

Conclusions: I. VV @ DD II. FF @ KK

01. If only conclusion I is true.

02. If only conclusion II is true.

03. If either conclusion I or II is true.

04. If neither conclusion I nor II is true.

05. If both conclusions I and II are true.

Q-35 कथन: VV © KK, KK % DD, DD \$ FF

hi

निष्कर्ष: I. VV @ DD II. FF @ KK

01. यदि केवल निष्कर्ष I सत्य है।

02. यदि केवल निष्कर्ष II सत्य है।

03. यदि या तो निष्कर्ष I या फिर II सत्य है।

04. यदि न तो निष्कर्ष I न ही II सत्य है।

05. यदि निष्कर्ष I व II दोनों सत्य हैं।

Solution for Question 35

Ans Key: 2

eng

Statements : $VV < KK \geq DD = FF$

Conclusions: I. $VV \leq DD$ (False)

II. $FF \leq KK$ (True)

hi

कथन- $VV < KK \geq DD = FF$

निष्कर्ष-

I. $VV < DD$ असत्य

Q-36
eng

The question given below contain two statements giving certain data. You have to decide whether the data given in the statements are sufficient for answering the questions. Mark answer -

How many students of Maths got more than 70% but less than 80% mark ?

- I. Out of total students, 70% students got less than 80% marks.
II. Out of total students, 30% students got more than 70% marks.

01. If statement I alone is sufficient but statement II alone is not sufficient. 02. If statement II alone is sufficient but statement I alone is not sufficient.
03. If each statement alone (either I or II) is sufficient. 04. If statement I and II together are not sufficient.
05. If both statement together are sufficient, but neither statement alone is sufficient.

Q-36
hi

नीचे दिए गए प्रश्नों में दो कथनों के माध्यम से कुछ जानकारी दी गई है। आपको यह निर्णय करना है कि क्या कथनों में दी गई जानकारी उत्तर देने के लिए पर्याप्त है। उत्तर दीजिए-

गणित में कितने विद्यार्थियों ने 70% से अधिक लेकिन 80% से कम अंक प्राप्त किये हैं ?

- I. कुल विद्यार्थियों में से 70% विद्यार्थियों को 80% से कम अंक प्राप्त हुए।
II. कुल विद्यार्थियों में से 30% विद्यार्थियों को 70% से अधिक अंक प्राप्त हुए।

01. यदि केवल कथन I ही पर्याप्त है लेकिन केवल कथन II पर्याप्त नहीं है। 02. यदि केवल कथन II ही पर्याप्त है लेकिन केवल कथन I पर्याप्त नहीं है।
03. यदि या केवल I या केवल II पर्याप्त हैं। 04. यदि I व II दोनों अपर्याप्त हैं।
05. यदि दोनों कथन I व II एक साथ पर्याप्त हैं लेकिन अलग-अलग पर्याप्त नहीं हैं।

Q-37
eng

In each of the following questions a statement is given followed by two courses of Action. A course of action is taken for improvement, follow up etc. Read the statement carefully and give answer -

Statement : A large number of people in village X are diagnosed to be suffering from a fatal malaria type.

Courses of action :

- (I) The municipal authority should take immediate steps to carry out extensive fumigation in village X.
(II) The people in the area should be advised to take steps to avoid mosquito bites.

01. If only Course of Action I follows. 02. If only Course of Action II follows.
03. If either Course of Action I or II follows. 04. If neither Course of Action I nor II follows.
05. If both Course of Action I and II follow.

Q-37
hi

नीचे दिए प्रत्येक प्रश्न में एक कथन व दो कार्यवाहियाँ (I) और (II) हैं। कोई भी कार्यवाही किसी सुधार या आगे की क्रिया आदि होती है। कथन को ध्यानपूर्वक पढ़िये और उत्तर दीजिए -

कथन : गांव X में घातक मलेरिया रोग से बड़ी संख्या में लोगो के पीड़ित होने का पता चला है।

कार्यवाहियाँ :

- (I) नगर निगम के प्राधिकारी को गांव X में व्यापक स्तर पर धूम्रकरण के तत्काल कदम उठाने चाहिए।
(II) क्षेत्र के लोगों को मच्छर द्वारा काटे जाने से बचने के लिए कदम उठाने की सलाह दी जानी चाहिए।

01. यदि केवल कार्यवाही I सही है। 02. यदि केवल कार्यवाही II सही है।
03. यदि केवल कार्यवाही I या II सही है। 04. यदि दोनों कार्यवाहियाँ I व II सही नहीं हैं।
05. यदि दोनों कार्यवाहियाँ I व II सही हैं।

Passage for Question 26, 27, 31, 32, 38 (ST-133 CWEBCL (17-21) 2014)

eng Passage

Study the following information carefully and answer the questions given below.

In a guest house there are seven rooms from east to west numbered 1 to 7. Three of these seven rooms are vacant, there are two guest in one room and one guest in each of the remaining three Five guest living are - Q, P, O, N and M.

- (i) Q and M live in adjoining rooms.
(ii) M's room lies in the east of O's room.
(iii) P's room lies in the east of N's room.
(iv) None of the unoccupied rooms are adjacent to each other.

(v) Room no.5 is unoccupied. Q occupies room no. 1.

hi Passage

निम्नलिखित जानकारी का ध्यानपूर्वक अध्ययन कीजिये और नीचे दिये गये प्रश्नों के उत्तर दीजिये-

एक गेस्ट हाऊस में पूरब से पश्चिम की ओर क्रम 1 से 7 संख्या वाले सात कमरे हैं। इन सात कमरों में से तीन खाली हैं, एक कमरे में दो गेस्ट हैं और शेष तीन में प्रत्येक में एक गेस्ट हैं। पांच रहने वाले लोग Q,P,O,N और M हैं।

(i) Q और M अगल-बगल के कमरों में रहती हैं।

(ii) M का कमरा, O के कमरे के पूरब में है।

(iii) P का कमरा, N के कमरे के पूरब में है।

(iv) कोई भी खाली कमरा एक दूसरे के निकट नहीं है।

(v) कमरा न. 5 खाली है। Q कमरा न. 1 में रहती है।

Q-38 If Q occupies N's room with someone else, which of the following conditions will be affected? (arrange the room in such a way that only one condition should be affected)

eng

01. Condition (i)

02. Condition (ii)

03. Condition (iii)

04. Condition (iv)

05. None of these

Q-38 यदि Q किसी और के साथ N का कमरा ले लेती है तो निम्न शर्तों में से कौन सी प्रभावित होगी ? (कमरों को इस प्रकार व्यवस्थित करें कि केवल एक ही शर्त प्रभावित होनी चाहिए)

hi

01. शर्त (i)

02. शर्त (ii)

03. शर्त (iii)

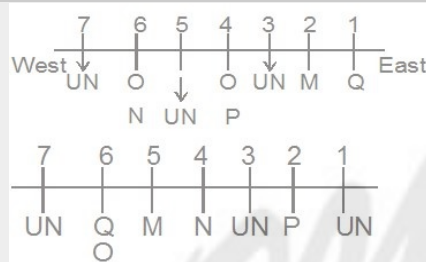
04. शर्त (iv)

05. इनमें से कोई नहीं

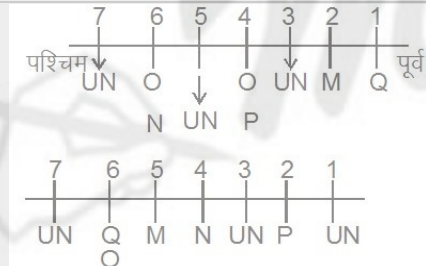
Solution for Question 38

Ans Key: 3

eng



hi



Passage for Question 15, 21, 39 (ST-03 SBI PRE(1-5) 2016)

eng Passage

Study the following information to answer the given questions.

J, K, L, M, N, O, P and Q are sitting around a circular area at equal distances between each other, but not necessarily in the same order. Some of the people are facing the centre while some faces outside (i.e. in a direction opposite to the centre).

Note: Facing the same direction means if one faces the centre then the other also faces the centre and vice-versa. Facing the opposite direction means if one person faces the centre then the other faces outside and vice-versa.

O sits second to the left of M. M faces the centre. K sits to the immediate left of O. Only three people live between K and J. P sits third to the left of J. L sits to the immediate left of N. Immediate neighbours of K face opposite directions (i.e. if one neighbour faces the centre, the other neighbour faces outside and vice-versa). N sits third to the right of K. Both N and L face opposite directions. Q faces the same direction as K.

hi Passage

निम्नलिखित जानकारी को ध्यान से पढ़िए और नीचे दिए गये प्रश्नों के उत्तर दीजिए।

J, K, L, M, N, O, P और Q एक वृताकार क्षेत्र के गिर्द समान दूरी पर बैठे हैं, लेकिन जरूरी नहीं कि एक ही क्रम में हों। कुछ लोग केंद्र की तरफ मुख करके बैठें हैं जबकि कुछ लोग केंद्र से विपरीत दिशा में मुख करके बैठें हैं।

नोट: एक ही दिशा में देखने का मतलब है की यदि कोई व्यक्ति केंद्र की तरफ देख रहा है तब दूसरा भी केंद्र की तरफ ही देख रहा है। विपरीत दिशा का मतलब है कि अगर एक व्यक्ति केंद्र की तरफ देख रहा है तो दूसरा व्यक्ति केंद्र से विपरीत दिशा में देख रहा होगा और उसी तरह से इसका विपरीत।

O, M से बायें दूसरे बैठा है। M का मुख केंद्र की तरफ है। K, O के तुरंत बाईं ओर बैठा है। K और J के बीच केवल तीन लोग बैठें हैं। P, J के बायें तीसरा बैठा है। L, N के तुरंत बाईं ओर है। K के तुरंत पड़ोसी विपरीत दिशा में मुख करके बैठें हैं (यानी अगर एक पड़ोसी केंद्र की तरफ देख रहा है, तब दूसरा केंद्र के विपरीत देख रहा है और उसी तरह से इसका विपरीत)। N, K के तीसरे दायें ओर बैठा है। N और L दोनों ही एक दूसरे से विपरीत दिशा में देख रहे हैं। Q उसी दिशा में देख रहा है जिस दिशा में K का मुख है।

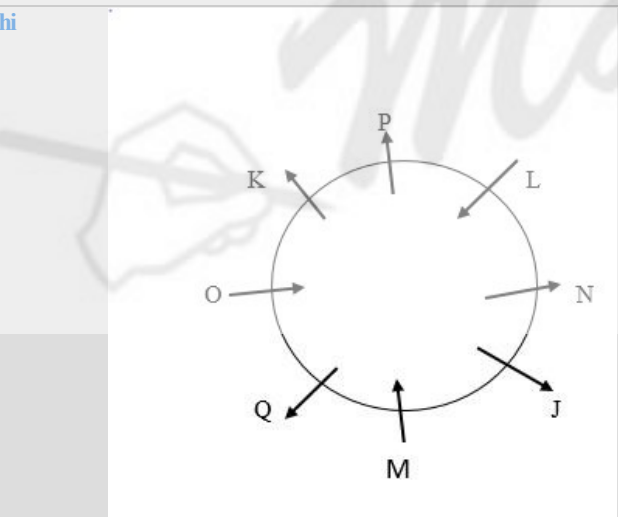
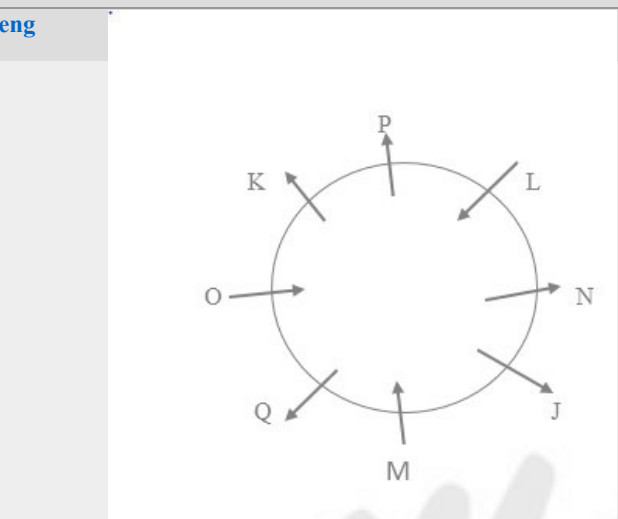
Q-39 Who sits second to the left of J?
eng

01. K
02. L
03. M
04. P
05. Q

Q-39 J के बायें से दूसरे स्थान पर कौन बैठा है?
hi

01. K
02. L
03. M
04. P
05. Q

Solution for Question 39 Ans Key: 2



Passage for Question 1, 2, 3, 9, 40 (ST-02 SBIASSO.BCL(16-20)2015)
eng Passage

Read the following information and answer the questions given below-

In a family of six members A, B, C, D, E and F each plays one game out of six games Football, Hockey, Golf, Pool, Tennis and Swimming. There are two married couples. B who plays Hockey, is daughter – in – law of E. A is father of D who is a Golf player and D is father of C who is a swimmer. F is brother of C. Football is not played by any female member. E’s husband plays pool.

hi Passage

निम्नलिखित सूचनाओं को ध्यानपूर्वक पढ़कर नीचे दिये गये प्रश्नों के उत्तर दीजिये-

छः लोगों A, B, C, D, E और F में से प्रत्येक छः विभिन्न खेलों -फुटबॉल, हॉकी, गोल्फ, पूल, टेनिस और तैराकी में से एक खेल खेलता है। उनमें दो विवाहित जोड़े हैं। B जो हॉकी खेलती है E की डॉटर-इन-लॉ है। A, D का पिता है जो गोल्फ खेलता है और D, C का पिता है जो तैराक है। F, C का भाई है। कोई महिला सदस्य फुटबॉल नहीं खेलती है। E का

Q-40 How is A related to F?

eng

01. Mother
02. Father
03. Grand father
04. Grand mother
05. Sister

Q-40 A, F से किस प्रकार संबंधित है?

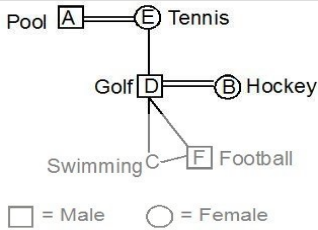
hi

01. माता
02. पिता
03. ग्रांड फादर
04. ग्रांड मदर
05. बहन

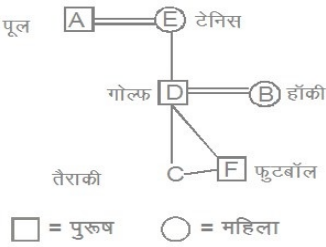
Solution for Question 40

Ans Key: 3

eng



hi



Q-41 Find the value of quantities and state the correct relationship-

eng

Four coins are tossed simultaneously
Quantity I- Probability of getting at least two heads.
Quantity II- Probability of getting at most two tails.

01. Quantity I > Quantity II
02. Quantity I \geq Quantity II
03. Quantity I < Quantity II
04. Quantity I \leq Quantity II
05. Quantity I = Quantity II

Q-41 मात्राओं का मान ज्ञात कीजिये तथा सही सम्बन्ध स्थापित कीजिये-

hi

चार सिक्कों को एक साथ उछाला जाता है
मात्रा I- कम से कम दो शीर्ष प्राप्त करने की संभावना।
मात्रा II -अधिक से अधिक दो पुच्छ पंछ प्राप्त करने की संभावना।

01. मात्रा I > मात्रा II
02. मात्रा I \geq मात्रा II
03. मात्रा I < मात्रा II
04. मात्रा I \leq मात्रा II
05. मात्रा I = मात्रा II

Solution for Question 41

Ans Key: 5

eng

Quantity I-11/16
Quantity II -11/16
Quantity I = Quantity II

hi

मात्रा I-11/16
मात्रा II -11/16
मात्रा I = मात्रा II

Q-42 Find the value of quantities and state the correct relationship-

eng If a & b are natural numbers and $6 \geq a > b > 0$.
Quantity I: $5a^2b$
Quantity II: $6ab^2$

01. Quantity I > Quantity II 02. Quantity I \geq Quantity II
03. Quantity I < Quantity II 04. Quantity I \leq Quantity II
05. Relation cannot be establish or Quantity I = Quantity II

Q-42 मात्राओं का मान ज्ञात कीजिये तथा सही सम्बन्ध स्थापित कीजिये-

hi यदि a & b प्राकृतिक संख्याएँ हैं और $6 \geq a > b > 0$.
मात्रा I: $5a^2b$
मात्रा II: $6ab^2$

01. मात्रा I > मात्रा II 02. मात्रा I \geq मात्रा II
03. मात्रा I < मात्रा II 04. मात्रा I \leq मात्रा II
05. सम्बन्ध स्थापित नहीं किया जा सकता या मात्रा I = मात्रा II

Solution for Question 42 Ans Key: 2

eng Dividing Quantity I and Quantity II we get

$$\frac{I}{II} = \frac{5a}{6b}$$

Now b has to be > 0 and a has to be $> b$

If $a = 2$, $b = 1$, $I > II$

Similarly we will get $I > II$ in all cases

But $a = 6$ and $b = 5$

Then

$a = b$

Quantity I \geq Quantity II

hi मात्रा I और मात्रा II को भाग देने पर

$$\frac{I}{II} = \frac{5a}{6b}$$

अब $b > 0$ और $a > b$

यदि $a = 2$, $b = 1$, $I > II$

समान रूप से $I > II$ सभी शर्त पर है

लेकिन $a = 6$ और $b = 5$

तब

$a = b$

मात्रा I \geq मात्रा II

Q-43 Find the value of quantities and state the correct relationship-

eng Average of 11 consecutive odd numbers is 99.
Quantity I- Average of second highest and lowest number.
Quantity II- Average of third highest and fourth lowest number.

01. Quantity I > Quantity II 02. Quantity I \geq Quantity II
03. Quantity I < Quantity II 04. Quantity I \leq Quantity II
05. Quantity I = Quantity II

Q-43 मात्राओं का मान ज्ञात कीजिये तथा सही सम्बन्ध स्थापित कीजिये-

hi 11 क्रमागत विषम संख्याओं का औसत 99 है।
मात्रा I- दूसरी उच्चतम और निम्नतम संख्या का औसत।
मात्रा II —तीसरी उच्चतम और चौथी निम्नतम संख्या का औसत।

01. मात्रा I > मात्रा II
03. मात्रा I < मात्रा II
05. मात्रा I = मात्रा II

02. मात्रा I \geq मात्रा II
04. मात्रा I \leq मात्रा II

Solution for Question 43

Ans Key: 5

eng Quantity I-100
Quantity II -100
Quantity I = Quantity II

hi मात्रा I-100
मात्रा II -100
मात्रा I = मात्रा II

Q-44 Find the value of quantities and state the correct relationship-

eng

A train cross a platform 250 meter long. Find the length of train.
Quantity I- Train is running at 54 Km/hr and crosses the platform in 45 seconds.
Quantity II- Train is running at 72 Km/hr and crosses the platform in 36 seconds.

01. Quantity I > Quantity II
03. Quantity I < Quantity II
05. Quantity I = Quantity II

02. Quantity I \geq Quantity II
04. Quantity I \leq Quantity II

Q-44 मात्राओं का मान ज्ञात कीजिये तथा सही सम्बन्ध स्थापित कीजिये-

hi

एक ट्रेन 250 मीटर लम्बे एक प्लेटफार्म को पार करती है। ट्रेन की लंबाई ज्ञात कीजिये।
मात्रा I-ट्रेन 54 किमी/घंटे की चाल से चल रही है और 45 सेकंड में प्लेटफार्म को पार करती है।
मात्रा II –ट्रेन 72 किमी/घंटे की चाल से चल रही है और 36 सेकंड में प्लेटफार्म को पार करती है।

01. मात्रा I > मात्रा II
03. मात्रा I < मात्रा II
05. मात्रा I = मात्रा II

02. मात्रा I \geq मात्रा II
04. मात्रा I \leq मात्रा II

Solution for Question 44

Ans Key: 3

eng Quantity I-425
Quantity II -470
Quantity I < Quantity II

hi मात्रा I-425
मात्रा II -470
मात्रा I < मात्रा II

Q-45 Find the value of quantities and state the correct relationship-

eng

There are 3 Red balls, 5 Green balls & 4 White balls in a bag .Four balls are chosen at random
Quantity I: The probability of their being 2 Red and 2 Green ball
Quantity II: The probability of their being 2 Red, 1 Green & 1 White ball

01. Quantity I > Quantity II
03. Quantity I < Quantity II
05. Relation cannot be establish or Quantity I = Quantity II

02. Quantity I \geq Quantity II
04. Quantity I \leq Quantity II

Q-45 मात्राओं का मान ज्ञात कीजिये तथा सही सम्बन्ध स्थापित कीजिये-

hi

एक बैग में 3 लाल, 5 हरी और 4 सफेद गेंदे हैं, इनमें से 4 गेंदे अनियमित रूप से चुनना है।
मात्रा I: दो लाल और दो हरी गेंदे होने की क्या संभावना है।
मात्रा II: दो लाल, एक हरी और एक सफेद गेंदे होने की क्या संभावना है।

01. मात्रा I > मात्रा II
02. मात्रा I \geq मात्रा II

03. मात्रा I < मात्रा II

04. मात्रा I ≤ मात्रा II

05. सम्बन्ध स्थापित नहीं किया जा सकता या मात्रा

I = मात्रा II

Solution for Question 45

Ans Key: 1

eng

Quantity I

$$({}^3C_2 \times {}^5C_2) / {}^{12}C_4 = 2/11$$

Quantity II

$$({}^3C_2 \times {}^5C_1 \times {}^4C_1) / {}^{12}C_4 = 60/495 = 4/33$$

hi

मात्रा I

$$({}^3C_2 \times {}^5C_2) / {}^{12}C_4 = 2/11$$

मात्रा II

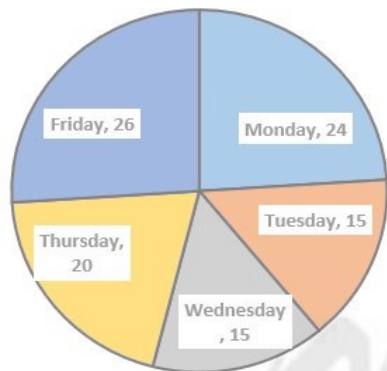
$$({}^3C_2 \times {}^5C_1 \times {}^4C_1) / {}^{12}C_4 = 60/495 = 4/33$$

Passage for Question 46, 47, 48, 49, 51 (ST-2037 SBIPO MAINS M (11-15) 2018)

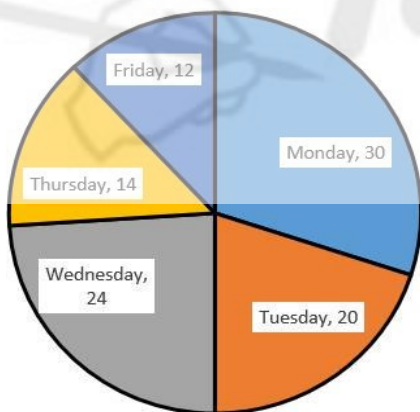
eng Passage

Study the following graph carefully to answer the given questions

Total downstream distance=200 Kms (Distance provided in charts are in percentage)



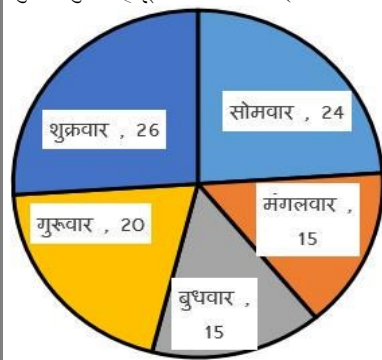
Total upstream distance=300 Kms



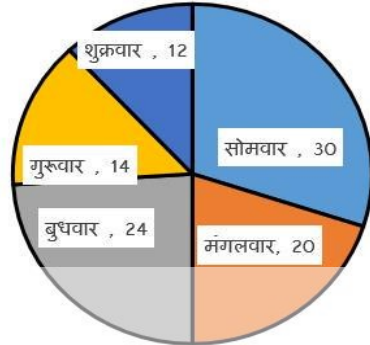
Day	Speed of boat in still water	Speed of stream
Monday	5	—
Tuesday	—	6
Wednesday	4	—
Thursday	—	4
Friday	3	—

hi Passage

दिए गए प्रश्नों के उत्तर देने के लिए निम्नलिखित ग्राफ का ध्यानपूर्वक अध्ययन करें-
कुल अनुप्रवाह दूरी=200 किमी (चार्ट में दी गई दूरी प्रतिशत में है)



कुल ऊर्ध्वप्रवाह दूरी=300 किमी



दिन	स्थिर जल में नाव की गति	धारा की गति
सोमवार	5	—
मंगलवार	—	6
बुधवार	4	—
गुरुवार	—	4
शुक्रवार	3	—

Q-46 A boatman rows downstream at 6 kmph on Wednesday. Find the time taken by the boat to cover upstream distance on the same day.
eng

01. 36 hours
02. 24 hours
03. 30 hours
04. 48 hours
05. None of these

Q-46 एक नाविक बुधवार को अनुप्रवाह 6 किमी प्रति घंटे की चाल से नाव चलाता है। उसी दिन ऊर्ध्वप्रवाह दूरी को तय करने के लिए नाव द्वारा लिए गए समय को ज्ञात कीजिये।
hi

01. 36 घंटे
02. 24 घंटे
03. 30 घंटे
04. 48 घंटे
05. इनमें से कोई नहीं

Solution for Question 46

Ans Key: 1

eng
Downstream Speed = 6kmph=(4+2)
Upstream Speed = (4-2) kmph = 2kmph
Time taken by the boat to cover upstream distance = $72/2 = 36$ hours

hi
अनुप्रवाह चाल = 6 किमी प्रति घंटा=(4+2)
ऊर्ध्वप्रवाह चाल = (4-2) किमी प्रति घंटा = 2 किमी
ऊर्ध्वप्रवाह दूरी को तय करने के लिए नाव द्वारा लिया गया समय = $72/2 = 36$ घंटे

Q-47 A boatman rows up stream at 16 kmph on Tuesday. Find the approximate time taken by the boat to cover downstream distance and upstream distance on the same day.
eng

01. 3.5 hours
02. 4.25 hours
03. 4.75 hours
04. 5.25 hours
05. 3.75 hours

Q-47 **hi** एक नाविक मंगलवार को 16 किमी प्रति घंटे की चाल से ऊर्ध्वप्रवाह नाव चलाता है। उसी दिन अनुप्रवाह दूरी और ऊर्ध्वप्रवाह दूरी को तय करने के लिए नाव द्वारा लिया गया अनुमानित समय ज्ञात कीजिये।

01. 3.5 घंटे
02. 4.25 घंटे
03. 4.75 घंटे
04. 5.25 घंटे
05. 3.75 घंटे

Solution for Question 47 Ans Key: 3

eng $U=u-v=16$
 $v=6$
 $u=22$
 $D=28$
 Required answer = $\frac{30}{28} + \frac{60}{16} = 4.75$ = hours

hi $U=u-v=16$
 $v=6$
 $u=22$
 $D=28$
 अभीष्ट उत्तर = $\frac{30}{28} + \frac{60}{16} = 4.75$ = घंटे

Q-48 **eng** Find the difference between the upstream distance travelled by boat on Tuesday and Friday together and the downstream distance travelled by boat on the same days together.

01. 12 km
02. 18 km
03. 16 km
04. 14 km
05. None of these

Q-48 **hi** मंगलवार और शुक्रवार को नाव द्वारा यात्रा की गई ऊर्ध्वप्रवाह दूरी और उन्हीं दिनों में एकसाथ मिलाकर नाव द्वारा यात्रा की गई अनुप्रवाह दूरी के बीच अंतर ज्ञात कीजिये।

01. 12 किमी.
02. 18 किमी.
03. 16 किमी.
04. 14 किमी.
05. इनमें से कोई नहीं

Solution for Question 48 Ans Key: 4

eng Required Difference = $96 - 82 = 14$

hi अभीष्ट दूरी = $96 - 82 = 14$

Q-49 **eng** Total downstream distance travelled by boat on Monday, Tuesday and Wednesday together is approximately what percentage of total upstream distance travelled by boat on the same days together?

01. 65%
02. 38%
03. 49%
04. 32%
05. 55%

Q-49 **hi** सोमवार, मंगलवार और बुधवार को नाव द्वारा यात्रा की गई कुल अनुप्रवाह दूरी उन्हीं दिन में नाव द्वारा यात्रा की गई कुल ऊर्ध्वप्रवाह दूरी का लगभग कितना प्रतिशत है?

01. 65%
02. 38%
03. 49%
04. 32%
05. 55%

Solution for Question 49 Ans Key: 3

eng Total downstream distance travelled by boat on Monday, Tuesday and Wednesday = 108
 Total up stream distance travelled by boat on Monday, Tuesday and Wednesday = 222
 Required percent = $\frac{108}{222} \times 100 \approx 49\%$

hi सोमवार, मंगलवार और बुधवार को नाव द्वारा यात्रा की गई कुल अनुप्रवाह दूरी = 108
 सोमवार, मंगलवार और बुधवार को नाव द्वारा यात्रा की गई कुल ऊर्ध्वप्रवाह दूरी = 222
 अभीष्ट प्रतिशत = $\frac{108}{222} \times 100 \approx 49\%$

[illegible]

01. 3 : 7 **02.** 3 : 4
03. 4 : 3 **04.** 4 : 7
05. इनमें से कोई नहीं

eng In the first container, Milk = $(100 - 75)\%$ of 6 = 1.5 lt.
In the second container, Milk = 75% of 10 = 7.5 lt.
Total milk in the big container = $(1.5 + 7.5)$ lt. = 9 lt.
Total water in the big container = $21 - 9 = 12$ lt.
Required Ratio = 9 : 12
= 3 : 4
Hence, option(2) is correct.

Q-51 Find the ratio between the down stream distance travelled by boat on Monday, Wednesday, Thursday and Friday together and the Up stream distance travelled by the boat on the same days together?

01. 15 : 27 **02.** 14 : 21
03. 20 : 27 **04.** 17 : 24
05. None of these

01. 15 : 27 02. 14 : 21
03. 20 : 27 04. 17 : 24
05. इनमें से कोई नहीं

eng Required ratio = 170:240 = 17 : 24.

hi अभीष्ट अनुपात = $170 : 240 = 17 : 24$.

[illegible]

01. 12.75 **02.** 13.25
03. 13.5 **04.** 13.75
05. इनमें से कोई नहीं

Solution for Question 52 Ans Key: 3

eng

Cost price of 65 kg of mixture
= 35×9.50+30×10.50
= 332.5+315
= Rs. 647.5

Required answer = $\frac{647.5}{65} \times \frac{135}{100} = 13.5$

hi

Cost price of 65 kg of mixture
= 35×9.50+30×10.50
= 332.5+315
= Rs. 647.5

Required answer = $\frac{647.5}{65} \times \frac{135}{100} = 13.5$

Passage for Question 53, 70, 76, 77, 78 (ST-50 SBI (136-140))

eng Passage

Read the following informations carefully and answer the questions given below.

In a ship, there are total 1680 passengers. Out of these, the ratio of males and females is 7:5 respectively. All passengers go to Britain, France and London. One-fifth males go to only France. Twenty percent females go to only London. Ten percent males go to only Britain. 24 percent females go to Britain and France both. The number of females going to only Britain is two hundred percent of the number of males going to the same country. One-fourteenth males go to all the three countries. The respective ratio of the number of males and females going to France and London both is 2:1. Ten percent females go to only France where as eight percent females go to France and London both. Remaining females go to all the three countries. The number of males going to Britain and France is 200 percent of the number of females going to the same countries. Remaining males go to only London.

hi Passage

निम्नलिखित जानकारियों का ध्यानपूर्वक अध्ययनकर नीचे पूछे गये प्रश्नों के उत्तर दीजिए।

एक शिप में कुल यात्रियों की संख्या 1680 है। जिसमें पुरुषों और महिलाओं की संख्या के बीच अनुपात क्रमशः 7 : 5 है। सभी यात्री ब्रिटेन, फ्रांस और लंदन जाते हैं। एक-पंचमांश पुरुष केवल फ्रांस जाते हैं। बीस प्रतिशत महिलायें केवल लंदन जाती हैं। दस प्रतिशत पुरुष केवल ब्रिटेन जाते हैं। 24 प्रतिशत महिलायें ब्रिटेन और फ्रांस दोनों जाती हैं। केवल ब्रिटेन जाने वाली महिलाओं की संख्या उसी देश में जाने वाले पुरुषों की संख्या का दो सौ प्रतिशत है। पुरुषों का 1/14 तीनों देशों में जाते हैं। फ्रांस और लंदन दोनों जाने वाले पुरुषों और महिलाओं की संख्या के बीच अनुपात 2 : 1 है। दस प्रतिशत महिलायें केवल फ्रांस जाती हैं जबकि आठ प्रतिशत महिलायें फ्रांस और लंदन दोनों जाती हैं। शेष महिलायें तीनों देशों में जाती हैं। ब्रिटेन और फ्रांस जाने वाले पुरुषों की संख्या उन्हीं देशों में जाने वाली महिलाओं की संख्या का 200 प्रतिशत है। शेष पुरुष केवल लंदन जाते हैं।

Q-53 The total number of females going to Britain is **approximately** what percent of the total number of passengers in the ship?

eng

01. 26%

02. 18%
03. 29%

04. 33%
05. 22%

Q-53 ब्रिटेन जाने वाली महिलाओं की कुल संख्या शिप में कुल यात्रियों की संख्या का लगभग कितने प्रतिशत है?

hi

01. 26%

02. 18%
03. 29%

04. 33%
05. 22%

Solution for Question 53

Ans Key: 1

eng

	Male	Female
Total	980	700
Only France	196	70
Only London	420	140
Only Britain	98	196
Britain+France	84	168
France+London	112	56
All	70	70

Req. percent = $\frac{434}{1680} \times 100 \approx 26$

hi

	पुरुष	महिला
कुल	980	700
केवल फ्रांस	196	70
केवल लंदन	420	140
केवल ब्रिटेन	98	196
ब्रिटेन+फ्रांस	84	168
फ्रांस+लंदन	112	56
सभी	70	70

$$\text{अभीष्ट प्रतिशत} = \frac{434}{1680} \times 100 \approx 26$$

A right circular cone is exactly fitted inside a cube in such a way that the edges of the base of the cone are touching the edges of one of the faces of the cube and the vertex is on the opposite face of the cube. If the volume of the cube is 125 cc, what is the approximate volume of the cone?

- 01.** 30 cc **02.** 27 cc
03. 33 cc **04.** 44 cc
05. 49 cc

एक लम्बवृत्तीय शंकु को एक घन के अंदर ठीक इस प्रकार से फिट किया जाता है, कि शंकु के आधार के किनारे, घन के फलकों में से किसी एक फलक की भुजाओं को स्पर्श करते हैं तथा उसका शीर्ष, घन के विपरीत फलक पर है। यदि घन का आयतन 125cc है, तो उस शंकु का तलभग आयतन कितना है?

- 01.** 30 cc
03. 33 cc
05. 49 cc

Answer for Question 54

Ans Key: 3

Length of side of cube will be 5 so
So base radius of cone will 2.5
Hence volume will be 33 cc

घन के भुजा की लंबाई 5 होगी अतः
अतः शंकु के आधार कि त्रिज्या 2.5 होगी
अतः आयतन 33 cc होगा

A shopkeeper purchased 25 identical pieces of mobile phones at the rate of Rs. 1500 each. He spent an amount of Rs. 2500 on transport and packing. He fixed the labeled price of each phone at Rs. 2000. However, he decided to give a discount of 5% on the labeled price. What is percent profit earned by him?

- 01.** 12.5 **02.** 16.67
03. 18.75 **04.** 22.5
05. NonE of these

एक दुकानदार ने 25 मोबाइल फोन को 1500 रु. प्रति फोन की दर से खरीदा। उसने पैकिंग एवं भाड़े पर 2500 रु. खर्च किये। तत्पश्चात् उसने उन फोन को बेचने हेतु 2000 रु. प्रतिफोन का अंकित मूल्य अंकित किया। इस अंकित मूल्य पर उसने 5% छूट देने का निश्चय किया तो उसे इस व्यापार में कितने प्रतिशत का लाभ हुआ?

- | | |
|-------------------|-----------|
| 01. 12.5 | 02. 16.67 |
| 03. 18.75 | 04. 22.5 |
| 05. NonE of these | |

for Question 55

Ans Key: 3

$$\begin{aligned}\text{Total cost of 25 mobile sets} &= \\ 15000 \times 25 + 2500 \\ &= 40000.\end{aligned}$$

$$\text{Cost price of 1 mobile set} = \frac{40000}{25} = 1600$$

Labeled price = 2000.

S.P. 1 mobile = 95% of 2000
= 1900

$$\text{profit \%} = \frac{1900 - 1600}{1600} \times 100\% = 18.75$$

25 मोबाइल सेटो का कुल क्रय मूल्य =

$$15000 \times 25 + 2500$$

$$= 40000.$$

$$1 \text{ मोबाइल सेट का क्रय मूल्य} = \frac{40000}{25} = 1600$$

अंकित मूल्य = 2000.

1 मोबाइल सेट का विक्री मूल्य = 95% of 2000
= 1900

$$\text{लाभ \%} = \frac{1900 - 1600}{1600} \times 100\% = 18.75$$

What approximate should come at place of question mark (?) in the following questions?

$$\sqrt{290} \times 2.07 \div 11.1 = ?$$

01. 2

02. 3

03. 5

04. 6

05. 4

Q-56 निम्नलिखित प्रश्नों में प्रश्नचिन्ह (?) के स्थान पर लगभग क्या मान आएगा?

hi $\sqrt{290} \times 2.07 \div 11.1 = ?$

01. 2

02. 3

03. 5

04. 6

05. 4

Solution for Question 56

Ans Key: 2

eng	$? = \frac{17 \times 2}{11} \approx 3$
-----	--

hi	$? = \frac{17 \times 2}{11} \approx 3$
----	--

Q-57 A can finish a piece of work in 1 days, B in $\frac{2}{5}$ days. They started working together and worked for $\frac{1}{5}$ days and left. Remaining work is completed by C alone in 6 hours. If they get Rs. 734.50 for this work then calculate share of C and it is given that 20 hours is assumed as 1 day.

01. 250.5

02. 220.35

03. 240.75

04. 175.50

05. None of these

Q-57 A किसी कार्य को 1 दिन में और B $2/5$ दिनों में पूरा कर सकता है। उन्होंने एक साथ काम करना शुरू कर दिया और $1/5$ दिनों के लिए काम किया और छोड़ दिया। शेष कार्य 6 घंटे में अकेले C द्वारा पूरा किया जाता है। यदि उन्हें इस काम के लिए 734.50 रु भुगतान किए जायें तो C की हिस्सेदारी की गणना करें और यह दिया गया है कि 20 घंटे को 1 दिन माना जाता है।

01. 250.5

02. 220.35

03. 240.75

04. 175.50

05. इनमें से कोई नहीं

Solution for Question 57

Ans Key: 2

Worker	Work (lcm)	Efficiency
A-1 day=20 hours	4	2
B-2/5 day = 8 hours		5

Remaining work after $1/5$ days means 4 hours =

$$40 - 4 \times 7 = 12$$

This is completed by C alone in 6 hours.

Efficiency of C = $12/6 = 2$

Work done by A = $4 \times 2 = 8$

Work done by B = $4 \times 5 = 20$

Work done by C = $6 \times 2 = 12$

Ratio of the work done by A, B and C = 2 : 5 : 3

$$\text{Share of C} = (3/10) \times 734.50 = 220.35$$

श्रमिक	कार्य (lcm)	क्षमता
A-1 दिन=20 घंटे	4	2
B-2/5 दिन = 8 घंटे		5

Remaing work after 1/5 days means 4 hours =

1/5 दिनों अर्थात 4 घंटे के बाद शेष कार्य

$$40 - 4 \times 7 = 12$$

यह अकेले C द्वारा 6 घंटे में पूरा किया जाता है

$$C \text{ की क्षमता} = 12/6 = 2$$

$$A \text{ द्वारा किया गया कार्य} = 4 \times 2 = 8$$

$$B \text{ द्वारा किया गया कार्य} = 4 \times 5 = 20$$

$$C \text{ द्वारा किया गया कार्य} = 6 \times 2 = 12$$

$$A, B \text{ तथा } C \text{ के द्वारा किये गए कार्य का अनुपात} = 2 : 5 : 3$$

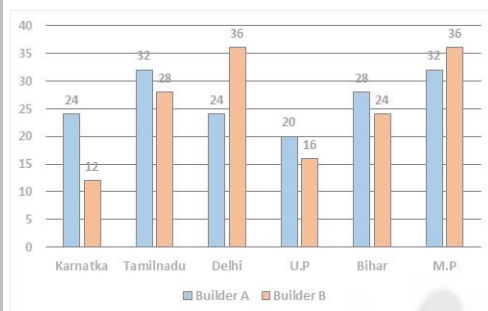
$$C \text{ का हिस्सा} = (3/10) \times 734.50 = 220.35$$

Passage for Question 58, 63, 64, 69, 74 (ST-2051RRBCLMAINS(46-50M)2019)

eng Passage

Study the following bar chart and table chart carefully and answer the questions given beside.

Following bar graph shows the amount of money allocated (in lakh) to 2 builders by six different state governments for various government projects such as House building, Road development, Bridge development and Metro projects.

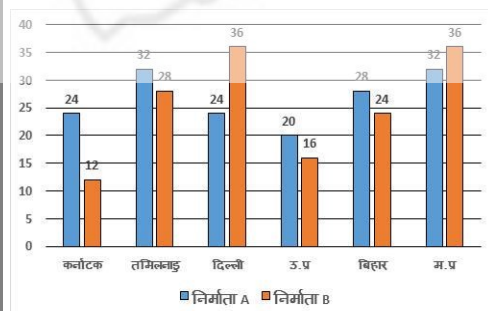


Project	Builder A	Builder B
House	25%	20%
Roads	30%	35%
Bridge	20%	25%
Metro	25%	20%

hi Passage

निम्नलिखित बार चार्ट और टेबल चार्ट का ध्यानपूर्वक अध्ययन करें और बगल में दिए गए प्रश्नों के उत्तर दें।

निम्नलिखित बार ग्राफ विभिन्न सरकारी परियोजनाओं जैसे घर निर्माण, सड़क विकास, पुल विकास और मेट्रो परियोजनाओं के लिए छह अलग-अलग राज्य सरकारों द्वारा 2 बिल्डरों को (लाख में) आवंटित राशि दिखाती है।



परियोजना	निर्माता A	निर्माता B
मकान	25%	20%
सड़कें	30%	35%
पुल	20%	25%
मेट्रो	25%	20%

Q-58
eng

If the amount allocated to builder A for Metro development in Kerala is 25% of total amount allocated to him for Roads development in given 6 states and amount allocated to builder B for House development in Kerala is 52.6% of total amount allocated to him for Bridge development in given 6 states, then find the difference between the amount allocated to builder A for Metro development in Kerala and amount allocated to builder B for House development in Kerala (in lakh).

01. 5

02. 7

03. 8

04. 6

05. 4

Q-58 **hi** यदि केरल में मेट्रो के विकास के लिए निर्माता A को आवंटित राशि, 6 राज्यों में सड़क विकास के लिए उसे आवंटित राशि का 25% है और केरल में माकान विकास के लिए निर्माता B को आवंटित राशि 6 राज्यों में पुल के विकास के लिए उसे आवंटित कुल राशि का 52.6% है, फिर केरल में मेट्रो विकास के लिए निर्माता A को आवंटित राशि और केरल में माकान विकास के लिए निर्माता B को आवंटित राशि के बीच अंतर का पता लगाएं (लाख में)।

01. 5

03. 8

05. 4
02. 7

04. 6

Solution for Question 58 Ans Key: 3

eng

B	C	T	Ho	Ro	Br	Me
A	K	24	6	7.2	4.8	6
	Ta	32	8	9.6	6.4	8
	De	24	6	7.2	4.8	6
	U.P	20	5	6	4	5
	Bi	28	7	8.4	5.6	7
	M.P	32	8	9.6	6.4	8
B	K	12	2.4	4.2	3	2.4
	Ta	28	5.6	9.8	7	5.6
	De	36	7.2	12.6	9	7.2
	U.P	16	3.2	5.6	4	3.2
	Bi	24	4.8	8.4	6	4.8
	M.P	36	7.2	12.6	9	7.2

20 – 12 = 8

hi

B	C	T	Ho	Ro	Br	Me
A	K	24	6	7.2	4.8	6
	Ta	32	8	9.6	6.4	8
	De	24	6	7.2	4.8	6
	U.P	20	5	6	4	5
	Bi	28	7	8.4	5.6	7
	M.P	32	8	9.6	6.4	8
B	K	12	2.4	4.2	3	2.4
	Ta	28	5.6	9.8	7	5.6
	De	36	7.2	12.6	9	7.2
	U.P	16	3.2	5.6	4	3.2
	Bi	24	4.8	8.4	6	4.8
	M.P	36	7.2	12.6	9	7.2

20 – 12 = 8

Q-59 **eng** What approximate should come at place of question mark (?) in the following questions?

63.49% of 8918.4+?% of 5321.2= 6826.55

01. 26

03. 41

05. 22
02. 33

04. 19

Q-59 **hi** निम्नलिखित प्रश्नों में प्रश्नचिन्ह (?) के स्थान पर लगभग क्या मान आएगा?

63.49% of 8918.4+?% of 5321.2= 6826.55

01. 26

03. 41

05. 22
02. 33

04. 19

Solution for Question 59 Ans Key: 5

eng

63.5% of 8920+?% of 5320=6830
5320×?=(6830-5664)×100
?=22 (approx)

hi

63.5% of 8920+?% of 5320=6830
5320×?=(6830-5664)×100
?=22 (approx)

Q-60 **eng** The question given below contain three statements giving certain data. You have to decide whether the data given in the statements are sufficient for answering the question ?

Rakhi, Surjeet and Aditya together started a business. What is Surjeet's investment?

- I. The amount invested by Surjeet is half the amount invested by Rakhi and Aditya.
- II. The average invested amount by all the three is Rs. 30 lakh.
- III. The ratio between the amount invested by Rakhi and Surjeet is 3 : 4.

01. All I, II and III
02. Only I and II

04. II and either I or III

03. Only II and III

05. Answer can't be given even using all the three statements.

Q-60 नीचे दिए गए प्रश्नों में तीन कथनों के माध्यम से कुछ जानकारियां दी गई हैं आपको यह निर्णय करना है कि क्या कथनों में दी गई जानकारी उत्तर देने के लिए पर्याप्त हैं।

hi

राखी, सुरजीत और आदित्य ने मिलकर एक व्यवसाय आरम्भ किया तो सुरजीत का निवेश क्या है?

I. सुरजीत द्वारा निवेशित राशि राखी और आदित्य द्वारा निवेशित राशि की आधी है।

II. तीनों द्वारा औसत निवेशित राशि 30 लाख रु. है।

III. राखी और सुरजीत द्वारा निवेशित राशि के बीच अनुपात 3 : 4 है।

01. सभी I, II और III

02. केवल I और II

03. केवल II और III

04. II और या तो I या III

05. तीनों कथनों को मिलाकर भी उत्तर नहीं दिया जा सकता

Solution for Question 60

Ans Key: 2

eng

From I and II
Surjeet = Rs. 30 lakh

hi

I और II से,
सुरजीत = रु. 30 लाख

Q-61 What approximate should come at place of question mark (?) in the following questions?

eng

$(42.03\% \text{ of } 495.04 + 58.02\% \text{ of } 1200) = 9 \times ?$

01. 285

02. 315

03. 275

04. 260

05. 245

Q-61 निम्नलिखित प्रश्नों में प्रश्नचिन्ह (?) के स्थान पर लगभग क्या मान आएगा?

hi

$(42.03\% \text{ of } 495.04 + 58.02\% \text{ of } 1200) = 9 \times ?$

01. 285

02. 315

03. 275

04. 260

05. 245

Solution for Question 61

Ans Key: 1

eng

$(207+696)/9=284.3=285$ (approx)

hi

$(207+696)/9=284.3=285$ (approx)

Q-62 What approximate should come at place of question mark (?) in the following questions?

eng

$68\% \text{ of } 1288 + 26\% \text{ of } 734 - 215 = ?$

01. 800

02. 900

03. 850

04. 750

05. 950

Q-62 निम्नलिखित प्रश्नों में प्रश्नचिन्ह (?) के स्थान पर लगभग क्या मान आएगा?

hi

$68\% \text{ of } 1288 + 26\% \text{ of } 734 - 215 = ?$

01. 800

02. 900

03. 850

04. 750

05. 950

Solution for Question 62

Ans Key: 3

eng

$68\% \text{ of } 1288 + 26\% \text{ of } 734 - 215 = x$ $875.84 + 190.84 - 215 = 852=850$ (approx)

hi

$68\% \text{ of } 1288 + 26\% \text{ of } 734 - 215 = x$ $875.84 + 190.84 - 215 = 852=850$ (approx)

Q-63 Find that the amount allocated to builder B for Bridges in the states Delhi, UP, Bihar and MP together is how much more than the amount allocated to builder A for bridges on same states together (in lakh)?

eng

02. 5.6

04. 6.8

05. None of these

जात करें कि दिल्ली, यूपी, बिहार और M.P राज्यों में पुलों के लिए निर्माता B को आवंटित राशि एक साथ इन्ही राज्यों के पुलों के लिए निर्माता A को आवंटित राशि से कितनी अधिक है (लाख में)?

02. 5.6

04. 6.8

05. इनमे से कोई नहीं

Answer for Question 63

Ans Key: 1

B	C	T	Ho	Ro	Br	Me
A	K	24	6	7.2	4.8	6
	Ta	32	8	9.6	6.4	8
	De	24	6	7.2	4.8	6
	U.P	20	5	6	4	5
	Bi	28	7	8.4	5.6	7
	M.P	32	8	9.6	6.4	8
B	K	12	2.4	4.2	3	2.4
	Ta	28	5.6	9.8	7	5.6
	De	36	7.2	12.6	9	7.2
	U.P	16	3.2	5.6	4	3.2
	Bi	24	4.8	8.4	6	4.8
	M.P	36	7.2	12.6	9	7.2

$$28 - 20.8 = 7.2$$

B	C	T	Ho	Ro	Br	Me
A	K	24	6	7.2	4.8	6
	Ta	32	8	9.6	6.4	8
	De	24	6	7.2	4.8	6
	U.P	20	5	6	4	5
	Bi	28	7	8.4	5.6	7
	M.P	32	8	9.6	6.4	8
B	K	12	2.4	4.2	3	2.4
	Ta	28	5.6	9.8	7	5.6
	De	36	7.2	12.6	9	7.2
	U.P	16	3.2	5.6	4	3.2
	Bi	24	4.8	8.4	6	4.8
	M.P	36	7.2	12.6	9	7.2

$$28 - 20.8 = 7.2$$

Find the ratio of amount allocated to builder B for House development in the states Karnataka, Tamilnadu, Delhi and UP together to the amount allocated to builder A for House development in the states Karnataka, Tamilnadu, Delhi and UP together.

02. 125:92

04. 137:86

05. None of these

राज्यों कर्नाटक, तमिलनाडु, दिल्ली और यूपी में घर के विकास के लिए निर्माता B को आवंटित राशि का कर्नाटक, तमिलनाडु, दिल्ली और यूपी में एक साथ निर्माता A को घर के विकास के लिए आवंटित राशि का अनुपात ज्ञात करें।

02. 125:92

04. 137:86

05. इनमे से कोई नहीं

Answer for Question 64

Ans Key: 1

B	C	T	Ho	Ro	Br	Me
A	K	24	6	7.2	4.8	6
	Ta	32	8	9.6	6.4	8
	De	24	6	7.2	4.8	6
	U,P	20	5	6	4	5
	Bi	28	7	8.4	5.6	7
	M,P	32	8	9.6	6.4	8
B	K	12	2.4	4.2	3	2.4
	Ta	28	5.6	9.8	7	5.6
	De	36	7.2	12.6	9	7.2
	U,P	16	3.2	5.6	4	3.2
	Bi	24	4.8	8.4	6	4.8
	M,P	36	7.2	12.6	9	7.2

$$18.4:25 = 92:125$$

B	C	T	Ho	Ro	Br	Me
A	K	24	6	7.2	4.8	6
	Ta	32	8	9.6	6.4	8
	De	24	6	7.2	4.8	6
	U,P	20	5	6	4	5
	Bi	28	7	8.4	5.6	7
	M,P	32	8	9.6	6.4	8
B	K	12	2.4	4.2	3	2.4
	Ta	28	5.6	9.8	7	5.6

	20	3.6	9.6	7	3.6
De	36	7.2	12.6	9	7.2
U.P	16	3.2	5.6	4	3.2
Bi	24	4.8	8.4	6	4.8
M.P	36	7.2	12.6	9	7.2

$$18.4:25 = 92:125$$

Q-65 What approximate should come at place of question mark (?) in the following questions?

eng

$$\sqrt{7} + \sqrt{1342} \times 24 - 13.83 = 895$$

01. 1600

02. 2025

03. 2500

04. 1225

05. 3025

Q-65 निम्नलिखित प्रश्नों में प्रश्नचिन्ह (?) के स्थान पर लगभग क्या मान आएगा?

hi

$$\sqrt{7} + \sqrt{1342} \times 24 - 13.83 = 895$$

01. 1600

02. 2025

03. 2500

04. 1225

05. 3025

Solution for Question 65

Ans Key: 2

eng

$$\begin{aligned}\sqrt{7} + 36 \times 24 - 14 &= 895 \\ \sqrt{7} + 850 &= 895 \\ \sqrt{7} &= 45 \\ ? &= 45^2 = 2025\end{aligned}$$

hi

$$\begin{aligned}\sqrt{7} + 36 \times 24 - 14 &= 895 \\ \sqrt{7} + 850 &= 895 \\ \sqrt{7} &= 45 \\ ? &= 45^2 = 2025\end{aligned}$$

Q-66 A boat can travel 4.2 km upstream in 14 min. If the ratio of the speed of the boat in still water to the speed of the stream is 7:1. How much time will the boat take to cover 17.6 km downstream?

eng

01. 42 minute

02. 48 minute

03. 40 minute

04. 44 minute

05. None of these

Q-66 एक नाव 14 मिनट में 4.2 किमी धारा के अनुप्रवाह यात्रा कर सकती है। यदि धारा की चाल व शांत जल में नाव की चाल में 7:1 का अनुपात है। तो धारा के अनुप्रवाह में 17.6 किमी की दूरी तय करने में कितना समय लगेगा?

hi

01. 42 मिनट

02. 48 मिनट

03. 40 मिनट

04. 44 मिनट

05. इनमें से कोई नहीं

Solution for Question 66

Ans Key: 4

eng

Let the speed of the boat in still water and the speed of the stream is 7x and x
Then, Downstream speed = 8x, upstream speed = 6x
According to the question-
Upstream speed
$$= 4.2 \times \frac{60}{14} = 18 \text{ kmph}$$
$$6x = 18 \Rightarrow x = 3$$
Hence Downstream speed = $8 \times 3 = 24$
$$\text{Time taken for 17.6 km} = 17.6 \times \frac{60}{24} = 44 \text{ min}$$

hi

यदि शांत जल में नाव की चाल व धारा की चाल 7x और x हैं।
तब, अनुप्रवाह गति = 8x, प्रतिकूल गति = 6x
प्रश्नानुसार -
प्रतिकूल गति
$$= 4.2 \times \frac{60}{14} = 18 \text{ किमी/ घंटे}$$
$$6x = 18 \Rightarrow x = 3$$
अतः, अनुप्रवाह गति = $8 \times 3 = 24$

$$17.6 \text{ किमी तय करने में लिया गया समय} \\ = 17.6 \times \frac{60}{24} = 44 \text{ मिनट}$$

Q-67 The question given below contain three statements giving certain data. You have to decide whether the data given in the statements are sufficient for answering the question ?
eng

What is the speed of train?

- I.** Train crosses a signal in 14 seconds.
- II.** Train crosses another train in 16 seconds.
- III.** Train crosses 200 m. long platform in 24 seconds.

- 01.** Only I and II
- 02.** Only I and III
- 03.** Only II and III
- 04.** Any two
- 05.** All I, II and III

Q-67 ट्रेन की गति क्या है?
hi

- I.** ट्रेन एक सिग्नल को 14 सेकण्ड में पार करती है।
- II.** ट्रेन दूसरी ट्रेन को 16 सेकण्ड में पार करती है।
- III.** ट्रेन 200 मीटर लम्बे प्लेटफॉर्म को 24 सेकण्ड में पार करती है।

- 01.** केवल I और II
- 02.** केवल I और III
- 03.** केवल II और III
- 04.** कोई दो
- 05.** सभी I, II और III

Solution for Question 67

Ans Key: 2

eng From I and III

$$\frac{x}{14} = \frac{x+200}{24}$$

$$x = 280 \text{ m.}$$

$$\text{Speed} = \frac{280}{14}$$

$$= 20 \text{ m./sec.}$$

hi I और III से,

$$\frac{x}{14} = \frac{x+200}{24}$$

$$x = 280 \text{ मी.}$$

$$\text{चाल} = \frac{280}{14}$$

$$= 20 \text{ मी./से.}$$

Q-68 In an examination, the number of student passed was four times the number of students failed. If 35 student less appeared and 9 more had failed, then the ratio of passed and failed students would have been 2 : 1. Find the total number of appeared students?
eng

- 01.** 135
- 02.** 155
- 03.** 145
- 04.** 165
- 05.** 124

Q-68 एक परीक्षा मे उत्तीर्ण छात्रों की संख्या, अनुत्तीर्ण विद्यार्थियों की संख्या का चार गुना है। यदि परीक्षा में 35 विद्यार्थी कम सम्मिलित होते एवं 9 अधिक अनुत्तीर्ण होते तो उत्तीर्ण और अनुत्तीर्ण विद्यार्थियों के बीच अनुपात 2 : 1 हो जाता कुल कितने विद्यार्थी है?
hi

- 01.** 135
- 02.** 155
- 03.** 145
- 04.** 165
- 05.** 124

Solution for Question 68

Ans Key: 2

eng failed = x
 passed = 4x
 total = 5x
 according to question,

$$\frac{5x-35}{x+9} = \frac{3}{1}$$

$$\Rightarrow x = 31$$

total students = 155

अनु उत्तीर्ण = x

उत्तीर्ण = 4x

कुल = 5x

प्रश्नुसार ,

$$\frac{5x-35}{x+9} = \frac{3}{1}$$

$$\Rightarrow x = 31$$

कुल विद्यार्थियों की संख्या = 155

Q-69
eng

If Builder A saves 20% of the amount allocated for House development in the state Delhi and deposited that amount in a scheme which offers 6% simple interest per annum, then find that what amount builder A will receive as interest from the scheme at the end of 4 years from the investment.

01. 100000

02. 120000

03. 144000

04. 136000

05. None of these

Q-69
hi

यदि निर्माता A राज्य दिल्ली में घर के विकास के लिए आवंटित राशि का 15% बचाता है और उस राशि को एक ऐसी योजना में जमा करता है, जो प्रति वर्ष 6% साधारण ब्याज प्रदान करती है, फिर ज्ञात करें कि निवेश से 4 वर्ष के अंत में योजना से कितनी राशि बिल्डर A को ब्याज के रूप में प्राप्त हुआ।

01. 100000

02. 120000

03. 144000

04. 136000

05. इनमे से कोई नहीं

Solution for Question 69

Ans Key: 3

eng

B	C	T	Ho	Ro	Br	Me
A	K	24	6	7.2	4.8	6
	Ta	32	8	9.6	6.4	8
	De	24	6	7.2	4.8	6
	U.P	20	5	6	4	5
	Bi	28	7	8.4	5.6	7
	M.P	32	8	9.6	6.4	8
B	K	12	2.4	4.2	3	2.4
	Ta	28	5.6	9.8	7	5.6
	De	36	7.2	12.6	9	7.2
	U.P	16	3.2	5.6	4	3.2
	Bi	24	4.8	8.4	6	4.8
	M.P	36	7.2	12.6	9	7.2

$$\frac{600000 \times 6 \times 4}{100} = 144000$$

hi

B	C	T	Ho	Ro	Br	Me
A	K	24	6	7.2	4.8	6
	Ta	32	8	9.6	6.4	8
	De	24	6	7.2	4.8	6
	U.P	20	5	6	4	5
	Bi	28	7	8.4	5.6	7
	M.P	32	8	9.6	6.4	8
B	K	12	2.4	4.2	3	2.4
	Ta	28	5.6	9.8	7	5.6
	De	36	7.2	12.6	9	7.2
	U.P	16	3.2	5.6	4	3.2
	Bi	24	4.8	8.4	6	4.8
	M.P	36	7.2	12.6	9	7.2

$$\frac{600000 \times 6 \times 4}{100} = 144000$$

Passage for Question 53, 70, 76, 77, 78 (ST-50 SBI (136-140))

eng Passage

Read the following informations carefully and answer the questions given below.

In a ship, there are total 1680 passengers. Out of these, the ratio of males and females is 7:5 respectively. All passengers go to Britain, France and London. One-fifth males go to only France. Twenty percent females go to only London. Ten percent males go to only Britain. 24 percent females go to Britain and France both. The number of females going to only Britain is two hundred percent of the number of males going to the same country. One-fourteenth males go to all the three countries. The respective ratio of the number of males and females going to France and London both is 2:1. Ten percent females go to only France where as eight percent females go to France and London both. Remaining females go to all the three countries. The number of males going to Britain and France is 200 percent of the number of females going to the same countries. Remaining males go to only London.

hi	<p>मान लीजिये कुल मतदाता x है</p> $x \times \frac{3}{5} \times \frac{90}{100} = 540$ $x = 1000$ $1000 \times \frac{2}{5} \times \frac{80}{100} = 320$ $540 + 320 = 860$
----	---

Q-72 Raman took a loan of Rs.15000 from Laxman. He was agreed that for the first three years rate of interest charged would be at 8% Simple Interest per annum and at 10% Compound Interest (compounded, annually) from the fourth year onwards. Ram did not pay anything until the end of the fifth year. How much would he repay if he clears the entire amount, only at the end of fifth year? (In Rs.)

- | | |
|---------------------|---------------------|
| 01. Rs.22506 | 02. Rs.22105 |
| 03. Rs.22900 | 04. Rs.22500 |
| 05. Rs.22450 | |

Q-72 **hi** रमन, लक्ष्मण से 15000 रुपये का ऋण लेता है। वह इस बात पर सहमत होता है कि पहले तीन वर्षों के लिए साधारण ब्याज की दर 8% प्रतिवर्ष होगी और चौथे वर्ष से आगे के लिए चक्रवृद्धि ब्याज की दर 10% (वार्षिक संयोजित) होगी। राम, पांचवें वर्ष के अंत तक कोई भुगतान नहीं करता है। कैबत पांचवें वर्ष के अंत में, उसे पूरी राशि चुकाने के लिए कितनी राशि का भुगतान करना होगा? (रुपए में)

- | | | | |
|------------|-----------|------------|-----------|
| 01. | R.S.22506 | 02. | R.S.22105 |
| 03. | R.S.22900 | 04. | R.S.22500 |
| 05. | R.S.22450 | | |

Solution for Question 72

Ans Key: 1

eng At the end of three years amount will be $15000 + 360 = \text{Rs. } 18600$
Now after three years CI will be charged so amount will be
$$\text{Rs. } 18600 \times \frac{11}{10} \times \frac{11}{10} = \text{Rs. } 22506$$

hi तीन साल के अंत में राशि होगी $15000 + 360 = \text{Rs.}18600$
अब तीन साल बाद सीआई से शुल्क लिया जाएगा तो राशि होगी
 $\text{Rs.}18600 \times \frac{11}{10} \times \frac{11}{10} = \text{Rs.}22506$

Q-73 All the words of 'ALIVE' are arranged in dictionary order. Find the position of the word LIVEA.

- 01.** 49 **02.** 55
03. 57 **04.** 61
05. 90

Q-73 'ALIVE' के अक्षरों को शब्दकोष के अनुसार व्यवस्थित किया जाता है। शब्द LIVEA की स्थिति ज्ञात कीजिये।

- 01.** 49 **02.** 55
03. 57 **04.** 61
05. 90

Solution for Question 73

Ans Key: 5

eng

- words starting with A = $4! = 24$
- words starting with E = $4! = 24$
- words starting with I = $4! = 24$
- words starting with LA = $3! = 6$
- words starting with LE = $3! = 6$
- words starting with LIA = $2! = 2$,
- words starting with LIE = $2! = 2$
- words starting with LIVA = 1

the first word with starting with LIVE will be LIVEA

so rank = $24 + 24 + 6 + 6 + 2 + 2 + 1 + 1 = 90$

hi	A से प्रारम्भ होने वाले शब्द = $4! = 24$
	E से प्रारम्भ होने वाले शब्द = $4! = 24$
	I से प्रारम्भ होने वाले शब्द = $4! = 24$
	LA से प्रारम्भ होने वाले शब्द = $3! = 6$
	LE से प्रारम्भ होने वाले शब्द = $3! = 6$
	LIA से प्रारम्भ होने वाले शब्द = $2! = 2$
	LIE से प्रारम्भ होने वाले शब्द = $2! = 2$

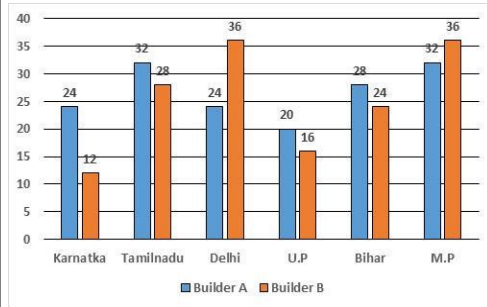
LIVA से प्रारम्भ होने वाले शब्द = 1
 LIVE से प्रारम्भ होने वाला पहला शब्द LIVEA होगा |
 अतः क्रम स्थान = 24 + 24 + 6 + 6 + 2 + 2 + 1 + 1 = 90

Passage for Question 58, 63, 64, 69, 74 (ST-2051RRBCLMAINS(46-50M)2019)

eng Passage

Study the following bar chart and table chart carefully and answer the questions given beside.

Following bar graph shows the amount of money allocated (in lakh) to 2 builders by six different state governments for various government projects such as House building, Road development, Bridge development and Metro projects.

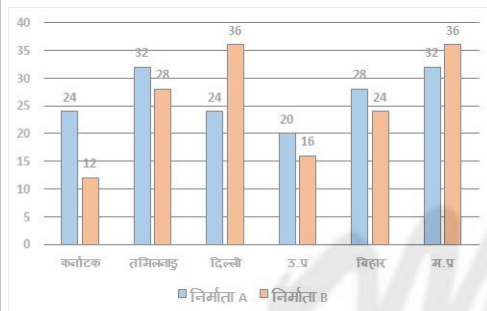


Project	Builder A	Builder B
House	25%	20%
Roads	30%	35%
Bridge	20%	25%
Metro	25%	20%

hi Passage

निम्नलिखित बार चार्ट और टेबल चार्ट का ध्यानपूर्वक अध्ययन करें और बगल में दिए गए प्रश्नों के उत्तर दें।

निम्नलिखित बार ग्राफ विभिन्न सरकारी परियोजनाओं जैसे घर निर्माण, सड़क विकास, पुल विकास और मेट्रो परियोजनाओं के लिए छह अलग-अलग राज्य सरकारों द्वारा 2 बिल्डरों को (लाख में) आवंटित राशि दिखाती है।



परियोजना	निर्माता A	निर्माता B
मकान	25%	20%
सड़कें	30%	35%
पुल	20%	25%
मेट्रो	25%	20%

Q-74 Builder B bought a car from the 25% of amount allocated to him for Metro development in the state MP. If the builder purchased that car at discount of 20% on the marked price, then find the marked price of the car.

eng

- 880000
- 950000
- 1000000
- 800000
- None of these

Q-74 निर्माता B ने राज्य एमपी में मेट्रो के विकास के लिए उन्हें आवंटित राशि का 25% से एक कार खरीदी। यदि निर्माता ने उस कार को चिह्नित मूल्य पर 20% की छूट पर खरीदा है, तो कार की चिह्नित कीमत का पता लगाएं।

hi

- 880000
- 950000
- 1000000
- 800000
- इनमें से कोई नहीं

Solution for Question 74

Ans Key: 5

eng

B	C	T	Ho	Ro	Br	Me
A	K	24	6	7.2	4.8	6
	Ta	32	8	9.6	6.4	8
	De	24	6	7.2	4.8	6
	U.P	20	5	6	4	5
	Bi	28	7	8.4	5.6	7
	M.P	32	8	9.6	6.4	8
	K	12	2.4	4.2	3	2.4
B	Ta	28	5.6	9.8	7	5.6
	De	36	7.2	12.6	9	7.2
	U.P	16	3.2	5.6	4	3.2
	Bi	24	4.8	8.4	6	4.8
	M.P	36	7.2	12.6	9	7.2
	K	12	2.4	4.2	3	2.4

$$720000 \times \frac{1}{4} \times \frac{5}{4} = 225000$$

hi

B	C	T	Ho	Ro	Br	Me
A	K	24	6	7.2	4.8	6
	Ta	32	8	9.6	6.4	8
	De	24	6	7.2	4.8	6
	U.P	20	5	6	4	5
	Bi	28	7	8.4	5.6	7
	M.P	32	8	9.6	6.4	8
B	K	12	2.4	4.2	3	2.4
	Ta	28	5.6	9.8	7	5.6
	De	36	7.2	12.6	9	7.2
	U.P	16	3.2	5.6	4	3.2
	Bi	24	4.8	8.4	6	4.8
	M.P	36	7.2	12.6	9	7.2

$720000 \times \frac{1}{4} \times \frac{5}{4} = 225000$

Q-75
eng

The question given below contain three statements giving certain data. You have to decide whether the data given in the statements are sufficient for answering the question ?

What is the monthly salary of Pravin?

- I. Pravin earns Rs. 1200 more than Amal.
II. The ratio between Amal and Vimal's monthly salary is 5 : 3.
III. Vimal earns Rs. 1000 less than Amal.

01. Any two
02. Only I and II
03. Only II and III
04. All I, II and III
05. None of these

Q-75
hi

नीचे दिए गए प्रश्न में तीन कथनों के माध्यम से कुछ जानकारियां दी गई हैं आपको यह निर्णय करना है कि क्या कथनों में दी गई जानकारी उत्तर देने के लिए पर्याप्त हैं।

प्रवीण की मासिक आय क्या है?

- I. प्रवीण अमल से 1200 रु. अधिक कमाता है।
II. अमल और विमल की मासिक आय के बीच अनुपात 5 : 3 है।
III. विमल अमल से 1000 रूपए कम कमाता है।

01. कोई दो
02. केवल I और II
03. केवल II और III
04. सभी I, II और III
05. इनमें से कोई नहीं

Solution for Question 75

Ans Key: 4

eng

From I and III
Praveen = Amal + 1200 ---(I)
Amal : Vimal = 5 : 3 ---(II)
Vimal = Amal - 1000 ----(III)
From eq. (I), (II) and (III)
Monthly income of Praveen
2500 + 1200 = Rs. 3700

hi

I और III से,
प्रवीण = अमल + 1200 ---(I)
अमल : विमल = 5 : 3 ---(II)
विमल = अमल - 1000 ----(III)
समीकरण (I), (II) और (III) से,
प्रवीण की मासिक आय
2500 + 1200 = रु. 3700

Passage for Question 53, 70, 76, 77, 78 (ST-50 SBI (136-140))

eng Passage

Read the following informations carefully and answer the questions given below.

In a ship, there are total 1680 passengers. Out of these, the ratio of males and females is 7:5 respectively. All passengers go to Britain, France and London. One-fifth males go to only France. Twenty percent females go to only London. Ten percent males go to only Britain. 24 percent females go to Britain and France both. The number of females going to only Britain is two hundred percent of the number of males going to the same country. One-fourteenth males go to all the three countries. The respective ratio of the number of males and females going to France and London both is 2:1. Ten percent females go to only France where as eight percent females go to France and London both. Remaining females go to all the three countries. The number of males going to Britain and France is 200 percent of the number of females going to the same countries. Remaining males go to only London.

hi Passage

निम्नलिखित जानकारियों का ध्यानपूर्वक अध्ययनकर नीचे पूछे गये प्रश्नों के उत्तर दीजिए।

एक शिप में कुल यात्रियों की संख्या 1680 है। जिसमें पुरुषों और महिलाओं की संख्या के बीच अनुपात क्रमशः 7 : 5 है। सभी यात्री ब्रिटेन, फ्रांस और लंदन जाते हैं। एक-पंचमांश पुरुष केवल फ्रांस जाते हैं। बीस प्रतिशत महिलायें केवल लंदन जाती हैं। दस प्रतिशत पुरुष केवल ब्रिटेन जाते हैं। 24 प्रतिशत महिलायें ब्रिटेन और फ्रांस दोनों जाती हैं। केवल ब्रिटेन जाने वाली महिलाओं की संख्या उसी देश में जाने वाले पुरुषों की संख्या का दो सौ प्रतिशत है। पुरुषों का 1/14 तीनों देशों में जाते हैं। फ्रांस और लंदन दोनों जाने वाले पुरुषों और महिलाओं की संख्या के बीच अनुपात 2 : 1 है। दस प्रतिशत महिलायें केवल फ्रांस जाती हैं जबकि आठ प्रतिशत महिलायें फ्रांस और लंदन दोनों जाती हैं। शेष महिलायें तीनों देशों में जाती हैं। ब्रिटेन और फ्रांस जाने वाले पुरुषों की संख्या उन्ही दोनों देशों में जाने वाली महिलाओं की संख्या का 200 प्रतिशत है। शेष पुरुष केवल लंदन जाते हैं।

Q-76

The number of females going to only France is what percent of the number of males going to the only same country? (up to two decimal places)

eng

01.

38.67%

02.

45.71%

03.

41.83%

04.

35.71%

05.

None of these

Q-76

केवल फ्रांस जाने वाली महिलाओं की संख्या केवल उसी देश में जाने वाले पुरुषों की संख्या का कितने प्रतिशत है?(दशमलव के बाद दो स्थानों तक)

hi

01.

38.67%

02.

45.71%

03.

41.83%

04.

35.71%

05.

इनमें से कोई नहीं

Solution for Question 76

Ans Key: 4

eng

	Male	Female
Total	980	700
Only France	196	70
Only London	420	140
Only Britain	98	196
Britain+France	84	168
France+London	112	56
All	70	70

Req. % = $\frac{70}{196} \times 100 = 35.71$ (Upto two decimal places)

hi

	पुरुष	महिला
कुल	980	700
केवल फ्रांस	196	70
केवल लंदन	420	140
केवल ब्रिटेन	98	196
ब्रिटेन+फ्रांस	84	168
फ्रांस+लंदन	112	56
सभी	70	70

अभीष्ट% = $\frac{70}{196} \times 100 = 35.71$ (दशमलव के दो स्थानों तक)

Q-77

What is the number of males going to France?

eng

01.

368

02.

456

03.

250

04.

362

05.

None of these

Q-77

फ्रांस जाने वाले पुरुषों की संख्या क्या है?

hi

01.

368

02.

456

03.

250

04.

362

05.

इनमें से कोई नहीं

Solution for Question 77

Ans Key: 5

eng

	Male	Female
Total	980	700
Only France	196	70
Only London	420	140
Only Britain	98	196
Britain+France	84	168
France+London	112	56
All	70	70

Total number = 462

hi

	पुरुष	महिला
कुल	980	700
केवल फ्रांस	196	70
केवल लंदन	420	140
केवल ब्रिटेन	98	196
ब्रिटेन+फ्रांस	84	168
फ्रांस+लंदन	112	56
सभी	70	70

कुल संख्या = 462

[illegible]

01. 60
02. 65
03. 70
04. 68
05. इनमें से कोई नहीं

Ans Key: 3

Number = 70

संख्या = 70

01. Only I and II **02.** Only I and III
03. Only I and either II or III **04.** Only II and III
05. Answer can't be given even using all the three statements

01. केवल I और II **02.** केवल I और III
03. केवल I और या तो II या III **04.** केवल II और III
05. तीनों कथनों को मिलाकर भी उत्तर नहीं दिया जा सकता

Solution for Question 82

eng	The Reserve Bank of India launched a twitter campaign urging bank customers to adopt digital modes of payment that are convenient and safe.
hi	भारतीय रिजर्व बैंक ने बैंक ग्राहकों को सुविधाजनक और सुरक्षित तरीके से भुगतान के डिजिटल तरीके अपनाने का आग्रह करते हुए एक ट्विटर अभियान शुरू किया।

Q-83 Which is not correctly matched-
eng

- | | |
|-------------------------------|--|
| 01. CRR - cash reserve ratio | 02. SLR - statutory liquidity ratio |
| 03. NPA - nonperforming asset | 04. NSDL - national security development Limited |
| 05. All are correct | |

Q-83 जिसका सही मिलान नहीं किया गया है-
hi

- | | |
|--|--|
| 01. सीआरआर - नकद आरक्षित अनुपात | 02. एसएलआर - वैधानिक तरलता अनुपात |
| 03. एनपीए - गैर-निष्पादित परिसंपत्तिका | 04. NSDL - राष्ट्रीय सुरक्षा विकास लिमिटेड |
| 05. सब सही हैं | |

Solution for Question 83

Ans Key: 4

eng	NSDL is National securities depository Limited.
hi	NSDL नेशनल सिक्क्योरिटीज डिपॉजिटरी लिमिटेड है।

Q-84 Which Country will host the Asian Boxing Championships for men and women in November December 2020?
eng

- | | |
|---------------|-----------|
| 01. Indonesia | 02. Japan |
| 03. India | 04. China |
| 05. Pakistan | |

Q-84 कौन सा देश नवंबर 2020 में पुरुषों और महिलाओं के लिए एशियाई मुक्केबाजी चैंपियनशिप की मेजबानी करेगा?
hi

- | | |
|----------------|-----------|
| 01. इंडोनेशिया | 02. जापान |
| 03. भारत | 04. चीन |
| 05. पाकिस्तान | |

Solution for Question 84

Ans Key: 3

eng	India will host the Asian Boxing Championships for men and women in November December 2020.
hi	भारत नवंबर 2020 में पुरुषों और महिलाओं के लिए एशियाई मुक्केबाजी चैंपियनशिप की मेजबानी करेगा।

Q-85 What is underwriting?
eng

- | | |
|---|---|
| 01. Process of issuing a share by unlisted company. | 02. A financial contract for the process of IPO |
| 03. Process of purchasing of share | 04. Process of selling of Share |
| 05. Process of listing in share market | |

Q-85 Underwriting क्या है?
hi

- | | |
|--|---|
| 01. असूचीबद्ध कंपनी द्वारा एक शेयर जारी करने की प्रक्रिया। | 02. आईपीओ की प्रक्रिया के लिए एक वित्तीय अनुबंध |
| 03. शेयर की खरीद की प्रक्रिया | 04. शेयर बेचने की प्रक्रिया |
| 05. शेयर बाजार में लिस्टिंग की प्रक्रिया | |

Q-86 What is the value of CCB in Basel-3 norms?
eng

- | | |
|-----------|-----------|
| 01. 2.50% | 02. 3.50% |
| 03. 4.20% | 04. 5.80% |
| 05. 2.00% | |

Q-86 बेसल -3 मानदंडों में CCB का मूल्य क्या है?

hi

01.

2.50%
02.

3.50%
03.

4.20%
04.

5.80%
05.

2.00%

Solution for Question 86

Ans Key: 1

eng CCB stands for capital conservation buffer.

hi CCB का पूर्ण रूप कैपिटल कंसर्वेशन बफर है।

Q-87 What is the rank of India in ‘Open Budget Survey 2019’, which is conducted by the International Budget Partnership?

eng

01.

49th
02.

53rd
03.

78th
04.

69th
05.

37th

Q-87 ‘ओपन बजट सर्वेक्षण’ 2019 में भारत का स्थान क्या है, जो अंतर्राष्ट्रीय बजट भागीदारी द्वारा संचालित किया जाता है?

hi

01.

49 वां
02.

53 वां
03.

78 वां
04.

69 वां
05.

37 वां

Solution for Question 87

Ans Key: 2

eng India has been ranked at 53rd position among 117 nations in terms of budget transparency and accountability with the score of 49 out of 100.

hi 100 में से 49 के स्कोर के साथ बजट पारदर्शिता और जवाबदेही के मामले में 117 देशों के बीच भारत को 53 वें स्थान पर रखा गया है।

Q-88 What is the name of the Ex-India football captain and first-class cricketer, who has passed away recently?

eng

01.

Bijay Miahra
02.

Ronny Roy
03.

Dewanand Kowar
04.

Basanta Das
05.

Chuni Goswami

Q-88 पूर्व-भारतीय फुटबॉल कप्तान और प्रथम श्रेणी के क्रिकेटर का क्या नाम है, जिनका हाल ही में निधन हो गया है?

hi

01.

बिजय मयरा
02.

रॉनी रॉय
03.

देवानंद कोवर
04.

बसंता दास
05.

चुन्नी गोस्वामी

Solution for Question 88

Ans Key: 5

eng Ex-India football captain and first-class cricketer Chuni Goswami passed away.

hi भारत के पूर्व फुटबॉल कप्तान और प्रथम श्रेणी क्रिकेटर चुन्नी गोस्वामी का निधन हो गया।

Q-89 What is the minimum amount of a treasury bill?

eng

01.

1 lakh
02.

50,000
03.

5,00,000
04.

10 lakhs
05.

25,000

Q-89 ट्रेजरी बिल की न्यूनतम राशि क्या है?

hi

01.

1 लाख
02.

50,000
03.

5,00,000
04.

10 लाख
05.

25,000

Solution for Question 89

Ans Key: 5

eng There are 3 Types of treasure bill 91 days, 182 days, and 364 days. The minimum amount of treasure bill is 25000.

hi ट्रेजरी बिल के 3 प्रकार हैं, 91 दिन, 182 दिन और 364 दिन। खजाना बिल की न्यूनतम राशि 25000 है।

Q-90 What is the India's GDP growth has been slashed by Fitch for FY21?

eng

01. 4.0%

02. 4.6%
03. 3.5%

04. 3.0%
05. 2.5%

Q-90 वित्त वर्ष 21 के लिए भारत की जीडीपी ग्रोथ फिच द्वारा घटा दी गई है?

hi

01. 4.0%

02. 4.6%
03. 3.5%

04. 3.0%
05. 2.5%

Solution for Question 90

Ans Key: 2

eng

Fitch Slashed India's GDP Growth Estimate for FY21 To 4.6% From 5.4 %.

hi

फिच ने भारत की जीडीपी ग्रोथ का अनुमान FY21 के लिए 5.4% से 4.6% तक घटाया।

Q-91 What is sweat share?

eng

01. Share issued to the general public

02. Share issued to the employee of the company
03. Share issued to the institutional buyer

04. Share issued by an unlisted company
05. Share issued by a listed company

Q-91 स्वेट शेयर क्या है?

hi

01. आम जनता को जारी किया गया हिस्सा

02. कंपनी के कर्मचारी को जारी किया गया हिस्सा
03. संस्थागत खरीदार को जारी किया गया हिस्सा

04. किसी असूचीबद्ध कंपनी द्वारा जारी किया गया शेयर
05. किसी सूचीबद्ध कंपनी द्वारा जारी किया गया शेयर

Solution for Question 91

Ans Key: 2

eng

When a company has issued shares to its employees, it is called sweat shares.

hi

जब एक कंपनी अपने कर्मचारियों को शेयर जारी कर दी है तो उसे स्वेट शेयर कहते हैं।

Q-92 What is CD in the money market?

eng

01. commercial development

02. compact disk
03. certificate of development

04. certificate of deposit
05. certificate of discount

Q-92 मुद्रा बाजार में सीडी क्या है?

hi

01. वाणिज्यिक विकास

02. कॉम्पैक्ट डिस्क
03. विकास का प्रमाण पत्र

04. जमा प्रमाणपत्र
05. छूट का प्रमाण पत्र

Solution for Question 92

Ans Key: 4

eng

certificate of deposit started in 1989, it can be issued by a bank or financial institution.

hi

1989 में शुरू किए गए जमा का प्रमाण पत्र, इसे बैंक या वित्तीय संस्थान द्वारा जारी किया जा सकता है।

Q-93 What do you understand by the IPO ?

eng

01. issuing of share by a listed company

02. issuing of share by unlisted company
03. issuing of share to employee

04. issuing of share for public
05. issuing of share for institutional buyer

Q-93 आईपीओ से आप क्या समझते हैं?

hi

01. एक सूचीबद्ध कंपनी द्वारा शेयर जारी करना

02. अनलिस्टेड कंपनी द्वारा शेयर जारी करना
03. कर्मचारी को शेयर जारी करना

04. जनता के लिए शेयर जारी करना

05. संस्थागत खरीदार के लिए शेयर जारी करना

Solution for Question 93

Ans Key: 1

eng when an unlisted company issuing share to the public the process is called Initial public offering.

hi जब एक असूचीबद्ध कंपनी जनता को हिस्सेदारी जारी करती है, तो प्रक्रिया को प्रारंभिक सार्वजनिक अपराध कहा जाता है।

Q-94 What do you understand by Stale cheque?

eng

01. Cheque presented on the bank counter after 3 months

02. A previous dated cheque

03. Cheque holds a dated which yet to come

04. A Bearer cheque

05. none of these

Q-94 स्टेल चेक से आप क्या समझते हैं?

hi

01. 3 महीने के बाद बैंक काउंटर पर प्रस्तुत किया गया चेक

02. पिछला दिनांकित चेक

03. चेक एक दिनांक रखता है जो अभी तक आना है

04. एक बियरर चेक

05. इनमें से कोई नहीं

Solution for Question 94

Ans Key: 1

eng A expired cheque is called stale cheque.

hi एक्सपायर्ड चेक को स्टेल चेक कहा जाता है।

Q-95 Vineet Arora was appointed as new managing director and chief executive officer of which of the Insurance Company recently?

eng

01. PNB MetLife India Insurance

02. Paytm General Insurance

03. ICICI Prudential Life Insurance

04. HDFC Standard Life Insurance

05. Reliance Nippon Life Insurance

Q-95 विनीत अरोड़ा को हाल ही में बीमा कंपनी के नए प्रबंध निदेशक और मुख्य कार्यकारी अधिकारी के रूप में नियुक्त किया गया?

hi

01. पीएनबी मेटलाइफ इंडिया इश्योरेंस

02. पेटीएम जनरल इश्योरेंस

03. आईसीआईसीआई प्रूडेंशियल लाइफ इश्योरेंस

04. एचडीएफसी स्टैंडर्ड लाइफ इश्योरेंस

05. रिलायंस निप्पॉन लाइफ इश्योरेंस

Solution for Question 95

Ans Key: 2

eng Paytm has appointed Vineet Arora as new managing director and chief executive officer of Paytm General Insurance Ltd.

hi पेटीएम ने विनीत अरोड़ा को पेटीएम जनरल इश्योरेंस लिमिटेड का नया प्रबंध निदेशक और मुख्य कार्यकारी अधिकारी नियुक्त किया है।

Q-96 Recently YES Bank has announced the extension of its strategic bancassurance relationship with which Insurance company?

eng

01. Oriental Life Insurance

02. Kotak Mahindra Insurance

03. SBI Life Insurance

04. Max Life Insurance

05. Aegon Life Insurance

Q-96 हाल ही में यस बैंक ने किस बीमा कंपनी के साथ अपने रणनीतिक संबंध के विस्तार की घोषणा की है?

hi

01. ओरिएंटल लाइफ इश्योरेंस

02. कोटक महिंद्रा इश्योरेंस

03. एसबीआई लाइफ इश्योरेंस

04. मैक्स लाइफ इश्योरेंस

05. एगॉन लाइफ इश्योरेंस

Solution for Question 96

Ans Key: 4

eng YES Bank has announced the extension of its strategic bancassurance relationship with the Max Life Insurance.

hi यस बैंक ने मैक्स लाइफ इश्योरेंस के साथ अपने रणनीतिक संबंध के विस्तार की घोषणा की है।

Q-97 Recently who has been selected as a member of the Naismith Memorial Basketball Hall of Fame?

eng

01. Lee Williams
02. John Ruskin
03. Lenny Wilkens
04. Tom Heinsohn
05. Kobe Bryant

Q-97 हाल ही में किसे नाइस्मिथ मेमोरियल बास्केटबॉल हॉल ऑफ फ़ेम के सदस्य के रूप में चुना गया है?

hi

01. ली विलियम्स
02. जॉन रस्किन
03. लेनी विल्केन्स
04. टॉम हेनोशन
05. कोबे ब्रायंट

Solution for Question 97

Ans Key: 5

eng The late Kobe Bryant has been selected as a member of the Naismith Memorial Basketball Hall of Fame.

hi स्वर्गीय कोबे ब्रायंट को नाइस्मिथ मेमोरियल बास्केटबॉल हॉल ऑफ फ़ेम के सदस्य के रूप में चुना गया है।

Q-98 Recently who has been named as an advisor to Google Pay India?

eng

01. Arundhati Bhattacharya
02. Gita Mitta
03. Shikha Sharma
04. Rekha Sharma
05. Chanda Kochar

Q-98 हाल ही में गूगल पे इंडिया के सलाहकार के रूप में किसे नामित किया गया है?

hi

01. अरुंधति भट्टाचार्य
02. गीता मित्त
03. शिखा शर्मा
04. रेखा सहमा
05. चंदा कोचर

Solution for Question 98

Ans Key: 3

eng Former Axis Bank CEO, Shikha Sharma has been named advisor to Google Pay India.

hi एक्सिस बैंक की पूर्व सीईओ शिखा शर्मा को गूगल पे इंडिया का सलाहकार बनाया गया है।

Q-99 Recently who has been conferred with 'Hero to Animals Award' by animal rights body PETA India?

eng

01. Praveen Jadhav
02. Naveen Patnaik
03. Manohar Lal Khattar
04. Ashwani Goswami
05. Trivendra Singh Rawat

Q-99 हाल ही में पशु अधिकार संस्था पेटा इंडिया द्वारा 'हीरो टू एनिमल्स अवार्ड' से किसे सम्मानित किया गया है?

hi

01. प्रवीण जाधव
02. नवीन पटनायक
03. मनोहर लाल खट्टर
04. अश्वनी गोस्वामी
05. त्रिवेन्द्र सिंह रावत

Solution for Question 99

Ans Key: 2

eng Chief Minister of Odisha, Naveen Patnaik has been conferred with 'Hero to Animals Award' by animal rights body PETA India.

hi ओडिशा के मुख्यमंत्री नवीन पटनायक को पशु अधिकार संस्था पेटा इंडिया द्वारा हीरो टू एनिमल्स अवार्ड से सम्मानित किया गया है।

Q-100 Recently who has been appointed as the brand ambassador of Mobile Premier League?

eng

01. Tamannaah Bhatia
02. Virat Kohli
03. Kiara Advani
04. Sonam Kapoor
05. Kartik Aryan

Q-100 हाल ही में मोबाइल प्रीमियर लीग के ब्रांड एंबेसडर के रूप में किसे नियुक्त किया गया है?

hi

01. तमन्नाह भाटिया
02. विराट कोहली
03. किआरा अडवाणी
04. सोनम कपूर
05. कार्तिक आर्यन

Solution for Question 100

Ans Key: 1

eng	Indian Actress Tamannaah Bhatia signed as brand ambassador for Mobile Premier League.
hi	भारतीय अभिनेत्री तमन्नाह भाटिया ने मोबाइल प्रीमियर लीग के लिए ब्रांड एंबेसडर के रूप में हस्ताक्षर किए।

Q-101 eng	Recently who has been appointed as India's Permanent Representative to the United Nations?
	<div>01. Abhay Mahajan</div> <div>02. Ravi Shankar Sharma</div> <div>03. Anupam Srivastava</div> <div>04. T.S. Tirumurti</div> <div>05. Ramesh Goyal</div>

Q-101 hi	हाल ही में किसे संयुक्त राष्ट्र में भारत के स्थायी प्रतिनिधि के रूप में नियुक्त किया गया है?
	<div>01. अभय महाजन</div> <div>02. रविशंकर शर्मा</div> <div>03. अनुपम श्रीवास्तव</div> <div>04. टी.एस. तिरुमूर्ति</div> <div>05. रमेश गोयल</div>

Solution for Question 101		Ans Key: 4
eng	T.S. Tirumurti has been appointed as India's Permanent Representative to the United Nations.	
hi	टी.एस. तिरुमूर्ति को संयुक्त राष्ट्र में भारत के स्थायी प्रतिनिधि के रूप में नियुक्त किया गया है।	

Q-102 eng	Recently who has become the new Managing Director of the Sundaram Home Finance?
	<div>01. Lakshminarayanan Duraiswamy</div> <div>02. Govind Shankar Sharma</div> <div>03. Vijay Prakash Reddy</div> <div>04. Satya Prakash Arora</div> <div>05. Ravindra Singhanian</div>
Q-102 hi	हाल ही में सुंदरम होम फाइनेंस के नए प्रबंध निदेशक कौन बने हैं?
	<div>01. लक्ष्मीनारायण दुरीस्वामी</div> <div>02. गोविंद शंकर शर्मा</div> <div>03. विजय प्रकाश रेड्डी</div> <div>04. सत्य प्रकाश अरोड़ा</div> <div>05. रवींद्र सिंघानिया</div>

Solution for Question 102		Ans Key: 1
eng	Lakshminarayanan Duraiswamy has become the new Managing Director of the Sundaram Home Finance.	
hi	लक्ष्मीनारायण दुरीस्वामी सुंदरम होम फाइनेंस के नए प्रबंध निदेशक बन गए हैं।	

Q-103 eng	Recently which State/UT Government has announced 5T plan to tackle the spread of Corona Virus in the Union Territory, which includes Testing, Tracing, Teamwork, Treatment and Tracking?
	<div>01. Jammu & Kashmir</div> <div>02. Delhi</div> <div>03. Punjab</div> <div>04. Goa</div> <div>05. Chandigarh</div>
Q-103 hi	हाल ही में किस राज्य / केंद्रशासित प्रदेश सरकार ने केंद्र शासित प्रदेश में कोरोना वायरस के प्रसार से निपटने के लिए 5T योजना की घोषणा की है, जिसमें परीक्षण, अनुरेखण, टीमवर्क, उपचार और ट्रैकिंग शामिल हैं?
	<div>01. जम्मू और कश्मीर</div> <div>02. दिल्ली</div> <div>03. पंजाब</div> <div>04. गोवा</div> <div>05. चंडीगढ़</div>

Solution for Question 103		Ans Key: 2
eng	Government of Delhi announced 5T plan to tackle the spread of Corona Virus in the Union Territory. The 5T plan includes Testing, Tracing, Teamwork, Treatment and Tracking.	
hi	दिल्ली सरकार ने केंद्र शासित प्रदेश में कोरोना वायरस के प्रसार से निपटने के लिए 5T योजना की घोषणा की। 5T योजना में परीक्षण, अनुरेखण, टीमवर्क, उपचार और ट्रैकिंग शामिल हैं।	

Q-104 eng	Recently which state has become the first state to integrate Allopathy and Ayurveda to treat COVID-19 patients?
--------------	---

01. Goa

02. Uttarakhand

03. Uttar Pradesh

04. Kerala

05. Assam

Q-104 हाल ही में कौन सा राज्य COVID-19 रोगियों के इलाज के लिए एलोपैथी और आयुर्वेद को एकीकृत करने वाला पहला राज्य बन गया है?

hi

01. गोवा

02. उत्तराखंड

03. उत्तर प्रदेश

04. केरल

05. असम

Solution for Question 104

Ans Key: 1

eng

Goa becomes the first state to integrate Allopathy and Ayurveda to treat COVID-19 patients.

hi

गोवा COVID-19 रोगियों के इलाज के लिए एलोपैथी और आयुर्वेद को एकीकृत करने वाला पहला राज्य बन गया।

Q-105 Recently which state government has set up a 24x7 toll free helpline for farmers during the upcoming Rabi procurement season?

eng

01. Uttar Pradesh

02. Madhya Pradesh

03. Kerala

04. Assam

05. Haryana

Q-105 हाल ही में किस राज्य सरकार ने आगामी रबी खरीद सीजन के दौरान किसानों के लिए 24x7 टोल फ्री हेल्पलाइन स्थापित की है?

hi

01. उत्तर प्रदेश

02. मध्य प्रदेश

03. केरल

04. असम

05. हरियाणा

Solution for Question 105

Ans Key: 5

eng

The Haryana government has set up a 24x7 toll free helpline for farmers during the upcoming Rabi procurement season.

hi

हरियाणा सरकार ने जल्द शुरू होने जा रहे रबी मौसम खरीद सत्र के दौरान किसानों की मदद के लिए चौबीसों घंटे चलने वाली 'टोल फ्री हेल्पलाइन' शुरू की है।

Q-106 Recently which private sector bank launched a two-month campaign, 'Kona Kona Umeed'?

eng

01. Laxmi Vilas Bank

02. Karur Vyas Bank

03. Kotak Mahindra Bank

04. ICICI Bank

05. IndusInd Bank

Q-106 हाल ही में किस निजी क्षेत्र के बैंक ने दो महीने का अभियान 'कोना कोना उम्मिद' शुरू किया है?

hi

01. लक्ष्मी विलास बैंक

02. करूर व्यास बैंक

03. कोटक महिंद्रा बैंक

04. आईसीआईसीआई बैंक

05. इंडसइंड बैंक

Solution for Question 106

Ans Key: 3

eng

Kotak Mahindra Bank launched a two-month campaign, 'Kona Kona Umeed' with offers, discounts.

hi

कोटक महिंद्रा बैंक ने दो महीने का अभियान, 'कोना कोना उम्मिद' ऑफर डिस्काउंट के साथ लॉन्च किया।

Q-107 Recently which of the Railway Station has become the first station of Indian Railway to install sanitizing tunnel?

eng

01. Gorakhpur

02. Nasik

03. Vishakhapatnam

04. Ahmedabad

05. Dehradun

Q-107 हाल ही में कौन सा रेलवे स्टेशन सैनिटाइजिंग टनल स्थापित करने वाला भारतीय रेलवे का पहला स्टेशन बन गया है?

hi

01. गोरखपुर

02. नासिक

03. विशाखापट्टनम

04. अहमदाबाद

05. देहरादून

Solution for Question 107

Ans Key: 4

eng	Ahmedabad Railway Station has become the first station of Indian Railway to install sanitizing tunnel.
hi	अहमदाबाद रेलवे स्टेशन सैनटाइजिंग सुरंग स्थापित करने वाला भारतीय रेलवे का पहला स्टेशन बन गया है।

Q-108 Recently which of the country has declared State of Emergency?
eng

- | | |
|-----------|-------------|
| 01. USA | 02. Italy |
| 03. Japan | 04. Germany |
| 05. Spain | |

Q-108 हाल ही में किस देश ने आपातकाल की घोषणा की है?
hi

- | | |
|---------------------------|------------|
| 01. संयुक्त राज्य अमेरिका | 02. इटली |
| 03. जापान | 04. जर्मनी |
| 05. स्पेन | |

Solution for Question 108 Ans Key: 3

eng PM Shinjo Abe has declared State of Emergency in Japan.

hi पीएम शिंजो आबे ने जापान में आपातकाल की घोषणा की है।

Q-109 Recently the Independent Member Federation Sanctions Panel of the International Weightlifting Federation has banned which of the countries weightlifters from competing in Tokyo Olympics 2020?
eng

- | | |
|--------------------------|-------------------------|
| 01. Malaysia & Singapore | 02. Canada & Thailand |
| 03. Maldives & Thailand | 04. Malaysia & Thailand |
| 05. Singapore & Thailand | |

Q-109 हाल ही में इंटरनेशनल वेटलिफ्टिंग फेडरेशन के इंडिपेंडेंट मेंबर फेडरेशन सैंक्शंस पैनल ने किन देशों के वेटलिफ्टरों को टोक्यो ओलंपिक 2020 में प्रतिस्पर्धा करने से प्रतिबंधित कर दिया है?
hi

- | | |
|-------------------------|------------------------|
| 01. मलेशिया और सिंगापुर | 02. कनाडा और थाईलैंड |
| 03. मालदीव और थाईलैंड | 04. मलेशिया और थाईलैंड |
| 05. सिंगापुर और थाईलैंड | |

Solution for Question 109 Ans Key: 4

eng The Independent Member Federation Sanctions Panel of the International Weightlifting Federation has banned the Malaysia & Thailand weightlifters from competing in Tokyo Olympics 2020.

hi अंतर्राष्ट्रीय भारोत्तोलन महासंघ के स्वतंत्र सदस्य महासंघ के प्रतिबंधों ने टोक्यो ओलंपिक 2020 में मलेशिया और थाईलैंड के भारोत्तोलकों को प्रतिस्पर्धा करने से प्रतिबंधित कर दिया है।

Q-110 Recently People's Bank of China has raised its stake in which bank from 0.8% to 1.01%?
eng

- | | |
|-------------------------|----------------|
| 01. HDFC Bank | 02. Axis Bank |
| 03. State Bank of India | 04. ICICI Bank |
| 05. HSBC Bank | |

Q-110 हाल ही में पीपुल्स बैंक ऑफ चाइना ने किस बैंक में अपनी हिस्सेदारी 0.8% से बढ़ाकर 1.01% की है?
hi

- | | |
|-----------------------|---------------------|
| 01. एचडीएफसी बैंक | 02. एक्सिस बैंक |
| 03. भारतीय स्टेट बैंक | 04. आईसीआईसीआई बैंक |
| 05. एचएसबीसी बैंक | |

Solution for Question 110 Ans Key: 1

eng People's Bank of China has raised its stake in HDFC from 0.8% to 1.01%.

hi पीपुल्स बैंक ऑफ चाइना ने एचडीएफसी में अपनी हिस्सेदारी 0.8% से बढ़ाकर 1.01% कर दी है।

Q-111 eng	Recently how much amount was sanctioned by Central Government for the 'India COVID-19 Emergency Response and Health System Preparedness Package'?
	<div>01. 10,000 crore</div> <div>02. 12,000 crore</div> <div>03. 15,000 crore</div> <div>04. 20,000 crore</div> <div>05. 8,000 crore</div>
Q-111 hi	हाल ही में केंद्र सरकार द्वारा भारत COVID-19 इमरजेंसी रिस्पांस और हेल्थ सिस्टम रेडीनेस पैकेज के लिए कितनी राशि मंजूर की गई थी?
	<div>01. ₹10,000 करोड़</div> <div>02. ₹12,000 करोड़</div> <div>03. ₹15,000 करोड़</div> <div>04. ₹20,000 करोड़</div> <div>05. ₹8,000 करोड़</div>
Solution for Question 111 Ans Key: 3	
eng	Centre has sanctioned 15,000 crore for the 'India COVID-19 Emergency Response and Health System Preparedness Package'.
hi	केंद्र ने 'भारत कोविड-19 आपातकालीन प्रतिक्रिया और स्वास्थ्य प्रणाली की तैयारी पैकेज' के लिए 15,000 करोड़ मंजूर किए हैं।

Q-112 eng	Recently Centre has approved 175 crore rupees for implementation of Jal jeevan mission for which state during 2020-21?
	<div>01. Meghalaya</div> <div>02. Tripura</div> <div>03. Odisha</div> <div>04. Arunachal Pradesh</div> <div>05. Assam</div>
Q-112 hi	हाल ही में केंद्र ने 2020-21 के दौरान किस राज्य के लिए जल जीवन मिशन के कार्यान्वयन के लिए 175 करोड़ रुपये मंजूर किए हैं?
	<div>01. मेघालय</div> <div>02. त्रिपुरा</div> <div>03. ओडिशा</div> <div>04. अरुणाचल प्रदेश</div> <div>05. असम</div>

Solution for Question 112 Ans Key: 1	
eng	Centre has approved 175 crore rupees for implementation of Jal jeevan mission in Meghalaya during 2020-21.
hi	केंद्र ने 2020-21 के दौरान मेघालय में जल जीवन मिशन के कार्यान्वयन के लिए 175 करोड़ रुपये की मंजूरी दी है।

Q-113 eng	Recently Black rice of which state has bagged the Geographical Indication tag?
	<div>01. West Bengal</div> <div>02. Punjab</div> <div>03. Uttar Pradesh</div> <div>04. Manipur</div> <div>05. Tripura</div>
Q-113 hi	हाल ही में किस राज्य के काले चावल ने भौगोलिक संकेत टैग प्राप्त किया है?
	<div>01. पश्चिम बंगाल</div> <div>02. पंजाब</div> <div>03. उत्तर प्रदेश</div> <div>04. मणिपुर</div> <div>05. त्रिपुरा</div>

Solution for Question 113 Ans Key: 4	
eng	Black rice of Manipur, also called the Chak-Hao has bagged the Geographical Indication tag.
hi	मणिपुर के काले चावल, जिसे चक-हाओ भी कहा जाता है, भौगोलिक संकेत टैग प्राप्त किया है।

Q-114 eng	Recently Asian Development Bank has increased the size of its COVID-19 Response Package to \$20 Billion, what was the initial package?
	<div>01. \$6.5 billion</div> <div>02. \$5.0 billion</div> <div>03. \$10 billion</div> <div>04. \$8.0 billion</div> <div>05. \$4.5 billion</div>
Q-114 hi	हाल ही में एशियाई विकास बैंक ने अपने COVID-19 रिस्पॉन्स पैकेज का आकार बढ़ाकर \$ 20 बिलियन कर दिया है, शुरुआती पैकेज क्या था?
	<div>01. \$6.5 बिलियन</div> <div>02. \$5.0 बिलियन</div>

03. \$10 बिलियन
04. \$8.0 बिलियन
05. \$4.5 बिलियन

Solution for Question 114

Ans Key: 1

eng The Asian Development Bank (ADB) has increased the size of its COVID-19 Response Package to \$20 Billion.

hi एशियाई विकास बैंक (ADB) ने अपने COVID-19 रिसॉन्स पैकेज का आकार बढ़ाकर \$ 20 बिलियन कर दिया है।

Q-115 National Maritime Day in India is observed on 5 April every year, which edition of the National Maritime Day was celebrated on 5 April 2020?

eng

01. 52th
02. 67th
03. 65th
04. 57th
05. 75th

Q-115 भारत में राष्ट्रीय समुद्री दिवस हर साल 5 अप्रैल को मनाया जाता है, 5 अप्रैल 2020 को राष्ट्रीय समुद्री दिवस का कौन सा संस्करण मनाया गया?

hi

01. 52 वां
02. 67 वां
03. 65 वां
04. 57 वां
05. 75 वां

Solution for Question 115

Ans Key: 4

eng National Maritime Day in India is observed on 5 April every year. This year is 57th edition of the National Maritime Day.

hi भारत में राष्ट्रीय समुद्री दिवस हर साल 5 अप्रैल को मनाया जाता है। यह वर्ष राष्ट्रीय समुद्री दिवस का 57 वां संस्करण है।

Q-116 Former Union Minister of State for Planning M.V. Rajashekarani has passed away recently, he was related to which Political Party?

eng

01. Bharatiya Janata Party
02. Bahujan Samaj Party
03. National People's Party
04. Indian National Congress
05. Nationalist Congress Party

Q-116 पूर्व केंद्रीय योजना राज्य मंत्री एम.वी. राजशेखरन का हाल ही में निधन हो गया है, वह किस राजनीतिक दल से संबंधित थे?

hi

01. भारतीय जनता पार्टी
02. बहुजन समाज पार्टी
03. नेशनल पीपुल्स पार्टी
04. भारतीय राष्ट्रीय कांग्रेस
05. राष्ट्रवादी कांग्रेस पार्टी

Solution for Question 116

Ans Key: 4

eng Former Union Minister of State for Planning & Congress leader M.V. Rajashekarani passed away.

hi पूर्व केंद्रीय योजना राज्य मंत्री और कांग्रेस नेता एम.वी. राजशेखरन का निधन हो गया है।

Q-117 Former Test spinner Stephen O'Keefe has retired from first class cricket after being omitted from New South Wales' list, he is related to which country?

eng

01. Australia
02. England
03. New Zealand
04. South Africa
05. Afghanistan

Q-117 पूर्व टेस्ट स्पिनेर स्टीफन ओ'कीफ ने न्यू साउथ वेल्स की सूची से बाहर होने के बाद प्रथम श्रेणी क्रिकेट से संन्यास ले लिया है, वह किस देश से संबंधित हैं?

hi

01. ऑस्ट्रेलिया
02. इंग्लैंड
03. न्यूजीलैंड
04. दक्षिण अफ्रीका
05. अफगानिस्तान

Solution for Question 117

Ans Key: 1

eng Former Australia Test spinner Stephen O'Keefe has retired from first class cricket after being omitted from New South Wales' list of contracted players for the next domestic season.

hi आस्ट्रेलिया के पूर्व टेस्ट स्पिनेर स्टीफन ओकीफी ने अगले घरेलू सत्र के लिये न्यू साउथ वेल्स की अनुबंधित खिलाड़ियों की सूची से हटाये जाने के बाद प्रथम श्रेणी क्रिकेट से संन्यास ले लिया।

Q-118 Former India hockey player Balbir Singh Kullar passed away, he was related to which state?

eng

01. Haryana

02. Punjab

03. Rajasthan

04. Maharashtra

05. Madhya Pradesh

Q-118 भारत के पूर्व हॉकी खिलाड़ी बलबीर सिंह कुल्लर का निधन, वह किस राज्य से संबंधित थे?

hi

01. हरियाणा

02. पंजाब

03. राजस्थान

04. महाराष्ट्र

05. मध्य प्रदेश

Solution for Question 118

Ans Key: 2

eng

Former India hockey player Balbir Singh Kullar passed away. He was a part of the 1968 Olympics bronze-winning team.

hi

भारत के पूर्व हॉकी खिलाड़ी बलबीर सिंह कुल्लर का निधन। वह 1968 के ओलंपिक कांस्य जीतने वाली टीम का हिस्सा थे।

Q-119 Cheque are mention under negotiable instrument act 1881 under which section?

eng

01. sec4

02. sec5

03. sec6

04. sec7

05. None of these

Q-119 चेक का उल्लेख नेगोशिएबल इंस्ट्रुमेंट्स अधिनियम 1881 के तहत किस अनुभाग के तहत किया गया है?

hi

01. sec4

02. sec5

03. sec6

04. sec7

05. इनमें से कोई नहीं

Solution for Question 119

Ans Key: 2

eng

cheque mentioned under negotiable instrument act 1881 sec 6.

hi

चेक का वर्णन नेगोशिएबल इंस्ट्रुमेंट अधिनियम 1888 के सेक्शन 6 से में किया गया है।

Q-120 Appointments Committee of the Cabinet has approved the extension of tenure of all members and the current part-time chairman of the Bank Board Bureau for how many years?

eng

01. 3 years

02. 4 years

03. 2 years

04. 6 years

05. 5 years

Q-120 मंत्रिमंडल की नियुक्ति समिति ने सभी सदस्यों के कार्यकाल के विस्तार और बैंक बोर्ड ब्यूरो के वर्तमान अंशकालिक अध्यक्ष को कितने वर्षों के लिए मंजूरी दे दी है?

hi

01. 3 वर्ष

02. 4 वर्ष

03. 2 वर्ष

04. 6 वर्ष

05. 5 वर्ष

Solution for Question 120

Ans Key: 3

eng

The Appointments Committee of the Cabinet has approved the extension of tenure of all members and the current part-time chairman of the Bank Board Bureau by 2 years,

hi

कैबिनेट की नियुक्ति समिति ने सभी सदस्यों के कार्यकाल के विस्तार और बैंक बोर्ड ब्यूरो के वर्तमान अंशकालिक अध्यक्ष को 2 साल के लिए मंजूरी दे दी है।

Passage for Question 121, 122, 123, 124, 125 (ST-2048RRBBCLMAINS(1-5E)2020)

eng Passage

In the following passage there are blanks each of which has been numbered. These numbers are given below the passage and against each five words have been suggested, one of which fits the blanks appropriately. Find out the appropriate word in each case.

The fact that Saudi Arabia, Egypt, Bahrain and the United Arab Emirates have handed over a list of demands to the Qatari regime should, on the face of it, indicate some progress in the impasse created after they cut ties with Qatar. The list has not been officially released, but is reported to include demands that Qatar snap all but trade ____ (A) with Iran, end military cooperation with Turkey and shut down the Al Jazeera news network. It may be that many of the demands are only meant to be bargaining counters — even U.S. Secretary of State Rex Tillerson, who has been running the backroom negotiation along with the Emir of Kuwait, said they are “very difficult for Qatar to meet”. In any case, such demands on the list may be more understandable if these countries ____ (B) with them as well. For example, in asking Qatar to disown ties with al-Qaeda and the Islamic State, Saudi Arabia, Bahrain and the UAE cannot ignore their own role in building up Sunni

extremist groups across West Asia, sometimes in partnership with Qatar. The UAE has a ____ (C) business relationship with Iran. And while the Saudi-led bloc may object to “negative narratives” and the platform given to their dissidents on Al Jazeera and the other news outlets named, it is unlikely that they will ____ (D) too much on the internationally recognised news networks to close shop. The bulk of the demands, however, focusses on asking Qatar to enforce its own commitments from the 2014 Riyadh declaration of the Gulf Cooperation Council on ceasing support to extremist and terrorist groups. This indicates that a path is being cleared for a resolution to the current crisis. The next few days will be crucial in ensuring the ____ (E).

hi Passage

नीचे दिए गए प्रत्येक परिच्छेद में कुछ रिक्त स्थान छोड़ दिए गए हैं तथा उन्हें प्रश्न संख्या से दर्शाया गया है। ये संख्याएँ परिच्छेद के नीचे मुद्रित हैं, और प्रत्येक के सामने (A), (B), (C), (D) और (E) विकल्प दिए गए हैं। इन पाँचों में से कोई एक इस रिक्त स्थान को पूरे परिच्छेद के संदर्भ में उपयुक्त ढंग से पूरा कर देता है। आपको उस विकल्प का चयन करना है और उसका क्रमांक ही उत्तर के रूप में दर्शाना है। आपको दिए गए विकल्पों में से सबसे उपयुक्त का चयन करना है।

बौद्ध धर्म के अनुसार, मनुष्य मस्तिष्क, शरीर, इच्छा, चाहत, उद्देश्य, आशय, रुचि, भाव व तर्क का ____ (A) है। बिना किसी बाह्य हस्तक्षेप के उसे अपने नैतिक और आध्यात्मिक परिवर्तन के लिए प्रयास करना है। बुद्ध अपने धम्म के सिद्धांतों के तार्किक परीक्षण के ____ (B) हैं और वे अपने शिष्यों से बिना किसी विशेष आदर या अनुराग के उनके अपने विचारों को भी तर्क की ____ (C) पर परखने के लिए कहते हैं। बुद्ध के लिए जीवन की ____ (D) चिंताएं महत्वपूर्ण हैं। इस बात को उनके तीर वाले ____ (E) से समझा जा सकता है। अगर तीर से घायल किसी व्यक्ति के लिए प्राथमिकता यह होनी चाहिए कि यह तीर उसके शरीर से बाहर निकले और उससे हुए घाव की तुरंत चिकित्सा हो। यदि वह व्यक्ति तीर के आकार-प्रकार, किसने तीर चलाया, उसकी जाति क्या थी, कहां से आया आदि जैसे व्यर्थ के प्रश्नों में उलझ जायेगा तो यह उसके लिए निःसंदेह घातक होगा। बुद्ध के लिए धार्मिक-दार्शनिक पहचान महत्वपूर्ण नहीं है, बल्कि नैतिक और आध्यात्मिक जीवन का निरंतर प्रयास आवश्यक है। इस प्रयास में मार्गदर्शन के लिए सूत्र बुद्ध ने दिये जो विवरण और विश्लेषण के साथ बौद्ध धर्म के शास्त्रों में ____ (F) हैं। बुद्ध के संदेशों और संकेतों में कई ऐसे सूत्र हैं, जिनसे हमें सीख लेने की जरूरत है। विश्व और पूरी मनुष्यता के सामने उपस्थित संकटों को तीर के उद्धरण वाले प्रसंग के ____ (G) में रखते हुए उन्हें श्रेणीबद्ध कर प्राथमिकताएं तय की जानी चाहिए। उदाहरण के लिए युद्ध की समस्या और उससे जनित ____ (H) को लें। युद्ध, हिंसक संघर्ष, परस्पर अविश्वास आदि समस्याएं मानवता की चिर समस्याएं हैं और इनसे ही बहुत सारी अन्य परेशानियां जन्म लेती हैं। बुद्ध के लिए हिंसा ____ (I) है। वे युद्ध और शांति का उद्गम केंद्र मनुष्य के मस्तिष्क को मानते हैं। इसीलिए वे चित्त की शांति और हृदय में करुणा की बात करते हैं। समानता, न्याय, स्वतंत्रता और मानवाधिकार आज के लोकतांत्रिक विश्व के प्रमुख मूल्य हैं। वैसे तो ये तत्व सामाजिक और राजनीतिक दर्शन के अंतर्गत आते हैं, लेकिन इनपर धार्मिक विचार भी बहुत पहले से व्यक्त किये जाते रहे हैं। प्राचीन भारत में ये अलग से विचारणीय विषय न होकर, एक समग्र ____ (J) के ही अंग थे।

Q-121 Choose the correct option (A)
eng

- | | |
|---------------|-----------|
| 01. fries | 02. ties |
| 03. bond | 04. share |
| 05. hoardings | |

Q-121 (A) के लिए सही विकल्प चुनें
hi

- | | |
|-----------------------|-------------|
| 01. वियोग | 02. समुच्चय |
| 03. संसर्ग | 04. संशोधन |
| 05. इनमें से कोई नहीं | |

Solution for Question 121		Ans Key: 2
eng	Tie (n)- a thing that unites or links people.	
hi	यहाँ 'समुच्चय' शब्द का प्रयोग उचित है। 'समुच्चय' का अर्थ है- वस्तुओं आदि का एक जगह एकत्र होना।	

Q-122 Choose the correct option (B)
eng

- | | |
|---------------|--------------|
| 01. rectifies | 02. complied |
| 03. implied | 04. vile |
| 05. bathetic | |

Q-122 (B) के लिए सही विकल्प चुनें
hi

- | | |
|-----------------------|-------------|
| 01. विरोधी | 02. आग्रही |
| 03. विचारक | 04. व्यक्ति |
| 05. इनमें से कोई नहीं | |

Solution for Question 122		Ans Key: 2
eng	Comply (v)- act in accordance with a wish or command. For other options- Vile (adj.)- extremely unpleasant. Bathetic (adj.)- producing an unintentional effect of anticlimax.	
hi	यहाँ 'आग्रही' शब्द का प्रयोग उचित है। 'आग्रही' का अर्थ है-किसी बात पर अड़े रहने वाला, हठ करने वाला, हठी।	

Q-123 Choose the correct option (C)
eng

- | | |
|-----------------|----------------|
| 01. ursine | 02. thriving |
| 03. piscatorial | 04. slandering |
| 05. gossiping | |

Q-123 (C) के लिए सही विकल्प चुनें
hi

- | | |
|-----------------------|------------|
| 01. परिभाषा | 02. कसौटी |
| 03. परिस्थिति | 04. संसृति |
| 05. इनमें से कोई नहीं | |

Solution for Question 123		Ans Key: 2
eng	Thrive (v)- flourish; prosper. For other options- Slander (V)- defame	
hi	यहाँ 'कसौटी' शब्द का प्रयोग उचित है। 'कसौटी' का अर्थ है- किसी वस्तु को जाँचने-परखने का मानदंड।	

Q-124 Choose the correct option (D)
eng

- | | |
|-------------|------------|
| 01. sermon | 02. quaint |
| 03. ominous | 04. lean |
| 05. groan | |

Q-124 (D) के लिए सही विकल्प चुनें
hi

- | | |
|-----------------------|---------------|
| 01. ऐतिहासिक | 02. पारलौकिक |
| 03. भौतिक | 04. तात्कालिक |
| 05. इनमें से कोई नहीं | |

Solution for Question 124		Ans Key: 4
eng	For other options- Sermon (n)- a lecture Quaint (adj.)- attractively unusual or old-fashioned. Ominous (adj)- baleful/threatening Groan (v)- make a deep inarticulate sound conveying pain, despair, pleasure, etc.	
hi	यहाँ 'तात्कालिक' शब्द का प्रयोग उचित है। 'तात्कालिक' का अर्थ है- तत्काल या तुरंत का।	

Q-125 Choose the correct option (E)
eng

- | | |
|-------------|--------------|
| 01. outcome | 02. perjury |
| 03. sloppy | 04. slamming |
| 05. escort | |

Q-125 (E) के लिए सही विकल्प चुनें
hi

- | | |
|-----------------------|---------------|
| 01. उद्धरण | 02. प्रयास |
| 03. व्यवहार | 04. चक्रव्यूह |
| 05. इनमें से कोई नहीं | |

Solution for Question 125		Ans Key: 1
eng	Outcome (n)- result For other options- Escort (N)- guard	
hi	यहाँ 'उद्धरण' शब्द का प्रयोग उचित है। 'उद्धरण' का अर्थ है- किसी पुस्तक, नाटक, भाषण व आलेख आदि का वह वाक्यांश या पद्यांश जो प्रमाण के रूप में प्रस्तुत किया जाता है।	

Passage for Question 126, 127, 128, 129, 130 (ST-2048RRBBCLMAINS(6-10E)2020)
eng Passage

In the following sentence, there are two blank spaces. Below it five pair of words have been denoted by numbers (1), (2), (3), (4) and (5). Find out which pair of words can be filled in the blanks in order to make a meaningful sentence.

hi Passage

नीचे दिए गए प्रत्येक परिच्छेद में कुछ रिक्त स्थान छोड़ दिए गए हैं तथा उन्हें प्रश्न संख्या से दर्शाया गया है। ये संख्याएँ परिच्छेद के नीचे मुद्रित हैं, और प्रत्येक के सामने (A), (B), (C), (D) और (E) विकल्प दिए गए हैं। इन पाँचों में से कोई एक इस रिक्त स्थान को पूरे परिच्छेद के संदर्भ में उपयुक्त ढंग से पूरा कर देता है। आपको उस विकल्प का चयन करना है और उसका क्रमांक ही उत्तर के रूप में दर्शाना है। आपको दिए गए विकल्पों में से सबसे उपयुक्त का चयन करना है।

बौद्ध धर्म के अनुसार, मनुष्य मस्तिष्क, शरीर, इच्छा, चाहत, उद्देश्य, आशय, रुचि, भाव व तर्क का (A) है। बिना किसी बाह्य हस्तक्षेप के उसे अपने नैतिक और आध्यात्मिक परिवर्तन के लिए प्रयास करना है। बुद्ध अपने धम्म के सिद्धांतों के तार्किक परीक्षण के (B) हैं और वे अपने शिष्यों से बिना किसी विशेष आदर या अनुराग के उनके अपने विचारों को भी तर्क की (C) पर परखने के लिए कहते हैं। बुद्ध के लिए जीवन की (D) चिंताएं महत्वपूर्ण हैं। इस बात को उनके तीर वाले (E) से समझा जा सकता है। अगर तीर से घायल किसी व्यक्ति के लिए प्राथमिकता यह होनी चाहिए कि यह तीर उसके शरीर से बाहर निकले और उससे हुए घाव की तुरंत चिकित्सा हो। यदि वह व्यक्ति तीर के आकार-प्रकार, किसने तीर चलाया, उसकी जाति क्या थी, कहां से आया आदि जैसे व्यर्थ के प्रश्नों में उलझ जायेगा तो यह उसके लिए निःसंदेह घातक होगा। बुद्ध के लिए धार्मिक-दार्शनिक पहचान महत्वपूर्ण नहीं है, बल्कि नैतिक और आध्यात्मिक जीवन का निरंतर प्रयास आवश्यक है। इस प्रयास में मार्गदर्शन के लिए सूत्र बुद्ध ने दिये जो विवरण और विश्लेषण के साथ बौद्ध धर्म के शास्त्रों में (F) हैं। बुद्ध के संदेशों और संकेतों में कई ऐसे सूत्र हैं, जिनसे हमें सीख लेने की जरूरत है। विश्व और पूरी मनुष्यता के सामने उपस्थित संकटों को तीर के उद्धरण वाले प्रसंग के (G) में रखते हुए उन्हें श्रेणीबद्ध कर प्राथमिकताएं तय की जानी चाहिए। उदाहरण के लिए युद्ध की समस्या और उससे जनित (H) को लें। युद्ध, हिंसक संघर्ष, परस्पर अविश्वास आदि समस्याएं मानवता की चिर समस्याएं हैं और इनसे ही बहुत सारी अन्य परेशानियां जन्म लेती हैं। बुद्ध के लिए हिंसा (I) है। वे युद्ध और शांति का उद्गम केंद्र मनुष्य के मस्तिष्क को मानते हैं। इसीलिए वे चित्त की शांति और हृदय में करुणा की बात करते हैं। समानता, न्याय, स्वतंत्रता और मानवाधिकार आज के लोकतांत्रिक विश्व के प्रमुख मूल्य हैं। वैसे तो ये तत्व सामाजिक और राजनीतिक दर्शन के अंतर्गत आते हैं, लेकिन इनपर धार्मिक विचार भी बहुत पहले से व्यक्त किये जाते रहे हैं। प्राचीन भारत में ये अलग से विचारणीय विषय न होकर, एक समग्र (J) के ही अंग थे।

Q-126 The President gave nod to an order ____ to implementation of the Goods and Services Tax regime in Jammu and Kashmir, clearing ____ for the state assembly for enacting a State GST law.

01. pertaining - sacks
02. pertaining - decks
03. entertaining - packets
04. reigning - desks
05. knowing - racks

Q-126 (F) के लिए सही विकल्प चुनें

01. परिष्कृत
02. संग्रहित
03. विलुप्त
04. अनुपस्थिति
05. इनमें से कोई नहीं

Solution for Question 126

Ans Key: 2

eng

For other options-
Rein (V)- control
Deck (V)- decorate

hi

यहाँ 'संग्रहित' का प्रयोग उचित है।

Q-127 Communal violence in a West Bengal district as ____ and requested the state government to take ____ steps to protect all the people - "whether they are minority or majority".

01. pique-risky
02. follower-elation
03. feud-cynical
04. eliminating-effective
05. unfortunate-effective

Q-127 (G) के लिए सही विकल्प चुनें

01. प्रयोग
02. संक्षेप
03. परिवर्तन
04. दृष्टि
05. परिप्रेक्ष्य

Solution for Question 127

Ans Key: 5

eng

For other options
Pique (N)- anger
Elation (N)- glee

hi

यहाँ 'परिप्रेक्ष्य' का प्रयोग उचित है। 'परिप्रेक्ष्य' का अर्थ है- देखने अथवा सोचने की दृष्टि विशेष, किसी विषय, घटना या बात के विभिन्न पक्ष।

Q-128 The country's new anti-hijacking law, which ____ capital punishment in the event of death of "any person", has come into force following a ____ notification.

01. prescribes-government
02. lays off- regime
03. points-follow
04. reel in- pressure
05. prescribes-franchise

Q-128 (H) के लिए सही विकल्प चुनें

01. विभीषिका
03. स्नेह
05. इनमें से कोई नहीं
02. आलोचना
04. आत्मोत्सर्ग

Solution for Question 128

Ans Key: 1

eng For other options-
Reel in- to bring in something/to attract someone
Lay off- give up or stop doing something.

hi यहाँ 'विभीषिका' का प्रयोग उचित है। 'विभीषिका' का अर्थ है- भय या डर दिखाना, आतंक, डराने का साधन।

Q-129 The gains from a single examination, when at the district level in the regional language, as opposed to a multiplicity of tests in far fewer locations are

eng

01. offered, self-evident
03. positioned, bothering
05. calculated, admiring
02. allocated, contradicts
04. released, challenging

Q-129 (I) के लिए सही विकल्प चुनें

hi

01. अस्वीकार्य
03. निष्क्रिय
05. इनमें से कोई नहीं
02. स्वीकार्य
04. परिमार्जित

Solution for Question 129

Ans Key: 1

eng Option (A) is the correct answer.
Self-evident (adj.) - accessible

hi यहाँ 'अस्वीकार्य' का प्रयोग उचित है। 'अस्वीकार्य' का अर्थ है- जो स्वीकार करने या ग्रहण करने योग्य न हो, अमान्य, अग्राह्य।

Q-130 The long-term of such reforms will depend on the commitment of governments to raise the level of public employment and services to the public, both of which are low in India.

eng

01. goal, offer
03. objectives, give
05. relevance, expand
02. sustainability, render
04. authenticity, expose

Q-130 (J) के लिए सही विकल्प चुनें

hi

01. द्वेषदृष्टि
03. सद्भावदृष्टि
05. विश्वदृष्टि
02. प्रेमदृष्टि
04. कल्याणकारी

Solution for Question 130

Ans Key: 5

eng Option (E) is the correct answer.
Relevance (n)- purpose
Expand (v)- to increase

hi यहाँ 'विश्वदृष्टि' का प्रयोग उचित है। दिशा-निर्देश (11-15): नीचे दिए गए प्रत्येक प्रश्न में दो रिक्त स्थान छोटे हुए हैं और उसके पांच विकल्प सुझाए गए हैं। इनमें से कोई दो उन रिक्त स्थानों पर रख देने से वह वाक्य एक अर्थपूर्ण वाक्य बन जाता है। सही शब्द ज्ञात कर उसके विकल्प को उत्तर के रूप में अंकित कीजिए, दिए गए शब्दों में से सर्वाधिक उपयुक्त शब्दों का चयन कीजिए।

Q-131 Which of the Phrases (1), (2) (3) and (4) given below each sentence should replace the phrases given in bold in the sentence to make it grammatically correct. If the sentence is correct as it is given and no correction is required, mark (5) as the answer.

eng

Cartosat-2E is the sixth and **last of second generation cartography** themed series, which started in 2007 with Cartosat-2 and includes Cartosat-2A, 2B, 2C and 2D.

01. last of a second generation cartography
03. last of the second generation cartography
05. No Correction Required
02. last of the secondly generation cartography
04. last of the second generating cartography

Q-131 नीचे दिए गए प्रत्येक प्रश्न में दो रिक्त स्थान छोटे हुए हैं और उसके पांच विकल्प सुझाए गए हैं। इनमें से कोई दो उन रिक्त स्थानों पर रख देने से वह वाक्य एक अर्थपूर्ण वाक्य बन जाता है। सही शब्द ज्ञात कर उसके विकल्प को उत्तर के रूप में अंकित कीजिए, दिए गए शब्दों में से सर्वाधिक उपयुक्त शब्दों का चयन कीजिए।

hi

सरकार कल्याणकारी राज्य की जिम्मेवारी से भाग रही है, देश की _____ सेवाएं निजी क्षेत्र को सौंपने का काम जोरों पर है, भविष्य में पूरे देश की स्वास्थ्य सेवा ठेकेदारी _____ के हवाले हो जाएगी।

- | | |
|-------------------------|---------------------|
| 01. शिक्षा, प्रथा | 02. विधि, समूह |
| 03. स्वास्थ्य, व्यवस्था | 04. सामाजिक, परंपरा |
| 05. इनमें से कोई नहीं | |

Solution for Question 131

Ans Key: 3

eng	last of the (<i>definite article required before generations</i>) second generation cartography
hi	पहले रिक्त स्थान में 'स्वास्थ्य' शब्द आएगा क्योंकि इसके अगले वाक्य-खण्ड से स्वास्थ्य सेवाओं का संदर्भ दिया है। दूसरे रिक्त स्थान में 'व्यवस्था' शब्द आएगा क्योंकि यहाँ ठेकेदारी व्यवस्था पर बात हो रही है।

Q-132 Which of the Phrases (1), (2) (3) and (4) given below each sentence should replace the phrases given in bold in the sentence to make it grammatically correct. If the sentence is correct as it is given and no correction is required, mark (5) as the answer.

eng

The prices of high resolution satellite data in the international market were **six times more then the price of comparable products** of Indian remote-sensing satellites.

- | | |
|---|--|
| 01. six times more then the prices off comparable | 02. six times more then a prices of compare |
| 03. six timely more than prices of comparable | 04. six times more than the prices of comparable |
| 05. No Correction Required | |

Q-132 नीचे दिए गए प्रत्येक प्रश्न में दो रिक्त स्थान छूटे हुए हैं और उसके पांच विकल्प सुझाए गए हैं। इनमें से कोई दो उन रिक्त स्थानों पर रख देने से वह वाक्य एक अर्थपूर्ण वाक्य बन जाता है। सही शब्द ज्ञात कर उसके विकल्प को उत्तर के रूप में अंकित कीजिए, दिए गए शब्दों में से सर्वाधिक उपयुक्त शब्दों का चयन कीजिए।

hi

यदि क्रोध न हो तो _____ दूसरों के द्वारा पहुंचाये जाने वाले बहुत से _____ की चिरनिवृत्ति का उपाय ही न कर सके।

- | | |
|-----------------------|--------------------|
| 01. समाज, अपमानों | 02. देवता, दुखों |
| 03. संसार, सुखों | 04. मनुष्य, कष्टों |
| 05. इनमें से कोई नहीं | |

Solution for Question 132

Ans Key: 4

eng	six times more than (<i>used for showing comparison</i>) the prices (<i>plural prices could be there</i>) of comparable
hi	पहले रिक्त स्थान में 'मनुष्य' शब्द का प्रयोग उचित है, क्योंकि क्रोध मनुष्य की प्रकृति में है। दूसरे रिक्त स्थान में 'कष्टों' शब्द आएगा। क्योंकि क्रोध से मनुष्य अपने कई कष्टों से छुटकारा पाता है।

Q-133 Which of the Phrases (1), (2) (3) and (4) given below each sentence should replace the phrases given in bold in the sentence to make it grammatically correct. If the sentence is correct as it is given and no correction is required, mark (5) as the answer.

eng

Venezuelan President has warned the armed forces in his crisis-hit country against "fissures" in their ranks, **ahead of war games seen as a show of strength** after the US President's threat of military action.

- | | |
|--|--|
| 01. ahead of war games seeing as a showing of strength | 02. ahead off war game saw as a show of strength |
| 03. ahead of war games see as a show of strength | 04. ahead of war games seen a shows of strength |
| 05. No Correction Required | |

Q-133 नीचे दिए गए प्रत्येक प्रश्न में दो रिक्त स्थान छूटे हुए हैं और उसके पांच विकल्प सुझाए गए हैं। इनमें से कोई दो उन रिक्त स्थानों पर रख देने से वह वाक्य एक अर्थपूर्ण वाक्य बन जाता है। सही शब्द ज्ञात कर उसके विकल्प को उत्तर के रूप में अंकित कीजिए, दिए गए शब्दों में से सर्वाधिक उपयुक्त शब्दों का चयन कीजिए।

hi

मुद्रा का अपना कोई प्रयोग नहीं है उसका _____ तभी है जबकि उसके बदले में अन्य वस्तुएँ या सेवाएँ ली जा सकें, वस्तुओं और सेवाओं की मात्रा के बढ़ने-घटने के साथ-साथ _____ में भी बढ़ाव या घटाव हो सकता है।

- | | |
|------------------------|---------------------|
| 01. अर्थ, बाजार | 02. प्रयोजन, विक्री |
| 03. प्रभाव, लेन-देन | 04. प्रभाव, प्रयोजन |
| 05. लाभ, मुद्रा-प्रवाह | |

Solution for Question 133

Ans Key: 5

eng	No Correction Required
hi	पहले रिक्त स्थान में 'लाभ' शब्द उपयुक्त है क्योंकि मुद्रा का लाभ तभी है जब उसके बदले में अन्य वस्तुएँ या सेवाएँ ली जा सकें। दूसरे रिक्त स्थान में 'मुद्रा-प्रवाह' आएगा, मुद्रा-प्रवाह का अर्थ है -बाजार में मुद्रा का आदान-प्रदान होना।

Q-134 Which of the Phrases (1), (2) (3) and (4) given below each sentence should replace the phrases given in bold in the sentence to make it grammatically correct. If the sentence is correct as it is given and no correction is required, mark (5) as the answer.

eng

Even though my grandfather was over eighty he still enjoyed reading books and **sometimes spend an evening** at the cinema.

01. sometimes spent an evening
02. sometime spent an evening
03. sometimes spent a evening
04. sometimes spends an evening
05. No improvement

Q-134 नीचे दिए गए प्रत्येक प्रश्न में दो रिक्त स्थान छोटे हुए हैं और उसके पांच विकल्प सुझाए गए हैं। इनमें से कोई दो उन रिक्त स्थानों पर रख देने से वह वाक्य एक अर्थपूर्ण वाक्य बन जाता है। सही शब्द ज्ञात कर उसके विकल्प को उत्तर के रूप में अंकित कीजिए, दिए गए शब्दों में से सर्वाधिक उपयुक्त शब्दों का चयन कीजिए।

hi

विज्ञान आज के मानव जीवन का _____ एवं घनिष्ठ अंग बन गया है, मानव-जीवन का कोई भी क्षेत्र विज्ञान के अश्रुतपूर्व _____ से अछूता नहीं रहा।

01. अविभाज्य, अविष्कारों
02. महत्वपूर्ण, प्रभाव
03. सहज, चमत्कारों
04. स्वाभाविक, कार्यों
05. इनमें से कोई नहीं

Solution for Question 134

Ans Key: 1

eng

sometimes **spent** (*indefinite activity takes V2*) an evening

hi

पहले रिक्त स्थान में 'अविभाज्य' शब्द आएगा, अविभाज्य का अर्थ है - जो विभाजित न किया जा सके, जिसे पृथक न किया जा सके, आज के समय में विज्ञान मानव जीवन का अविभाज्य एवं घनिष्ठ अंग बन गया है। दूसरे रिक्त स्थान में 'अविष्कारों' शब्द आएगा क्योंकि विज्ञान ने लगभग सभी क्षेत्रों में आविष्कार किए हैं।

Q-135 Which of the Phrases (1), (2) (3) and (4) given below each sentence should replace the phrases given in bold in the sentence to make it grammatically correct. If the sentence is correct as it is given and no correction is required, mark (5) as the answer.

eng

I made a quick count of the number of calls to **various officials of the Health Department** over the past two-three days.

01. few officials of the Health Department
02. little officials of the Health Department
03. various officials of the Health Departments
04. various officials of the Health Department
05. No Correction Required

Q-135 नीचे दिए गए प्रत्येक प्रश्न में दो रिक्त स्थान छोटे हुए हैं और उसके पांच विकल्प सुझाए गए हैं। इनमें से कोई दो उन रिक्त स्थानों पर रख देने से वह वाक्य एक अर्थपूर्ण वाक्य बन जाता है। सही शब्द ज्ञात कर उसके विकल्प को उत्तर के रूप में अंकित कीजिए, दिए गए शब्दों में से सर्वाधिक उपयुक्त शब्दों का चयन कीजिए।

hi

सामान्यतः ऐसा माना जाता है कि _____ अब तक के सभी आचार विचारों का जमाव है, सभी पुरानी बातें परम्परा कह दी जाती है, जबकि सत्य यह है कि परम्परा भी एक _____ प्रक्रिया की देन है।

01. अतीत, स्थिर
02. यथार्थ, संकुचित
03. इतिहास, धीमी
04. इनमें से कोई नहीं
05. परम्परा, गतिशील

Solution for Question 135

Ans Key: 5

eng

No Correction Required

hi

पहले रिक्त स्थान में 'परम्परा' शब्द आएगा और दूसरे रिक्त स्थान में गतिशील शब्द आएगा, क्योंकि परम्परा एक गतिशील परम्परा की देन है।

Q-136 Read each part of the sentence to find out if there is any error in it. The error, if any, will be in one part of the sentence. The number of that part is the answer. If there is no error, mark your answer as (5).

eng

Sarah is aware that (1)/ replicating her winning cooperative formula (2)/ throughout Maghreb (3)/ is an ambitious step.(4)/ No Error (5)

01. 1
02. 2
03. 3
04. 4
05. 5

Q-136 नीचे दिया गया प्रत्येक वाक्य चार भागों में बांटा गया है जिन्हें (A), (B), (C), (D) विकल्प दिए गए हैं। आपको यह देखना है कि वाक्य के किसी भाग में व्याकरण, भाषा, वर्तनी, शब्दों के गलत प्रयोग या इसी तरह की कोई त्रुटि तो नहीं है। त्रुटि अगर होगी तो वाक्य के किसी एक भाग में ही होगी। उस भाग का क्रमांक ही उत्तर है। यदि वाक्य त्रुटि रहित है तो उत्तर (E) अर्थात 'त्रुटीरहित' दीजिए।

hi

मेरे मन ने (A)/ ऐसी दुर्घटना (B)/ घट जाने की (D)/ कल्पना भी न की थी। (C)/ त्रुटीरहित (E)

01. मेरे मन ने
02. ऐसी दुर्घटना

03. कल्पना भी न की थी

04. त्रुटीरहित

05. घट जाने की

Solution for Question 136

Ans Key: 5

eng No Error.

hi यहाँ 'घट जाने की' के स्थान पर 'घटित होने की' का प्रयोग उचित है।

Q-137 Read each part of the sentence to find out if there is any error in it. The error, if any, will be in one part of the sentence. The number of that part is the answer. If there is no error, mark your answer as (5).

eng

The Centre has given Rs 1,200 crore funds (1)/ to the Telangana government under (2)/ the National Health Mission (NHM) over (3)/ the lastly three years.(4)/No Error (5)

01. 1

02. 2

03. 3

04. 4

05. 5

Q-137 नीचे दिया गया प्रत्येक वाक्य चार भागों में बांटा गया है जिन्हें (A), (B), (C), (D) विकल्प दिए गए हैं। आपको यह देखना है कि वाक्य के किसी भाग में व्याकरण, भाषा, वर्तनी, शब्दों के गलत प्रयोग या इसी तरह की कोई त्रुटी तो नहीं है। त्रुटी अगर होगी तो वाक्य के किसी एक भाग में ही होगी। उस भाग का क्रमांक ही उत्तर है। यदि वाक्य त्रुटी रहित है तो उत्तर (E) अर्थात् 'त्रुटीरहित' दीजिए।

hi

उस सड़क पर (A)/ दो-दो मील पर (E)/ एक-एक पत्थर (C)/ लगा हुआ था। (D)/ त्रुटीरहित (B)

01. उस सड़क पर

02. एक-एक पत्थर

03. लगा हुआ था

04. त्रुटीरहित

05. दो-दो मील प

Solution for Question 137

Ans Key: 4

eng Option (4) Replace 'lastly' with 'past'.

hi 'कोई त्रुटी नहीं'

Q-138 Read each part of the sentence to find out if there is any error in it. The error, if any, will be in one part of the sentence. The number of that part is the answer. If there is no error, mark your answer as (5).

eng

Without a doubt, the young Tunisian hopes (1)/ that her successful career so far will inspire others, (2)/ and that other women especially will feel enough strong (3)/ to shake the deeply anchored roots of these traditional agricultural practices.(4)/ No Error (5)

01. 1

02. 2

03. 3

04. 4

05. 5

Q-138 नीचे दिया गया प्रत्येक वाक्य चार भागों में बांटा गया है जिन्हें (A), (B), (C), (D) विकल्प दिए गए हैं। आपको यह देखना है कि वाक्य के किसी भाग में व्याकरण, भाषा, वर्तनी, शब्दों के गलत प्रयोग या इसी तरह की कोई त्रुटी तो नहीं है। त्रुटी अगर होगी तो वाक्य के किसी एक भाग में ही होगी। उस भाग का क्रमांक ही उत्तर है। यदि वाक्य त्रुटी रहित है तो उत्तर (E) अर्थात् 'त्रुटीरहित' दीजिए।

hi

यह बात (A)/ एक उदाहरण से (B)/ अच्छी तरह (C) समझाया जा सकता है।(E)/ त्रुटीरहित (D)

01. यह बात

02. एक उदाहरण से

03. समझाया जा सकता है

04. अच्छी तरह

05. त्रुटीरहित

Solution for Question 138

Ans Key: 3

eng Option (3) replace 'enough strong' with 'strong enough' as adjective preceds noun.

hi यहाँ 'समझाया जा सकता है' के स्थान पर 'समझाई जा सकती है' का प्रयोग उचित है, क्योंकि इससे पहले 'अच्छी तरह' आया है इसके अनुसार यहाँ 'समझाई जा सकती है' का प्रयोग उपयुक्त है।

Q-139 Read each part of the sentence to find out if there is any error in it. The error, if any, will be in one part of the sentence. The number of that part is the answer. If there is no error, mark your answer as (5).

eng

Egypt criticised the US decision (1)/ to reduce financial aid and (2)/ withhold some military assistance as a "misjudgement" (3)/ of strategic ties among the two allies.(4)/No Error (5)

01. 1

02. 2

03. 3

04. 4

05. 5

Q-139 नीचे दिया गया प्रत्येक वाक्य चार भागों में बांटा गया है जिन्हें (A), (B), (C), (D) विकल्प दिए गए हैं। आपको यह देखना है कि वाक्य के किसी भाग में व्याकरण, भाषा, वर्तनी, शब्दों के गलत प्रयोग या इसी तरह की कोई त्रुटी तो नहीं है। त्रुटी अगर होगी तो वाक्य के किसी एक भाग में ही होगी। उस भाग का क्रमांक ही उत्तर है। यदि वाक्य त्रुटी रहित है तो उत्तर (E) अर्थात् 'त्रुटीरहित' दीजिए।

hi

अपनी माँ के (A)/ डाँटने पर भी (B)/ वह इतनी रोती है (D) कि हम सब तंग हो जाते हैं।(C)/ त्रुटीरहित (E)

01. अपनी माँ के

02. डाँटने पर भी

03. कि हम सब तंग हो जाते हैं

04. वह इतनी रोती है

05. त्रुटीरहित

Solution for Question 139

Ans Key: 4

eng

Option (4) 'between' will be correct as two entities have been mentioned.

hi

यहाँ 'वह इतनी रोती है' के स्थान पर 'वह इतना रोती है' का प्रयोग उचित है।

Q-140 Read each part of the sentence to find out if there is any error in it. The error, if any, will be in one part of the sentence. The number of that part is the answer. If there is no error, mark your answer as (5).

eng

A railway station in Rajasthan and eye-catching locations (1)/ in Qatar and Egypt are among the (2)/ early pictures beamed down by (3)/ the week-old Cartosat-2 series spacecraft. (4)/ No Error (5)

01. 1

02. 2

03. 3

04. 4

05. 5

Q-140 नीचे दिया गया प्रत्येक वाक्य चार भागों में बांटा गया है जिन्हें (A), (B), (C), (D) विकल्प दिए गए हैं। आपको यह देखना है कि वाक्य के किसी भाग में व्याकरण, भाषा, वर्तनी, शब्दों के गलत प्रयोग या इसी तरह की कोई त्रुटी तो नहीं है। त्रुटी अगर होगी तो वाक्य के किसी एक भाग में ही होगी। उस भाग का क्रमांक ही उत्तर है। यदि वाक्य त्रुटी रहित है तो उत्तर (E) अर्थात् 'त्रुटीरहित' दीजिए।

hi

अगर अनुराधा को (A)/ मुझसे बात नहीं करना था (C)/ तो वह मेरे यहाँ (B)/ आई ही क्यों?(D)/ त्रुटीरहित (E)

01. अगर अनुराधा को

02. तो वह मेरे यहाँ

03. आई ही क्यों?

04. त्रुटीरहित

05. मुझसे बात नहीं करना था

Solution for Question 140

Ans Key: 5

eng

No Error

hi

यहाँ 'मुझसे बात नहीं करना था' के स्थान पर 'मुझसे बात नहीं करनी थी' का प्रयोग उचित है। क्योंकि इस वाक्य-खंड में 'बात' शब्द का प्रयोग प्रयोग हुआ है इस कारण यहाँ पर 'मुझसे बात नहीं करनी थी' का प्रयोग उपयुक्त है।

Passage for Question 141, 142, 143, 144, 145 (ST-2048RRBBCLMAINS(21-25E)2020)

eng Passage

Rearrange the following parts (A),(B),(C), (D), (E) and (F) in the proper sequence to form a meaningful paragraph, then answer the questions given below them.

(A) The Centre would like us to believe that

(B) By all accounts, the provision of basic services in urban India has been worsening,

(C) With the latest inclusions, there are 90 cities in the list, each of which proposes to turn 'smart',

(D) The Smart Cities Mission will transform urban life

(E) Utilising core funding from the Centre and other resources.

(F) In the agglomerations that enter the elite club.

(G) And this is clearly reflected in the winning city proposals.

hi Passage

निम्नलिखित भागों (A), (B), (C), (D), (E) और (F) को उचित क्रम में एक सार्थक अनुच्छेद बनाने के लिए व्यवस्थित करें फिर उनके नीचे दिए गए प्रश्नों के उत्तर दें।

(A) 1962 में भारत और चीन के बीच युद्ध हुआ तो दोनों देश परमाणुशक्ति संपन्न नहीं थे.

(B) कि भारत 1962 से बहुत आगे निकल चुका है इसलिए चीन को कोई मुगलते में नहीं रहना चाहिए.

(C) दोनों देशों की सेना दुनिया की बड़ी और मजबूत सेनाओं में एक मानी जाती है.

(D) आज की तारीख में भारत और चीन दोनों परमाणु हथियारों से लैस हैं.

(E) डोकलाम विवाद के वक़्त तत्कालीन रक्षा मंत्री अरुण जेटली ने दो टूक कहा था.

(F) 58 सालों बाद भारत और चीन सैन्य शक्ति के मामले बहुत आगे निकल चुके हैं.

Q-141 Which of the following would be the FIRST sentence after rearrangement?

eng

01. E

02. B
03. A

04. D
05. C

Q-141 निम्न में से कौन पुनर्व्यवस्था के बाद पहला वाक्य हो सकता है?

hi

01. E

02. B
03. A

04. D
05. C

Solution for Question 141

Ans Key: 3

eng

The correct sequence is “ADFCEBG” and the passage is based on “The Smart Cities Mission”.

hi

सही अनुक्रम "ADFCEB" है, और लेख "भारत और चीन" पर आधारित है। 1962 में भारत और चीन के बीच युद्ध हुआ तो दोनों देश परमाणुशक्ति संपन्न नहीं थे. आज की तारीख में भारत और चीन दोनों परमाणु हथियारों से लैस हैं. 58 सालों बाद भारत और चीन सैन्य शक्ति के मामले बहुत आगे निकल चुके हैं. दोनों देशों की सेना दुनिया की बड़ी और मजबूत सेनाओं में एक मानी जाती है. डोकलाम विवाद के वक्त तत्कालीन रक्षा मंत्री अरुण जेटली ने दो टूक कहा था कि भारत 1962 से बहुत आगे निकल चुका है इसलिए चीन को कोई मुगालते में नहीं रहना चाहिए.

Q-142 Which of the following would be the LAST sentence after rearrangement?

eng

01. E

02. G
03. A

04. D
05. C

Q-142 निम्न में से कौन पुनर्व्यवस्था के बाद अंतिम वाक्य हो सकता है?

hi

01. E

02. B
03. A

04. D
05. C

Solution for Question 142

Ans Key: 2

eng

The correct sequence is “ADFCEBG” and the passage is based on “The Smart Cities Mission”.

hi

सही अनुक्रम "ADFCEB" है, और लेख "भारत और चीन" पर आधारित है। 1962 में भारत और चीन के बीच युद्ध हुआ तो दोनों देश परमाणुशक्ति संपन्न नहीं थे. आज की तारीख में भारत और चीन दोनों परमाणु हथियारों से लैस हैं. 58 सालों बाद भारत और चीन सैन्य शक्ति के मामले बहुत आगे निकल चुके हैं. दोनों देशों की सेना दुनिया की बड़ी और मजबूत सेनाओं में एक मानी जाती है. डोकलाम विवाद के वक्त तत्कालीन रक्षा मंत्री अरुण जेटली ने दो टूक कहा था कि भारत 1962 से बहुत आगे निकल चुका है इसलिए चीन को कोई मुगालते में नहीं रहना चाहिए.

Q-143 Which of the following would be the SIXTH sentence after rearrangement?

eng

01. E

02. B
03. A

04. D
05. C

Q-143 निम्न में से कौन पुनर्व्यवस्था के बाद चौथा वाक्य हो सकता है?

hi

01. E

02. C
03. A

04. D
05. B

Solution for Question 143

Ans Key: 2

eng

The correct sequence is “ADFCEBG” and the passage is based on “The Smart Cities Mission”.

hi

सही अनुक्रम "ADFCEB" है, और लेख "भारत और चीन" पर आधारित है। 1962 में भारत और चीन के बीच युद्ध हुआ तो दोनों देश परमाणुशक्ति संपन्न नहीं थे. आज की तारीख में भारत और चीन दोनों परमाणु हथियारों से लैस हैं. 58 सालों बाद भारत और चीन सैन्य शक्ति के मामले बहुत आगे निकल चुके हैं. दोनों देशों की सेना दुनिया की बड़ी और मजबूत सेनाओं में एक मानी जाती है. डोकलाम विवाद के वक्त तत्कालीन रक्षा मंत्री अरुण जेटली ने दो टूक कहा था कि भारत 1962 से बहुत आगे निकल चुका है इसलिए चीन को कोई मुगालते में नहीं रहना चाहिए.

Q-144 Which of the following would be the FIFTH sentence after rearrangement?

eng

01. E

02. B
03. A

04. D
05. C

Q-144 निम्न में से कौन पुनर्व्यवस्था के बाद पांचवीं वाक्य हो सकता है?

Ans Key: 1

सही अनुक्रम "ADFCB" है, और लेख "भारत और चीन" पर आधारित है।
1962 में भारत और चीन के बीच युद्ध हुआ तो दोनों देश परमाणुशक्ति संपन्न नहीं थे। आज की तारीख में भारत और चीन दोनों परमाणु हथियारों से लैस हैं। 58 सालों बाद भारत और चीन सैन्य शक्ति के मामले में बहुत आगे निकल चुके हैं। दोनों देशों की सेना दुनिया की बड़ी और मजबूत सेनाओं में एक मानी जाती है। डोकलाम विवाद के वक़्त तत्कालीन रक्षा मंत्री अरुण जेटली ने दो टुके कहा था कि भारत 1962 से बहुत आगे निकल चुका है इसलिए चीन को कोई मुग़ालते में नहीं रहना चाहिए।

eng

- 01.** E **02.** B
03. F **04.** D
05. C

hi

- 01.** E **02.** B
03. F **04.** D
05. C

Ans Key: 3

hi सही अनुक्रम "ADFCB" है, और लेख "भारत और चीन" पर आधारित है। 1962 में भारत और चीन के बीच युद्ध हुआ तो दोनों देश परमाणुशक्ति संपन्न नहीं थे। आज की तारीख में भारत और चीन दोनों परमाणु हथियारों से लैस हैं। 58 सालों बाद भारत और चीन सैन्य शक्ति के मामले में बहुत आगे निकल चुके हैं। दोनों देशों की सेना दुनिया की बड़ी और मजबूत सेनाओं में एक मानी जाती है। डोकलाम विवाद के वक्त तत्कालीन रक्षा मंत्री अरुण जेटली ने दो टुक कहा था कि भारत 1962 से बहुत आगे निकल चुका है इसलिए चीन को कोई मुगालते में नहीं रहना चाहिए।

eng

01. paragon 02. make equivalent
03. Imbalance 04. regard
05. agree

hi

01. उदय स्थल
02. उदयाचल
03. पूर्वाचल
04. उदयस्थान
05. इनमें से कोई नहीं

Ans Key: 2

eng

01. irritation **02.** convenience
03. digress **04.** worried
05. aid

hi

‘जिसका जन्म अच्छे कल में हुआ हो’

- | | |
|-----------------------|-------------|
| 01. उदात्त | 02. अन्त्यज |
| 03. अनुसूचित | 04. कुलीन |
| 05. इनमें से कोई नहीं | |

Solution for Question 147

Ans Key: 4

eng

For other options:
Digress (v)- deviate, diverge

hi

कुलीन - जिसका जन्म अच्छे कुल में हुआ हो।
उदात्त - महान, श्रेष्ठ, उत्तम, उदार।
अनुसूचित - अनुसूची में लाया हुआ, अनुसूची में शामिल, जिसे अनुसूची में शामिल या निर्दिष्ट किया गया हो (जैसे -जातियां, भाषाएँ)

Q-148 Choose the word most nearly the **OPPOSITE** in meaning to the word given in bold.

eng

Systematic

- | | |
|----------------|---------------|
| 01. sequential | 02. haphazard |
| 03. orderly | 04. logical |
| 05. judicious | |

Q-148 नीचे कुछ वाक्यांश या शब्द समूह दिए गए हैं और उसके बाद पांच ऐसे शब्द दिए गए हैं जो एक ही शब्द में वाक्यांश का या उस शब्द समूह का अर्थ प्रकट करते हैं। आपको पता लगाना है कि वह शब्द कौन सा है जो वाक्यांश का सही अर्थ प्रकट करता है। उस विकल्प की संख्या ही आपका उत्तर है।

hi

‘ऐसा पुष्प जो अभी विकसित नहीं हुआ है’

- | | |
|-----------------------|-----------|
| 01. मंजरी | 02. मुकुल |
| 03. कोश | 04. बौर |
| 05. इनमें से कोई नहीं | |

Solution for Question 148

Ans Key: 2

eng

Haphazard (adj.)- lacking any obvious principle of organization.
For other options:
Logical (adj.)- having logic
Judicious (adj.)- justified

hi

बौर - फल में परिवर्तित होने वाला फूल, आम के वृक्ष की मंजरी।
मंजरी -आम पुष्प, आम के बौर, नया कोपल।
कोश - भंडार, खजाना, फूलों की बंधी कली
मुकुल -ऐसा पुष्प जो अभी विकसित नहीं हुआ है, कली

Q-149 Choose the word most nearly the **OPPOSITE** in meaning to the word given in bold.

eng

Rapidly

- | | |
|------------------|----------------|
| 01. in a haste | 02. carelessly |
| 03. meaningfully | 04. lately |
| 05. slowly | |

Q-149 नीचे कुछ वाक्यांश या शब्द समूह दिए गए हैं और उसके बाद पांच ऐसे शब्द दिए गए हैं जो एक ही शब्द में वाक्यांश का या उस शब्द समूह का अर्थ प्रकट करते हैं। आपको पता लगाना है कि वह शब्द कौन सा है जो वाक्यांश का सही अर्थ प्रकट करता है। उस विकल्प की संख्या ही आपका उत्तर है।

hi

‘केवल इसी लोक से संबंधित’

- | | |
|---------------|--------------|
| 01. मृत्युलोक | 02. लौकिक |
| 03. भूलोक | 04. सांसारिक |
| 05. इहलौकिक | |

Solution for Question 149

Ans Key: 5

eng

Rapidly (adv.)- quickly.
For other options:
In a haste- hurry

hi

मृत्यु लोक - मरणशील प्राणियों का लोक, पृथ्वीलोक।
इहलौकिक - इस संसार या दुनिया का, इस संसार से संबंध रखने वाला।
लौकिक - सांसारिक, लोक संबंधी, व्यावहारिक।
भूलोक - धरती, संसार, जगत

Q-150 Choose the word most **SIMILAR** in meaning to the word given in bold.

01. Worse

03. Launch

05. Hesitate
02. Counterbalance

04. Approve

Q-150 नीचे कुछ वाक्यांश या शब्द समूह दिए गए हैं और उसके बाद पांच ऐसे शब्द दिए गए हैं जो एक ही शब्द में वाक्यांश का या उस शब्द समूह का अर्थ प्रकट करते हैं। आपको पता लगाना है कि वह शब्द कौन सा है जो वाक्यांश का सही अर्थ प्रकट करता है। उस विकल्प की संख्या ही आपका उत्तर है।

hi

‘कृपा के कारण संतोष धारण किए हुए मनुष्य’

01. उपकृत

03. कृतकर्म

05. इनमें से कोई नहीं
02. कृतार्थ

04. कृतकार्य

Solution for Question 150

Ans Key: 2

eng	Offset means to counterbalance.
hi	उपकृत – जिसके साथ उपकार किया गया हो, कृतज्ञ, अहसानमंद। कृतकार्य – जो अपना कार्य या प्रयोजन सिद्ध कर चुका हो, कामयाब, सफल-मनोरथ। कृतार्थ – ‘कृपा के कारण संतोष धारण किए हुए मनुष्य’, जो उद्देश्य सिद्ध के कारण संतुष्ट या प्रसन्न हो।

Passage for Question 151, 152, 153, 154, 155 (ST-2048RRBBCLMAINS(31-35E)2020)

eng Passage

Read the following passage carefully and answer the given questions.

Humanity is not about maintaining a gracious relationship between one another in the society but it is about building a bond amongst the society with the help of a sustainable values. Humanity is not about showing passion and empathy to each other at times of need but about regarding love in high esteem and kindness in all walks of life. Humanity is not just a word for symbolizing the human compassion and civilization but it goes beyond the horizons of human nature and his creations. It is all about using hearts along with the minds in all the endeavours of human kind.

Human kind has come a long way in learning the ways of building relations and creating civilizations in order to inhabit this world with livelihood full of love and harmony. Every human has a part in doing this great task of taking ahead the human race to a dignified and noble place on this planet. And this is where we all have to be proud of ourselves and pass this message on to the future generations. Humanity, in general, is perceived as a charity. As the old saying goes, it begins at home. It spreads across the roads we travel, places we dwell, and people we meet. Humanity, not as many criticise, is scarce today. It is very much available in plenty. In fact, it has grown and evolved much better than centuries ago. From the individualistic aspect to a social, or even in a much larger perspective, humanity has thrived well in embracing and supporting the human race in many different forms. Nevertheless, more and more people are still out there who are not that fortunate to live the humanity in its central point of its existence; they are out there to seek the rays of hope and love and brace the traces of passion and kindness.

Today’s world, when we look at it in a social point of view, is full of greed, commotion, distress and distrust. Besides becoming more civilized and learning about the intricacies of human race and development, we humans are mired by the new wave of modernization and outcomes of transformation due to technology innovations and cultural incursions. As a result, we are preoccupied with our television, mobile phones, computers, etc., spending less time with the fellow humans. Our direct interactions with our children, neighbours, and friends are taken away by this massive modern hi-tech living style. We do realise many times a day the importance of humanity, love and kindness to other living beings but could not divulge them directly upon any one. We keep humanity in high regard in principle but have no time to give it a meaning in our own life. We do not expend even a little time, a few seconds in the service of humanity, in the form of prayers or meditation or by any deeds.

hi Passage

नीचे दिए गए गद्यांश को ध्यानपूर्वक पढ़िए और उस पर आधारित प्रश्नों के उत्तर दीजिए। गद्यांश के अनुसार, दिए गए विकल्पों में से सबसे उपयुक्त विकल्प का चयन कीजिए।

भारत में बैंकिंग का इतिहास काफी प्राचीन है। भारतीयों द्वारा स्थापित प्रथम बैंकिंग कंपनी अवध कॉमर्शियल बैंक (1881) थी। 1940 के दशक में 588 बैंकों की असफलता के कारण कड़े नियमों की जरूरत महसूस की गई। फलस्वरूप बैंकिंग कंपनी अधिनियम फरवरी 1949 में पारित हुआ, जो बाद में बैंकिंग नियमन अधिनियम के नाम से संशोधित हुआ। 19 जुलाई, 1969 को 14 प्रमुख बैंकों (जिनमें जमा राशि 50 करोड़ रु. से अधिक थी) का राष्ट्रीयकरण किया गया। बाद में अप्रैल 1980 में 6 और बैंकों का भी राष्ट्रीयकरण किया गया। राष्ट्रीयकरण के बाद के तीन दशकों में देश में बैंकिंग प्रणाली का असाधारण गति से विस्तार हुआ- भौगोलिक लिहाज से भी और वित्तीय विस्तार की दृष्टि से भी। 14 अगस्त, 1991 को एक उच्च-स्तरीय समिति वित्तीय प्रणाली के ढांचे, संगठन, कामकाज और प्रक्रियाओं के सभी पहलुओं की जाँच करने के लिए नियुक्त की गई। एम. नरसिंहम की अध्यक्षता में बनी इस समिति की सिफारिशों के आधार पर 1992-93 में बैंकिंग प्रणाली में व्यापक सुधार किए गए। हाल में रिजर्व बैंक ऑफ इंडिया द्वारा किये गये एक स्ट्रेस टेस्ट के अनुसार भारतीय बैंकिंग प्रणाली किसी भी तरह के आर्थिक संकट और ऊँची नॉन-परफॉर्मिंग परिसंपत्तियों के झटकों को सहन करने में पूरी तरह से सक्षम है। महत्वपूर्ण बात यह है कि अब रिजर्व बैंक ऑफ इंडिया के पास सोने का दुनिया में 10वां सबसे बड़ा भंडार है। नवंबर 2009 में रिजर्व बैंक ने 6.7 अरब अमेरिकी डॉलर की लागत से अंतर्राष्ट्रीय मुद्रा कोष से 200 मीट्रिक टन सोने की खरीद की थी। इस खरीद से उसके विदेशी मुद्रा कोष में गोल्ड होल्डिंग्स की हिस्सेदारी बढ़ गई है। पहले गोल्ड होल्डिंग्स की हिस्सेदारी इसमें 4 प्रतिशत थी जो अब बढ़कर 6 प्रतिशत हो गई है। यूनाइटेड किंगडम स्थित ब्रांड फाइनेंस द्वारा किये गये वार्षिक अंतर्राष्ट्रीय बैंकिंग अध्ययन के अनुसार 20 भारतीय बैंकों को ब्रांड फाइनेंस ग्लोबल बैंकिंग 500 की सूची में शामिल किया गया है। वस्तुतः स्टेट बैंक ऑफ इंडिया भारत की ऐसी पहली बैंक बन गई है जिसे दुनिया की पचास बैंकों की सूची में स्थान मिला है। इसे पचास बैंकों के मध्य 36वां स्थान मिला है। 2009 में जहां स्टेट बैंक की ब्रांड वैल्यू 1.5 अरब अमेरिकी डॉलर थी वहीं यह 2010 में 4.6 अरब डॉलर हो गई है। आईसीआईसीआई बैंक को दुनिया की 100 श्रेष्ठ बैंकों की सूची में स्थान मिला है। इसकी ब्रांड वैल्यू 1.3 अरब अमेरिकी डॉलर है। भारत की अनुसूचित वाणिज्यिक बैंकों की 2008-09 की बैलेंस शीट यह दर्शाती है कि इनकी वित्तीय स्थिति काफी संतोषजनक है। लेकिन ये बैंक भी ग्लोबल आर्थिक संकट से पूरी तरह से अछूती नहीं रही थीं। मार्च 2009 को समाप्त हुए वित्तीय वर्ष में अनुसूचित वाणिज्यिक बैंकों की कांसांलीडेटेड बैलेंस शीट यह दर्शाती है कि इनकी वृद्धि दर 21.2 प्रतिशत रही। जबकि पिछले वर्ष की इसी अवधि में वृद्धि दर 25.0 प्रतिशत रही थी। सार्वजनिक क्षेत्रों की बैंकों में जहां वृद्धि दर सकारात्मक रही वहीं निजी व विदेशी बैंकों ने नकारात्मक वृद्धि दर दर्ज की। ग्लोबल आर्थिक संकट के दौरान अधिकांश लोगों ने अपने पैसे को सार्वजनिक क्षेत्रों की बैंकों में जमा करना मुनासिब समझा। अनुसूचित वाणिज्यिक बैंकों की डिपॉजिट और क्रेडिट के विषय में रिजर्व बैंक की तिमाही आंकड़ों के संबंध में जारी रिपोर्ट के अनुसार ग्लोबल आर्थिक संकट के दौरान राष्ट्रीयकृत बैंकों, विदेशी बैंकों और क्षेत्रीय

ग्रामीण बैंकों के डिपॉजिट क्रमशः 17.8 प्रतिशत, 5.6 प्रतिशत और 3.0 प्रतिशत रहे। जहाँ तक सकल बैंक क्रेडिट का सवाल है, राष्ट्रीयकृत बैंकों ने देश में बैंकों द्वारा बांटे गये ऋण का 50.5 प्रतिशत बांटा। इसमें भी स्टेट बैंक ऑफ इंडिया ने 23.7 प्रतिशत ऋण बांटा। विदेशी बैंकों व क्षेत्रीय ग्रामीण बैंकों ने क्रमशः 5.5 प्रतिशत और 2.5 प्रतिशत ऋण ही बांटे। रिजर्व बैंक की रिपोर्ट के अनुसार अनुसूचित वाणिज्यिक बैंकों की देश में कुल 34,709 शाखाएं हैं।

Q-151 As per your reading, what aids the building up of relationships within a society?

eng

- | | |
|---|----------------------------------|
| 01. Being understanding of the behaviour of all generations | 02. Kindness towards mankind |
| 03. Values that are not fleeting | 04. Knowledge of human behaviour |
| 05. Both (2) and (4) | |

Q-151 गद्यांश के अनुसार, किस कारण देश में बैंकिंग प्रणाली का असाधारण गति से विस्तार हुआ?

hi

- | | |
|-----------------------|---|
| 01. वैश्वीकरण | 02. उदारीकरण |
| 03. राष्ट्रीयकरण | 04. बैंकों की संख्या में वृद्धि के कारण |
| 05. इनमें से कोई नहीं | |

Solution for Question 151

Ans Key: 3

eng

The answer can be inferred from the beginning of the first paragraph.

hi

राष्ट्रीयकरण होने के कारण देश में बैंकिंग प्रणाली का असाधारण गति से विस्तार हुआ।

Q-152 What is the message that author wants to convey from the passage?

eng

- A. People have cowardly or dishonourable behaviour.
 B. A pretentious life is all people want.
 C. People ignore to play a practical role on the path of humanity.

- | | |
|--------------------|------------------|
| 01. Only A | 02. Only B |
| 03. Both B and C | 04. Both A and B |
| 05. All A, B and C | |

Q-152 गद्यांश के अनुसार, रिजर्व बैंक ऑफ इंडिया के पास दुनिया में सोने के भंडार का कौन सा भाग है?

hi

- | | |
|---------------------------|----------------------------|
| 01. 5 वां सबसे बड़ा भंडार | 02. 12 वां सबसे बड़ा भंडार |
| 03. 8 वां सबसे बड़ा भंडार | 04. 10वां सबसे बड़ा भंडार |
| 05. इनमें से कोई नहीं | |

Solution for Question 152

Ans Key: 5

eng

The answer can be inferred after reading the passage carefully.

hi

रिजर्व बैंक ऑफ इंडिया के पास दुनिया में सोने के भंडार का 10वां सबसे बड़ा भंडार है।

Q-153 How does today's world appear when we look at it with the spectacles of socialism?

eng

- | | |
|--|---|
| 01. Noisy disturbance of extreme anxiety, or sorrow are prevalent. | 02. The world is full of intense and selfish desire. |
| 03. There is a lot of distrust in the world. | 04. Everyone is worried about the future not present. |
| 05. All except (4) | |

Q-153 गद्यांश के अनुसार, रिजर्व बैंक ने 6.7 अरब अमेरिकी डॉलर की लागत से 200 मीट्रिक टन सोना किससे खरीदा था?

hi

- | | |
|-------------------------|-------------------------------|
| 01. विश्व बैंक | 02. संयुक्त राष्ट्र संघ |
| 03. विश्व व्यापार संगठन | 04. अंतर्राष्ट्रीय मुद्रा कोष |
| 05. इनमें से कोई नहीं | |

Solution for Question 153

Ans Key: 5

eng

The answer can be inferred from the beginning of the third paragraph.

hi

रिजर्व बैंक ने 'अंतर्राष्ट्रीय मुद्रा कोष' से 200 मीट्रिक टन सोना खरीदा था।

Q-154 According to the passage, what perception does the author have of humanity?

- eng
- A. Humanity is equivalent to charity.
 - B. Humanity is equivalent to malevolence
 - C. Humanity is equivalent to indignity

- 01. Only B
- 02. Only C
- 03. Only A
- 04. Both B and C
- 05. Both A and B

Q-154 गद्यांश के अनुसार, भारत की किस बैंक को दुनिया की पचास बैंकों की सूची में सम्मिलित किया गया है?

- hi
- 01. आईसीआईसीआई बैंक
 - 02. बैंक और बड़ोदा
 - 03. स्टेट बैंक ऑफ इंडिया
 - 04. पंजाब नेशनल बैंक
 - 05. इनमें से कोई नहीं

Solution for Question 154 Ans Key: 3

eng The answer can be inferred from the middle of the second paragraph.

hi स्टेट बैंक ऑफ इंडिया को दुनिया की पचास बैंकों की सूची में सम्मिलित किया गया है। स्टेट बैंक ऑफ इंडिया की भारत में सबसे अधिक शाखाएँ हैं।

Q-155 Mention the negative impacts of modern hi-tech living style on the society.

- eng
- 01. Not much heed is paid to friends and neighbours.
 - 02. People now-a-days are occupied by electronic gadgets.
 - 03. People don't pay proper attention to their kids.
 - 04. Now, there are more intricacies in human behavioural patterns.
 - 05. Both (1) and (3)

Q-155 गद्यांश के अनुसार, किस बैंक की ब्रांड वैल्यू 1.3 अरब अमेरिकी डॉलर है?

- hi
- 01. स्टेट बैंक ऑफ इंडिया
 - 02. बैंक और बड़ोदा
 - 03. इनमें से कोई नहीं
 - 04. पंजाब नेशनल बैंक
 - 05. आईसीआईसीआई बैंक

Solution for Question 155 Ans Key: 5

eng The answer can be inferred from the last paragraph.

hi आईसीआईसीआई बैंक की ब्रांड वैल्यू 1.3 अरब अमेरिकी डॉलर है।

Passage for Question 156, 157, 158, 159, 160 (ST-2048RRBBCLMAINS(36-40E)2020)

eng Passage

Read the following passage and answer the following questions. Certain words have been given in bold to help you locate the answer.

Think of the favourite gadgets and appliances, and it's likely some of them started life in a rundown, mosquito-infested dormitory complex an hour's drive from Malaysia's capital, Kuala Lumpur. In each block there is a makeshift kitchen, a small, grubby toilet and three rooms crowded with bunk beds. There is no air conditioning to break the oppressively humid air. Outside, burning rubbish sends acrid fumes through the labour camp, which is strewn with broken furniture and an abandoned vehicle. To call it a slum would be generous. I've seen some truly appalling workers' camps in Malaysia and the Gulf, but this rivalled the worst. Every day, the men who live here work on factory lines making components used by Samsung Electronics, one of the biggest electronics companies in the world. Last year, Samsung made a profit of almost \$50bn (£38bn). In Malaysia that money is made largely by the hands of cheap foreign migrant labour – millions of workers drawn from the region's poorest countries. Malaysia, where forced labour – a form of modern slavery – is commonplace, has a reputation for the **flagrant** abuse of workers' rights. But that hasn't stopped Samsung, and dozens of other leading electronics companies, from setting up shop here. Unlike its competitors, most of Samsung's products are assembled in-house, but it uses a long chain of suppliers to provide it with parts, services and labour, including foreign migrant workers. Why must men who are part of the supply chain of one of the world's biggest electronics companies live in such squalor and be treated so poorly? What was so frustrating was that it's a known fact. Men employed by a sub-contractor, but working on the assembly line of Samsung's microwave oven plant, told me that their passports had been **confiscated**, that they were being paid less than promised, and that they were deep in debt after shelling out high fees to recruitment agents in their home country.

Despite working at seemingly normal factories, these men were effectively trapped in their jobs by debt bondage and felt unable to leave even though they knew they were being exploited. Samsung's response was quick. They fired the sub-contractor and announced improved guidelines for the recruitment and treatment of foreign migrant workers. The guidelines, which apply to Samsung worksites and its suppliers, state migrant workers should pay no recruitment fees, receive the minimum wage and retain their passports. The guidelines across the global operations as well as among suppliers of Samsung will be strictly applied and implemented. At first, there were some positive signs. Workers at the microwave plant stated the factory was safe, the food was good and they liked the games room in their hostel. Some said they were only being paid a basic salary of about a pound an hour, but they seemed complacent. Most importantly, those recruited directly by Samsung since 2016 said they had not paid any recruitment fees. Although it was invigorating to see that changes had been made at this one plant, I wanted to see if the same applied for workers further down the supply chain. Samsung certainly appeared to have made sure that conditions for the men it directly employed and were legally responsible for had improved, but what about the many others also working at this factory, who were instead hired through sub-contracting companies? According to its own guidelines, and international labour standards, Samsung is responsible for their welfare too. There were flats which

were home to 21 men from Bangladesh. All had been hired by a company that supplied workers, through another company, to Samsung. Even at Samsung's flagship plant in Malaysia, which produces batteries for its bestselling mobile phones, Samsung continues to use sub-contracted workers who have paid high recruitment fees. What was striking was how afraid everyone appeared. They worried that if they spoke to they would be deported or punished. One worker, referring to his direct employer, stated if they knew he gave an interview, they will take him to some place and beat him up. What was found down this tiny part of Samsung's electronics supply chain in Malaysia remains an everyday reality for the millions of migrant workers across the world who toil daily to make the gadgets we use to make our own lives easier and more enjoyable. This is what it looks like when companies are left to police their own supply chains; when mega-companies chase profit, with insufficient concern for a workforce that case has no means of comeback. The world who rely on the sweat and toil of a migrant workforce need to imagine that everyone in their supply chain is their responsibility. Imagine recruiting them directly, not through agents, and at zero cost. Imagine auditing your whole supply chain regularly and rigorously. Imagine paying everyone a decent wage. And then make it a reality.

hi Passage

नीचे दिए गए प्रत्येक प्रश्न में दो रिक्त स्थान छूटे हुए हैं और उसके पांच विकल्प सुझाए गए हैं। इनमें से कोई दो उन रिक्त स्थानों पर रख देने से वह वाक्य एक अर्थपूर्ण वाक्य बन जाता है। सही शब्द ज्ञात कर उसके विकल्प को उत्तर के रूप में अंकित कीजिए, दिए गए शब्दों में से सर्वाधिक उपयुक्त शब्दों का चयन कीजिए।

Q-156 Which of the following statements is NOT TRUE according to the passage?

eng

01. A few of the workers were satisfied despite the fact that they are not getting a promising salary.
02. The intermittent work of the workers at Samsung makes our lives easier and more enjoyable.
03. Samsung made sure that at least the workers hired on legal grounds, get better facilities at the firm.
04. Almost every person immigrating from outside of the country has paid a huge fee for recruitment.
05. All of the above are true.

Q-156 ज्यादातर किसान परिवार के _____ कमाने वाले व्यक्ति होते हैं, उन्हें परिवार की मांगों और जिम्मेदारियों को पूरा करने के लिए लगातार दबाव का सामना करना पड़ता है और उसे पूरा करने में असफल होने की वजह से अक्सर तनाव में रहने वाला किसान _____ का कदम उठा लेता है।

hi

01. प्रमुख, कर्ज
02. एकमात्र, आत्महत्या
03. सर्वोच्च, आत्मग्लानि
04. महत्वपूर्ण, मजदूरी
05. इनमें से कोई नहीं

Solution for Question 156 Ans Key: 2

eng The answer can be inferred after understanding the passage.

hi

Q-157 What can be inferred from the line ‘To call it a slum would be generous’?

eng

01. The area which was meant to live was for well-off people.
02. The ambiance of the living area was worse than a slum.
03. The workers would have to live in such surroundings due to their circumstances.
04. The generosity is that the area where workers live is being called a slum but it isn't.
05. Both (2) and (4).

Q-157 वसंत ऋतु बहुत _____ होती है, जब यह आती है, तो प्रकृति में सबकुछ जाग्रत कर देती हैं; जैसे- यह पेड़, पौधे, घास, फूल, फसलें, पशु, मनुष्य और अन्य जीवित वस्तुओं को सर्दी के मौसम की _____ नींद से जगाती है।

hi

01. मोहक, अल्प
02. प्रभावशाली, लम्बी
03. शांत, प्रिय
04. आनंदमय, तीव्र
05. इनमें से कोई नहीं

Solution for Question 157 Ans Key: 2

eng The answer lies in the beginning of the first paragraph.

hi

Q-158 After migrating from another country, what are the consequences that the workers have to bear?

eng

- A. The workers have to helplessly survive in surroundings which are not habitable.
- B. Everything seemed a sign of pessimism to the workers right from the time when the work was embarked.
- C. The wage given to them is a disappointing figure, lesser than the promised one which makes survival difficult.

- 01.** Only (A) **02.** Both (A) and (B)
03. Both (B) and (C) **04.** Both (A) and (C)
05. All (A), (B) and (C)

धर्म आपसी _____ एवं एकता का प्रतीक है क्योंकि किसी धर्म विशेष को मानने वाले लोग एक ही प्रकार की जीवन पद्धति का पालन करते हैं, धर्म या मजहब अपने _____ को एकता के सूत्र में पिरोकर रखने का कार्य भी करता है।

- | | |
|------------------------|------------------------|
| 01. आनंद, प्रशंसकों | 02. भाव, भक्तों |
| 03. प्रेम, शरणार्थियों | 04. सद्भाव, अनुयायियों |
| 05. इनमें से कोई नहीं | |

Answer for Question 158

Ans Key: 4

The answer lies at the end of second paragraph.

In the question below a word is given. Find the alternative which is OPPOSITE in meaning to the given word.

FLAGRANT

01. Blatant
02. Scandalous
03. Laudatory
04. Derogatory
05. Unobtrusive

भगत सिंह निस्संदेह भारतीय स्वतंत्रता के _____ में सबसे प्रभावशाली क्रांतिकारियों में से एक है, उन्होंने न केवल जीवित रहते हुए स्वतंत्रता संग्राम में सक्रिय भूमिका निभाई बल्कि अपनी मृत्यु के बाद भी कई अन्य युवाओं को इसमें शामिल होने के लिए किया।

- | | |
|----------------------------|------------------------|
| 01. परिप्रेक्ष्य, प्रभावित | 02. संदर्भ, संयोजित |
| 03. इतिहास, प्रेरित | 04. पृष्ठ, प्रोत्साहित |
| 05. इनमें से कोई नहीं | |

for Question 159

Ans Key: 3

Laudatory (adj) – expressing praise.

For other options-

Blatant (Adj) – unashamedly done

Scandalous (Adj) – causing public outrage

Derogatory (Adj) – disrespectful

Unobtrusive (Adj) – not obvious

As per the passage, why were the workers petrified?

01. They had a fear of getting suspended or dismissed from the job.
02. They may get thrashed badly and face humiliation.
03. They might get permanently terminated for giving an interview somewhere.
04. They had a perception that the employers are always rash.
05. All except (4)

देश में शांति और सदभाव बनाए रखना मुश्किल है, जब तक हम में से हर एक अपनी आवश्यकता के बारे में संवेदनशील नहीं हो जाता है और इसके लिए नहीं देता, अकेले सरकार समाज में भाईचारे और मित्रता की भावना को नहीं कर सकती है।

01. धन, बनाए
 02. स्थान, विकसित
 03. समय, सुरक्षित
 04. इनमें से कोई नहीं
 05. योगदान, सन्निश्चित

for Question 160

Ans Key: 5

The answer lies at the end of the second paragraph.

Manipulating data to create information is known as-----.

- ## 01. Feedback

03. Programming 04. Analysis

05. None of these

Q-161 इन्फार्मेशन बनाने के लिए डाटा का मैनिपुलेशन कहलाता है।

hi

01. फीडबैक

02. प्रोसेसिंग

03. प्रोग्रामिंग

04. एनॉलिसिस

05. इनमें से कोई नहीं

Solution for Question 161

Ans Key: 2

eng Manipulating data to create information is known as processing.

hi इन्फार्मेशन बनाने के लिए डाटा मैनिपुलेट करना प्रोसेसिंग कहलाता है।

Q-162 A proxy server is used for which of the following?

eng

01. To provide security against unauthorized users

02. To process client requests for web pages

03. To process client requests for database access

04. To provide TCP/IP

05. None of these

Q-162 निम्न में से किस लिए प्रॉक्सी सर्वर प्रयोग किया जाता है ?

hi

01. अनधिकृत यूजर के लिए सिक्योरिटी उपलब्ध कराना

02. वेब पेज के लिए क्लाइन्ट रिक्वेस्ट प्रोसेस करना

03. डाटाबेस एक्सेस के लिए क्लाइन्ट रिक्वेस्ट प्रोसेस करना

04. TCP/IP उपलब्ध कराना

05. इनमें से कोई नहीं

Solution for Question 162

Ans Key: 1

eng A proxy server is used for providing security against unathorise users.

hi एक प्राक्सी सर्वर का प्रयोग अनअथराइज यूजर को सेक्युरिटी देने के लिए होता है।

Q-163 Which part of the computer helps to store information?

eng

01. Disk drive

02. Keyboard

03. Monitor

04. Printer

05. None of these

Q-163 कम्प्यूटर का कौन सा पार्ट इन्फार्मेशन स्टोर करने में मदद करता है?

hi

01. डिस्क ड्राइव

02. कीबोर्ड

03. मॉनीटर

04. प्रिंटर

05. इनमें से कोई नहीं

Solution for Question 163

Ans Key: 1

eng Disk drive of the computer helps to store information.

hi कम्प्यूटर की डिस्क ड्राइव इन्फार्मेशन स्टोर करने में मदद करते हैं।

Q-164 Some thing which has easily understood instructions is said to be ____.

eng

01. User Friendly

02. Information

03. Word processing

04. Icon

05. None of these

Q-164 वह जिसमें आसानी से समझ में आने वाले इंस्ट्रक्शन होते हैं उसे _____ कहा जाता है।

hi

01. यूजर फ्रेंडली

02. इन्फार्मेशन

03. वर्ड प्रोसेसिंग

04. आइकन

05. इनमें से कोई नहीं

Solution for Question 164

Ans Key: 1

eng	Some thing which has easily understood insturctions is said to be user friendly.
hi	वह जिसके इंस्ट्रक्शन आसानी से समझे जा सकते हैं उसे यूजर फ्रेंडली कहते हैं।

Q-165 Addition to keying data directly into the database, data entry can be done from a/an _____.
eng

- | | |
|-------------------|---------------------|
| 01. Input form | 02. Table |
| 03. Field | 04. Data Dictionary |
| 05. None of these | |

Q-165 डाटाबेस में, डाटा सीधे डालने के लिए, डाटा एन्ट्री _____ से की जाती है।
hi

- | | |
|-----------------------|-------------------|
| 01. इनपुट फार्म | 02. टेबल |
| 03. फील्ड | 04. डाटा डिक्शनरी |
| 05. इनमें से कोई नहीं | |

Solution for Question 165 Ans Key: 2

eng In database, data entry can be done from table.

hi डेटाबेस में, टेबल से डाटा प्रविष्ट किया जाता है।

Q-166 To test the IP stack on your local host, which IP address would you ping?
eng

- | | |
|-------------------|---------------------|
| 01. 127.0.0.0 | 02. 1.0.0.127 |
| 03. 127.0.0.1 | 04. 255.255.255.255 |
| 05. None of these | |

Q-166 लोकल होस्ट पर IP स्टैक टेस्ट करने के लिए कौन सा IP एड्रेस आप पिंग करेंगे?
hi

- | | |
|-----------------------|---------------------|
| 01. 127.0.0.0 | 02. 1.0.0.127 |
| 03. 127.0.0.1 | 04. 255.255.255.255 |
| 05. इनमें से कोई नहीं | |

Solution for Question 166 Ans Key: 3

eng To test the IP stack on your local host, 127.0.0.1 IP address is pinged.

hi लोकल होस्ट पर IP स्टैक टेस्ट के लिए 127.0.0.1 IP एड्रेस को पिंग किया जाता है।

Q-167 Specialist programs that assist users in locating information on the web are called _____.
eng

- | | |
|-------------------------|-----------------------|
| 01. Information engines | 02. Search Engines |
| 03. Web Browsers | 04. Resource Locators |
| 05. None of these | |

Q-167 विशेष प्रोग्राम जो यूजर को वेब पर इन्फार्मेशन लोकेट करने में मदद करते हैं वे _____ कहलाते हैं।
hi

- | | |
|-----------------------|--------------------|
| 01. इन्फार्मेशन इंजन | 02. सर्च इंजन |
| 03. वेब ब्राउजर | 04. रिसोर्स लोकेटर |
| 05. इनमें से कोई नहीं | |

Solution for Question 167 Ans Key: 2

eng Specialist program that assist user in locating information on the web are called search engine.

hi स्पेशल प्रोग्राम जो वेब पर इन्फार्मेशन लोकेट करने में मदद करता है उसे सर्च इंजन कहा जाता है।

Q-168 The process of trading goods over internet is called _____.
eng

- | | |
|----------------------------|----------------|
| 01. e-selling and e-buying | 02. e-trading |
| 03. e-financing | 04. e-commerce |
| 05. None of these | |

Q-168 इंटरनेट पर समान की ट्रेडिंग की प्रक्रिया _____ कहलाती है।
hi

- | | |
|-------------------------|----------------|
| 01. ई-सेलिंग और ई-बाइंग | 02. ई-ट्रेडिंग |
|-------------------------|----------------|

03. ई-फाइनेंसिंग

04. ई-कामर्स

05. इनमें से कोई नहीं

Solution for Question 168

Ans Key: 4

eng Process of trading goods over internet is called e-commerce.

hi इंटरनेट पर चीजों की ट्रेडिंग की प्रक्रिया ई-कामर्स कही जाती है।

Q-169 Arithmetic operations _____.

eng

01. involve matching one data item to another to determine if the first item is greater than, equal to, or less than the other item.
02. Sort data item according to standard, predefined criteria in ascending order or descending order.
03. Use conditions with operators such as AND, OR and NOT
04. Include addition, subtraction, multiplication and division
05. None of these

Q-169 अर्थमैटिक ऑपरेशन _____

hi

01. इसमें एक डाटा आइटम दूसरे से मैच करता है जो यह पता लगाता है कि पहला, दूसरे से बड़ा है, बराबर या छोटा है।
02. डाटा को स्टैंडर्ड, पूर्व निर्धारित मानदंड से आरोही या अवरोही क्रम में शॉर्ट करते हैं।
03. ऑपरेटर के साथ कंडीशन प्रयोग करते हैं जैसे AND, OR और NOT
04. जोड़ना, घटाना, गुणा और भाग होता है।
05. इनमें से कोई नहीं

Solution for Question 169

Ans Key: 4

eng Arithmetic operation is used to add, subtract, multiply and divide.

hi अर्थमैटिक ऑपरेशन में जोड़, घटाना, गुणा और भाग होता है।

Q-170 The basic goal of computer process is to convert data into _____.

eng

01. Files
02. Tables
03. Information
04. Graphs
05. None of these

Q-170 कम्प्यूटर प्रोसेस का बेसिक उद्देश्य, डाटा को _____ में बदलना होता है।

hi

01. फाइल
02. टेबल
03. इंफार्मेशन
04. ग्राफ
05. इनमें से कोई नहीं

Solution for Question 170

Ans Key: 3

eng The basic goal of computer process is to convert data into information.

hi कम्प्यूटर प्रोसेस का आधारभूत उद्देश्य डाटा को इन्फार्मेशन में बदलना होता है।

Q-171 The process of a computer receiving information from a server on the Internet is known as _____.

eng

01. Pulling
02. Pushing
03. Downloading
04. Transferring
05. None of these

Q-171 एक कम्प्यूटर जो इंटरनेट पर सर्वर से इंफार्मेशन प्राप्त करता है उसे _____ कहा जाता है।

hi

01. पुलिंग
02. पुसिंग
03. डाउनलोडिंग
04. ट्रांसफरिंग
05. इनमें से कोई नहीं

Solution for Question 171

Ans Key: 3

eng Downloading is the pricess of a computer receiving information from a server on the internet.

hi हाउनलोडिंग में इंटरनेट पर सर्वर से कम्प्यूटर इन्फार्मेशन लेता है।

Q-172 What happen when we boot up a PC ?

01. Portion of the operating system are copied from disk into memory
02. Portion of operating system are copied from memory to disk
03. Portion of operating system are compiled
04. Portion of the operating system are emulated
05. None of these

Q-172 जब आप PC बूट अप करते हैं तो क्या होता है?

hi

01. ऑपरेटिंग सिस्टम का भाग डिस्क से मेमोरी में कापी होता है।
02. ऑपरेटिंग सिस्टम का भाग मेमोरी से डिस्क पर कॉपी होता है।
03. ऑपरेटिंग सिस्टम का भाग कम्पाइल किया जाता है।
04. ऑपरेटिंग सिस्टम को एम्युलेट किया जाता है।
05. इनमें से कोई नहीं

Solution for Question 172

Ans Key: 1

eng We boot up a PC means - Portion of the operating system are copied from disk into memory

hi हम PC बूट-अप करते हैं इसका अर्थ है आपरेटिंग सिस्टम का भाग डिस्क से मेमोरी में कापी करना होता है।

Q-173 A graphic representation of the sequence of steps needed to solve a problem is called an ____.

eng

01. Program Flow Chart
02. Step Chart
03. Rule Diagram
04. Program Graph
05. None of these

Q-173 किसी समस्या को हल करने के लिए आवश्यक स्टेप की ग्राफिक शृंखला का प्रदर्शन _____ कहा जाता है।

hi

01. प्रोग्राम फ्लो चार्ट
02. स्टेप चार्ट
03. रूल डायग्राम
04. प्रोग्राम ग्राफ
05. इनमें से कोई नहीं

Solution for Question 173

Ans Key: 1

eng A graphic representation of the sequence of steps needed to solve a problem is called an program flow chart.

hi स्टेप का ग्राफिकल रिप्रजेंटेशन जिसका प्रयोग समस्या हल करने में किया जाता है उसे प्रोग्राम फ्लो चार्ट कहते हैं।

Q-174 Check constraint is used to enforce _____

eng

01. Entity integrity
02. Domain integrity
03. Referential integrity
04. User- defined integrity
05. None of these

Q-174 कंस्ट्रेंट चेक करने के लिए _____ का प्रयोग करते हैं।

hi

01. एन्टिटी इंटीग्रिटी
02. डोमेन इंटीग्रिटी
03. रिफरेन्शियल इंटीग्रिटी
04. यूजर डिफाइंड इंटीग्रिटी
05. इनमें से कोई नहीं

Solution for Question 174

Ans Key: 2

eng Check constraint is used to enforce domain integrity.

hi चेक कन्स्टेन्ट का प्रयोग डोमेन इंटीग्रिटी के लिए करते हैं।

Q-175 Which of the following are the computers that can be carried easily?

eng

01. Mini
02. Super
03. PC's
04. Laptop
05. None of these

Q-175 निम्न में से कौन सा कम्प्यूटर है जिसे आसानी से ले जाया जा सकता है?

hi

01. मिनी
02. सुपर
03. पीसी
04. लैपटॉप

05. इनमें से कोई नहीं

Solution for Question 175

Ans Key: 4

eng Laptop are the computers that can be carried easily.

hi लैपटॉप वे कम्प्यूटर है जो आसानी से लिया जाता है।

Q-176 The name that user gives to a document is referred to as _____.

eng

- | | |
|-------------------|-------------------------|
| 01. Document name | 02. File name |
| 03. Name Given | 04. Document - Identity |
| 05. None of these | |

Q-176 नाम जिसे यूजर डॉक्यूमेंट को देता है उसका संदर्भ _____ से होता है।

hi

- | | |
|-----------------------|--------------------------|
| 01. डॉक्यूमेंट नाम | 02. फाइल नाम |
| 03. दिया हुआ नाम | 04. डॉक्यूमेंट आईडेंटिटी |
| 05. इनमें से कोई नहीं | |

Solution for Question 176

Ans Key: 2

eng The name that user gives to a document is referred to a file name.

hi नाम जो यूजर डॉक्यूमेंट को देता है उसे फाइल नाम कहते हैं।

Q-177 _____ is a set of keywords, symbols and a system of rules for constructing statement by which humans can communicate the instruction to be executed by a computer.

eng

- | | |
|------------------------|----------------------------|
| 01. A computer program | 02. A programming language |
| 03. An assembler | 04. Syntax |
| 05. None of these | |

Q-177 _____ कीवर्ड, सिम्बल का सेट होता है और एक स्टेटमेंट बनाने के लिए एक नियमों का सिस्टम होता है जिसे लोग कम्प्यूटर द्वारा एक्जिक्यूट करने के लिए इंस्ट्रक्शन कम्युनिकेट करते हैं।

hi

- | | |
|----------------------------|--------------------------|
| 01. एक कम्प्यूटर प्रोग्राम | 02. एक प्रोग्रामिंग भाषा |
| 03. एसेम्बलर | 04. सिनटेक्स |
| 05. इनमें से कोई नहीं | |

Solution for Question 177

Ans Key: 2

eng A programming language is a set of keywords symbols and a system of rules for constructing statement by which human can communicate the instruction to be executed by a computer.

hi एक प्रोग्रामिंग भाषा जो कीवर्ड, सिम्बल और नियम का सिस्टम होती है जो स्टेटमेंट बनाती है जिसके द्वारा मानव इंस्ट्रक्शन कम्युनिकेट कर सकते हैं।

Q-178 ----- can be another word for program.

eng

- | | |
|-------------------|------------|
| 01. Software | 02. Disk |
| 03. Hardware | 04. Floppy |
| 05. None of these | |

Q-178 ----- प्रोग्राम के लिए दूसरा शब्द हो सकता है।

hi

- | | |
|-----------------------|------------|
| 01. सॉफ्टवेयर | 02. डिस्क |
| 03. हार्डवेयर | 04. फ्लॉपी |
| 05. इनमें से कोई नहीं | |

Solution for Question 178

Ans Key: 1

eng Software can be another word for program.

hi सॉफ्टवेयर, प्रोग्राम के लिए दूसरा शब्द हो सकता है।

Q-179 The dialog box specifies or modifies the worksheet cell range containing data to be charted is _____.

eng

- | | |
|--------------------|-----------------|
| 01. Chart Location | 02. Chart Style |
|--------------------|-----------------|

03. Chart Options

05. None of these

Q-179 डायलॉग बॉक्स जो, वर्कशीट सेल रेंज को वर्णित या मॉडीफाई करता है और चार्ट के लिये डाटा रखता है। वह ----- होता है।
hi

01. चार्ट लोकेशन

02. चार्ट स्टाइल

03. चार्ट ऑप्शन

04. चार्ट सोर्स डाटा

05. इनमें से कोई नहीं

Solution for Question 179

Ans Key: 1

eng Chart location specifies or modifies the worksheet cell range containing data to be charted.

hi चार्ट लोकेशन जो वर्कशीट सेल रेंज को स्पेसिफाई करता है जिसमें रखे हुए डाटा चार्ट किये जाते हैं।

Q-180 Full form of DDR -

eng

01. Dual Divide Rate

02. Divide Data Ratio

03. Dual Data Rate

04. Data Divide Rate

05. Dual Disc Rate

Q-180 DDR का पूर्ण रूप ----- होता है?

hi

01. Dual Divide Rate

02. Divide Data Ratio

03. Dual Data Rate

04. Data Divide Rate

05. Dual Disc Rate

Solution for Question 180

Ans Key: 3

eng DDR stands for Dual Data Rate.

hi DDR का पूर्ण रूप Dual Data Rate है।

Q-181 Artificial intelligence is related with which generation?

eng

01. Ist generation

02. Second generation

03. 5th generation

04. 6th generation

05. None of these

Q-181 आर्टिफिशियल इन्टेलिजेन्स किस पीढ़ी से संबंधित है ?

hi

01. पहली पीढ़ी

02. दूसरी पीढ़ी

03. पांचवी पीढ़ी

04. छठी पीढ़ी

05. इनमें से कोई नहीं

Solution for Question 181

Ans Key: 3

eng Artificial intelligence is related with 5th generation.

hi आर्टिफिशियल इन्टेलिजेन्स पांचवी पीढ़ी से संबंधित है।

Q-182 Using print preview is useful when we want to _____.
eng

01. Delete the document

02. Save the document

03. Colour the document

04. Change the document

05. view how the document will appear when printed

Q-182 जब हम _____ चाहते हैं तो प्रिंट प्रिव्यू प्रयोग करना उपयोगी होता है।

hi

01. डाक्युमेंट डिलीट करना

02. डाक्युमेंट सुरक्षित करना

03. डाक्युमेंट रंगना

04. डाक्युमेंट बदलना

05. डाक्युमेंट प्रिंट करने पर कैसा दिखेगा यह देखना

Solution for Question 182

Ans Key: 5

eng Using print preview is useful when we want to view how the document will appear when printed.

hi डाक्युमेंट कैसा दिखेगा जब प्रिंट किया जायेगा तो इसके लिए प्रिंट प्रिव्यू का प्रयोग किया जाता है।

Q-183 Which of the following refers to the fastest, biggest and most expensive computers?

eng

- | | |
|------------------------|---------------------|
| 01. Personal computers | 02. Super computers |
| 03. Laptops | 04. Note books |
| 05. None of these | |

Q-183 निम्न में से कौन सबसे तेज, सबसे बड़ा और सबसे महंगा कम्प्यूटर है?

hi

- | | |
|-----------------------|--------------------|
| 01. पर्सनल कम्प्यूटर | 02. सुपर कम्प्यूटर |
| 03. लैपटॉप | 04. नोटबुक |
| 05. इनमें से कोई नहीं | |

Solution for Question 183

Ans Key: 2

eng

Super computers refer to the fastest, biggest and most expensive computers.

hi

सुपर कम्प्यूटर का तात्पर्य सबसे तेज, सबसे बड़े और महंगे कम्प्यूटर होते हैं।

Q-184 Animation Schemes can be applied to _____ in the presentation.

eng

- | | |
|-------------------|----------------------|
| 01. Current Slide | 02. All slides |
| 03. Select slides | 04. All of the above |
| 05. None of these | |

Q-184 प्रजेन्टेशन में -----में एनीमेशन स्कीम अप्लाई हो सकती है।

hi

- | | |
|-----------------------|-----------------|
| 01. करेन्ट स्लाइड | 02. सभी स्लाइड |
| 03. सेलेक्ट स्लाइड | 04. उपरोक्त सभी |
| 05. इनमें से कोई नहीं | |

Solution for Question 184

Ans Key: 4

eng

Q-185 Which of the following operations moves text from clipboard?

eng

- | | |
|-------------------|----------|
| 01. Drag and Drop | 02. Cut |
| 03. Paste | 04. Copy |
| 05. None of these | |

Q-185 निम्नलिखित में से कौन-सा ऑपरेशन क्लिप बोर्ड से टेक्स्ट मूव करता है ?

hi

- | | |
|-----------------------|----------|
| 01. ड्रैग एण्ड ड्रॉप | 02. कट |
| 03. पेस्ट | 04. कॉपी |
| 05. इनमें से कोई नहीं | |

Solution for Question 185

Ans Key: 3

eng

Paste operation removes the data from clip board.

hi

पेस्ट ऑपरेशन क्लिप बोर्ड से डाटा हटाता है।

Q-186 Which of the following type of internet access does not require a phone connection?

eng

- | | |
|-------------------|-----------|
| 01. Dial up | 02. Cable |
| 03. Satellite | 04. DSL |
| 05. None of these | |

Q-186 निम्न में कौन एक इन्टरनेट एक्सेस का एक प्रकार है जिसमें फोन कनेक्शन की आवश्यकता नहीं होती है?

hi

- | | |
|-----------------------|----------|
| 01. डायल अप | 02. केबल |
| 03. सैटेलाइट | 04. DSL |
| 05. इनमें से कोई नहीं | |

Solution for Question 186

Ans Key: 2

eng	Cable internet access does not require a phone connection.
hi	केबल इन्टरनेट एक्सेस में फोन कनेक्शन की जरूरत नहीं होती है।

Q-187 Which of the following is the most powerful type of computer ?
eng

- | | |
|-------------------------------|----------------------|
| 01. Professional work station | 02. Desktop computer |
| 03. Internet appliance | 04. Network computer |
| 05. None of these | |

Q-187 निम्न में से कौन सबसे पावरफुल कम्प्यूटर का प्रकार है ?
hi

- | | |
|---------------------------|------------------------|
| 01. प्रोफेशनल वर्क स्टेशन | 02. डेस्कटॉप कम्प्यूटर |
| 03. इंटरनेट एप्लायन्स | 04. नेटवर्क कम्प्यूटर |
| 05. इनमें से कोई नहीं | |

Solution for Question 187 Ans Key: 1

eng Professional work station is a most powerful type of computer.

hi प्रोफेशनल वर्क स्टेशन एक अत्यधिक पावरफुल कम्प्यूटर स्टेशन है।

Q-188 Find out the Input devices from given option?
eng

- | | |
|-----------------------------|-------------------------|
| 01. Digital camera, speaker | 02. microphone, printer |
| 03. keyboard, mouse | 04. scanner, monitor |
| 05. microphone, monitor | |

Q-188 निम्न में से कौन इनपुट डिवाइस है?
hi

- | | |
|--------------------------|-------------------------|
| 01. डिजिटल कैमरा, स्पीकर | 02. माइक्रोफोन, प्रिंटर |
| 03. कीबोर्ड, माउस | 04. स्कैनर, मॉनीटर |
| 05. माइक्रोफोन, मॉनीटर | |

Solution for Question 188 Ans Key: 3

eng Key board and mouse are input device.

hi की बोर्ड और माउस इनपुट डिवाइस हैं।

Q-189 DOS floppy disk does not have _____
eng

- | | |
|----------------------|-----------------------------|
| 01. A Boot Record | 02. A File Allocation Table |
| 03. A Root Directory | 04. Virtual Memory |
| 05. BIOS | |

Q-189 'डॉस' फ्लॉपी डिस्क में _____ नहीं होता है।
hi

- | | |
|-----------------------|-----------------------|
| 01. बूट रिकार्ड | 02. फाइल एलोकेशन टेबल |
| 03. एक रूट डायरेक्टरी | 04. वर्चुअल मेमोरी |
| 05. BIOS | |

Solution for Question 189 Ans Key: 4

eng DOS floppy disk does not have virtual memory.

hi DOS फ्लॉपी डिस्क के पास वर्चुअल मेमोरी नहीं होती है।

Q-190 Which key should be pressed to start a new paragraph in MS-Word?
eng

- | | |
|---------------------|-------------------------|
| 01. Down Cursor key | 02. Shift + Enter key |
| 03. Enter key | 04. Control + Enter key |
| 05. None of these | |

Q-190 एम.एस. वर्ड में नया पैराग्राफ शुरू करने के लिए कौन सी 'की' प्रेस करते हैं?
hi

- | | |
|-------------------|---------------------|
| 01. डाउन कर्सर की | 02. शिफ्ट + इंटर की |
|-------------------|---------------------|

03. इंटर की
04. कंट्रोल + इंटर की
05. इनमें से कोई नहीं

Solution for Question 190

Ans Key: 3

eng Enter key is pressed to start a new paragraph in MS-word.

hi एम.एस-वर्ड में एक नया पैराग्राफ शुरू करने के लिए एन्टर की दबाते हैं।

Q-191 What is the short cut key to highlight the entire column in MS-Excel?

eng

01. Ctrl+ Page Up
02. Ctrl + C
03. Ctrl+ Space Bar
04. Ctrl+ Enter
05. None of these

Q-191 MS-Excel में पूरे कॉलम को हाइलाइट करने के लिए कौन सी शॉर्टकट कुंजी प्रयोग करते हैं ?

hi

01. Ctrl+ Page Up
02. Ctrl + C
03. Ctrl+ स्पेसबार
04. Ctrl+ Enter
05. इनमें से कोई नहीं

Solution for Question 191

Ans Key: 3

eng Ctrl + space bar highlights the entire column.
- Ctrl + C is used for copying
- Ctrl + Enter is used for page break

hi Ctrl + स्पेस बार सम्पूर्ण कॉलम को हाइलाइट करता है।
- Ctrl + C कॉपी करने के लिए प्रयोग होता है।
- Ctrl + Enter पेज ब्रेक के लिए प्रयोग होता है।

Q-192 Microsoft Excel is a powerful.....

eng

01. DBMS package
02. Spreadsheet package
03. Communication S/W Package
04. Word processing package
05. None of these

Q-192 माइक्रोसॉफ्ट एक्सेल एक पावरफुल ----- है।

hi

01. DBMS पैकेज
02. स्प्रेडशीट पैकेज
03. कम्यूनिकेशन सॉफ्टवेयर पैकेज
04. वर्ड प्रोसेसिंग पैकेज
05. इनमें से कोई नहीं

Solution for Question 192

Ans Key: 2

eng Microsoft Excel is a spreadsheet package.

hi माइक्रोसॉफ्ट एक्सेल स्प्रेडशीट पैकेज है।

Q-193 Multiple calculations can be made in a single formula using.....in MS Excel.

eng

01. Smart Formula
02. Standard Formula
03. Complex Formula
04. Array Formula
05. None of these

Q-193 MS Excel में ----- को प्रयोग करके सिंगल फार्मूला में मल्टीपल कैल्कुलेशन होती है।

hi

01. स्मार्ट फार्मूला
02. स्टैंडर्ड फार्मूला
03. कॉम्प्लेक्स फार्मूला
04. ऐरे फार्मूला
05. इनमें से कोई नहीं

Solution for Question 193

Ans Key: 4

eng Array formula allows users for multiple calculations.

hi ऐरे फार्मूला यूजर को मल्टीपल कैल्कुलेशन में सक्षम बनाता है।

Q-194 Comments put in cells are called

eng

- | | |
|-------------------|--------------|
| 01. Smart Tip | 02. Cell Tip |
| 03. Soft Tip | 04. Web tip |
| 05. None of these | |

सेल में किए हुए कमेंट ----- कहलाते हैं।

- | | |
|-----------------------|-------------|
| 01. स्मार्ट टिप | 02. सेल टिप |
| 03. सॉफ्ट टिप | 04. वेब टिप |
| 05. इनमें से कोई नहीं | |

Which option can be used to set custom timings for slides in a presentation?

- | | |
|----------------------|------------------|
| 01. Slide Show Setup | 02. Slider Timer |
| 03. Slider Timings | 04. Rehearsal |
| 05. None of these | |

प्रजेन्टेशन में निम्न में से कौन-सा ऑप्शन स्लाइड की कस्टम टाइम को सेट करने के लिए प्रयोग होता है ?

- | | |
|-----------------------|-------------------|
| 01. स्लाइड शो सेटअप | 02. स्लाइडर टाइमर |
| 03. स्लाइडर टाइमिंग | 04. रिहर्सल |
| 05. इनमें से कोई नहीं | |

Solution for Question 195

Ans Key: 4

Rehearsal option set the custom setting for slide.

रिहर्सल ऑप्शन स्लाइड की कस्टम सेटिंग सेट करता है।

The secret data that restricts entry to some programs is -----

- | | |
|-------------------|-----------------|
| 01. Password | 02. Passport |
| 03. Entry code | 04. Access code |
| 05. None of these | |

सीक्रेट डाटा जो किसी प्रोग्राम में प्रविष्टि से रोकता है, वह ----- होता है।

- | | |
|-----------------------|----------------|
| 01. पासवर्ड | 02. पासपोर्ट |
| 03. इंट्री कोड | 04. एक्सेस कोड |
| 05. इनमें से कोई नहीं | |

Solution for Question 196

Ans Key: 1

Panword is secret data that restricts entry to some programs.

पासवर्ड, गुप्त कोड है जो कुछ प्रोग्राम की प्रविष्टि को रोकता है।

Information that comes from an external source and fed in to computer software is called ____.

- | | |
|-------------------|-------------|
| 01. output | 02. input |
| 03. Throughput | 04. Reports |
| 05. None of these | |

इंफॉर्मेशन जो एक्सटर्नल सोर्स से आता है और कम्प्यूटर सॉफ्टवेयर में प्रविष्टि किया जाता है उसे _____ कहा जाता है।

- | | |
|-----------------------|-------------|
| 01. आउटपुट | 02. इनपुट |
| 03. थ्रुपुट | 04. रिपोर्ट |
| 05. इनमें से कोई नहीं | |

Solution for Question 197

Ans Key: 2

Information that comes from an external source and fed into computer software is called input.

इंफॉर्मेशन जो इक्सटर्नल सोर्स से कम्प्यूटर में डाला जाता है उसे इनपुट कहा जाता है।

What is the main folder on a storage device called -----

- | | |
|--------------------|-------------------|
| 01. Interface | 02. Platform |
| 03. Root Directory | 04. Device Driver |
| 05. None of these | |

Q-198 किसी स्टोरेज डिवाइस में मेन फोल्डर को कहा जाता है.....

hi

- | | |
|-----------------------|--------------------|
| 01. इंटरफेस | 02. प्लेटफार्म |
| 03. रूट डायरेक्टरी | 04. डिवाइस ड्राइवर |
| 05. इनमें से कोई नहीं | |

Solution for Question 198

Ans Key: 3

eng Main folder on storage device is called root directory.

hi स्टोरेज डिवाइस पर मुख्य फोल्डर को रूट डायरेक्टरी कहते हैं।

Q-199 To make a copy of the current document to disk _____.

eng

- | | |
|-------------------------------|--------------------------|
| 01. Use the duplicate command | 02. This can not be done |
| 03. use the “save” command | 04. Copy the document |
| 05. Use the “save as” command | |

Q-199 वर्तमान डॉक्युमेंट की डिस्क में कॉपी बनाने के लिए _____

hi

- | | |
|---------------------------------------|-------------------------------|
| 01. डुप्लीकेट कमाण्ड प्रयोग करते हैं। | 02. इसे नहीं किया जा सकता है। |
| 03. 'सेव' कमाण्ड प्रयोग करते हैं। | 04. डॉक्युमेंट कॉपी करते हैं। |
| 05. 'सेव एज' कमाण्ड प्रयोग करते हैं। | |

Solution for Question 199

Ans Key: 5

eng Use 'save as' command to make a copy of the current document to disk.

hi 'Save as' कमाण्ड का प्रयोग वर्तमान डॉक्युमेंट की कॉपी डिस्क पर करने के लिए करते हैं।

Q-200 With word wrap, when we type a word that extends into the _____ margin, both the insertion point and the word move automatically to the next line.

eng

- | | |
|-------------------|------------|
| 01. Right | 02. Bottom |
| 03. Top | 04. Left |
| 05. None of these | |

Q-200 वर्ड रैप के साथ जब हम एक शब्द टाइप करते हैं तो ये _____ मार्जिन में होते हैं, दोनों इंसर्शन प्वाइंट और शब्द अपने आप अगली लाइन पर मूव कर जाते हैं।

hi

- | | |
|-----------------------|-----------|
| 01. दायां | 02. बॉटम |
| 03. टॉप | 04. बायां |
| 05. इनमें से कोई नहीं | |

Solution for Question 200

Ans Key: 2

eng With word wrap in word, when we type a word that extends into the right margin.

hi वर्ड में रैप के साथ, जब हम एक अक्षर टाइप करते हैं तो वह दायां मार्जिन में बढ जाता है।